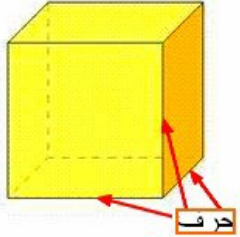
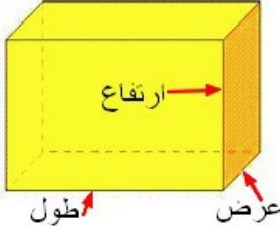
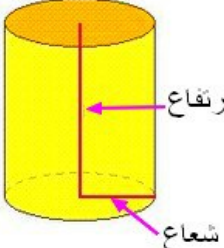


حجم المجسم هو حيز الفضاء الذي يشغله هذا المجسم ويرمز له ب  $V$

**الحجم = مساحة القاعدة × الإرتفاع**

		<p>حجم المكعب = الحرف × الحرف × الحرف</p>
		<p>حجم متوازي المستطيلات = الطول × العرض × الإرتفاع</p>
		<p>حجم الأسطوانة = (الشعاع × الشعاع × <math>\pi</math>) × الإرتفاع (<math>\pi = 3,14</math>)</p>

تمارين

