

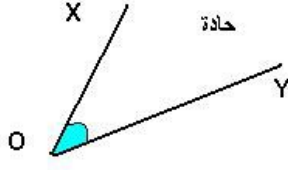
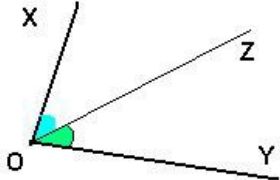
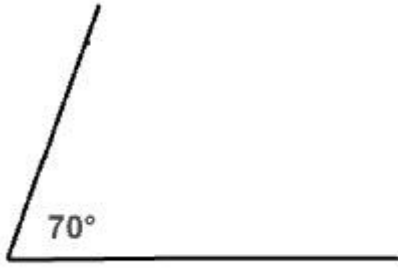
 <p>مستقيمة</p>	<p>\widehat{XOY} زاوية مستقيمة</p>
 <p>منفرجة</p>	<p>\widehat{XOY} زاوية منفرجة</p>
 <p>قائمة</p>	<p>\widehat{XOY} زاوية قائمة</p>
 <p>حادة</p>	<p>\widehat{XOY} زاوية حادة</p>
	<p>[OZ] هو منصف الزاوية \widehat{XOY} منصف زاوية هو نصف المستقيم الذي يجزئ الزاوية إلى زاويتين متقايسيتين وهو محور تماثل لهما.</p>

	<p>أستعمل المسطرة و المنقلة لرسم زاوية قياسها: 70°</p>
---	--

	<p>أستعمل المنقلة لقياس الزوايا قياس هذه الزاوية هو : 112°</p>
---	---