

الاسم الكامل للتلميذ

المستوى السادس


مراقبة مستمرة في الاجتماعيات

التاريخ

(2) رتبّ العصور التاريخية التالية :



العصر الوسيط

العصر الحديث



العصر القديم

العصر المعاصر



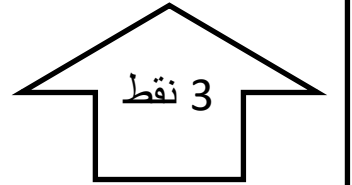
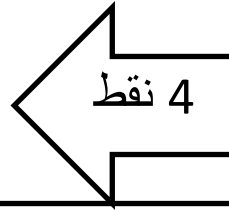
(1) أتمم بما يناسب :

تنقسم عصور ما قبل التاريخ إلى

عصرين : العصر

و..... ويفصل

بينهما ظهور



(3) اختر الجواب الصحيح :

أول حيوان دجنه الإنسان هو : (1 الحصان (2 القط (3 الكلب

سبب استقرار الإنسان البدائي هو : (1 الزراعة (2 اكتشاف النار (3 الصيد

الإنسان الذي اكتشف النار هو : (1 الإنسان العاقل (2 الإنسان المنتصب (3 الإنسان الماهر

3 نقط

الجغرافيا

(2) أتمم بما يناسب : 5 نقط

عدد الجهات في المغرب.....
بصفتي أسكن في مدينة وجدة أنتمي
إلى..... يحد جهتي من
الشرق..... ومن الغرب.....
..... ومن الشمال.....
..... ومن الجنوب.....
.....

(1) لون البطاقة التي تهتم تعريف

الجغرافيا ومجالاتها 5 نقط

أنشطة السكان في
الفلاحة

تدبير التمدن

ميدان الأمن والحماية

الأحوال الجوية

المجال الصناعي

الحياة الثقافية

الإمكانيات الطبيعية

دراسة البراكين

التربية على المواطنة

(1) اختر الجواب الصحيح بوضعه في خط مغلق (نقطة لكل جواب صحيح)

صدرت اتفاقية حقوق الطفل سنة 1 1990 (2 1989 (3 1991

صادق المغرب على هذه الاتفاقية سنة 1 1993 (2 1990 (3 1992

(2) ما هو الهدف من هذه الاتفاقية ؟ (نقطتان)

الجواب :


(3) أذكر حالة يحرم فيها الطفل من حقه . (نقطتان)

الجواب :


(4) هل من حق الأطفال الاشتغال ؟ وفي نظرك لماذا ؟ (4 نقط)

الجواب :


.....



النقطة
على 10



النقطة
على 10



النقطة
على 10