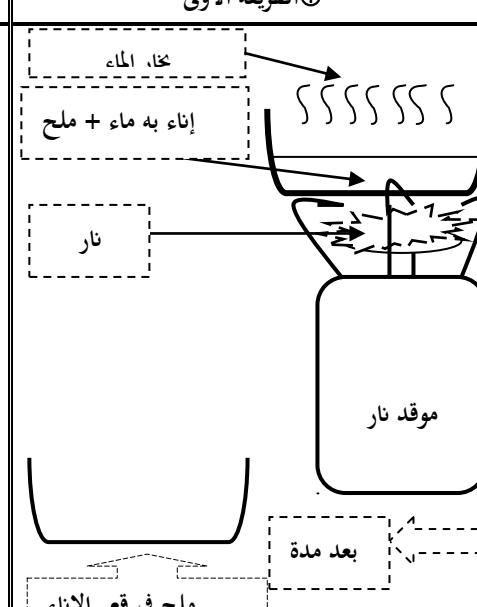
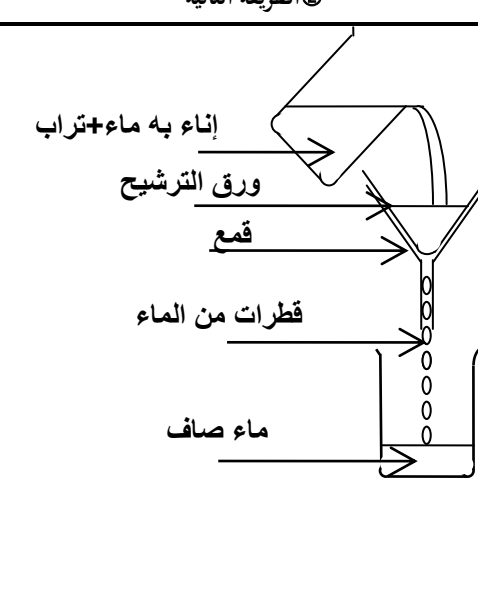
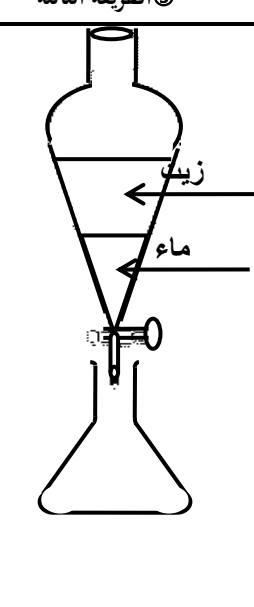


## فرض 1 في النشاط العلمي

لا حظ الرسوم الثلاث لطرق فصل الخلائط واكتب تحت كل طريقة اسمها 1.5 ن

الطريقة الأولى ①	الطريقة الثانية ②	الطريقة الثالثة ③
		
عملية .....	عملية .....	عملية .....

1. أكمل الجمل التالية بما يناسبها انطلاقا من الرسوم أعلاه 1.5 ن

- ✍ تستعمل الطريقة الأولى لفصل الخلائط.....
- ✍ تستعمل الطريقة الثانية لفصل الخلائط.....
- ✍ تستعمل الطريقة الثالثة لفصل الخلائط.....

3. أتم العبارة التالية بما يناسبها مما يلي : 2 ن

غير متجانس - متجانس - ماء الجير - غاز ثنائي أكسيد الكربون

- ✍ المشروبات الغازية خليط ..... يتكون..... و المشروب الغازي ، نكتشف وجود..... باستعمال.....

4. أتم العبارات بما يناسبها مما يلي : 2 ن

يمكن تمييز مكوناته بالعين المجردة - لا يمكن تمييز مكوناته بالعين المجردة

- ✍ الخليط غير المتجانس هو الذي .....
- ✍ الخليط المتجانس هو الذي .....

3 ن [ 0.5 × 6

النشاط الثاني: اربط بخط ما يلي :

5.

مبيض	♦
قضيبي	♦
قناة منوية	♦
رحم	♦
خصية	♦
فرج	♦

♂ عضو توالدي ذكري	♦
♀ عضو توالدي أنثوي	♦