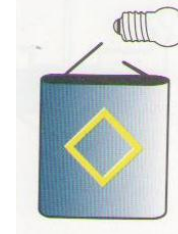


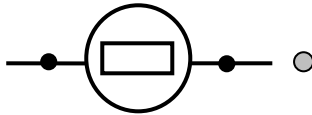
الاسم العائلي و الشخصي : ..... المستوى الرابعة ابتدائي  
التاريخ: .....

النقطة	إمضاء الأب أو الولي	إمضاء الإدارة


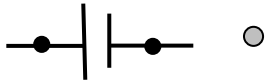
1 / أتمم الرسم ليضيء المصباح



2 / أكتب الاسم المناسب أمام كل سهم ثم أصل كل عنصر برمز



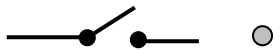
..... ←



..... ←



..... ←



..... ←

3 / أكمل بما يناسب.

لأتحكم في فتح وإغلاق دائرة كهربائية أستعمل .....

4 / أكتب الكلمة المناسبة في المكان المناسب : مغلقا - مفتوحا

لأضئ المصباح. عندما يكون القاطع الكهربائي .....

لأضئ المصباح. عندما يكون القاطع الكهربائي .....

5 / أملأ الفراغ بما يناسب: توازنا - بالسلاسل الغذائية

تعيش الكائنات الحية على بعضها البعض في وسط طبيعي حيث تسمى هذه العلاقات الغذائية .....

مما يخلق ..... في هذا الوسط.