

النشاط العلمي

المراقبة المستمرة 1 الأسدوس الثاني 2014-2015


الاسم الكامل:
التاريخ:
الفوج:
القسم : الثالث ابتدائي

الملاحظة	الإدارة	الأب/ الولي
10		



أصل كل عنصر من عناصر الدارة الكهربائية باسمه.

1



بطارية


قاطع كهربائي

مصباح

أسلاك التوصيل

ألون المصباح أو المصابيح المضيئة

2



1.5

أكتب صحيح أو خطأ داخل كل بطاقة.

3

.....

للنحاس موصل كهربائي

.....

للحقب و القفيرة هما مربط المصباح

.....

للضوء المصباح إذا كان القاطع مفتوحا

.....

للخشب عازل كهربائي.



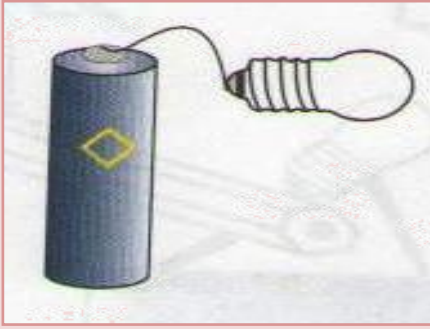
.....

للأضواء المصباح إذا تعطل احد عناصر الدارة الكهربائية

1.25

4

أتمم التراكيب التالية لكي تضيء المصابيح .



1.5

5

أصل بخط

- لا يسمح بالرؤية
- الجسم المعتم
- يسمح برؤية واضحة

0.75

6

أتمم الجملة بالكلمة المناسبة شفاف - معتم

الخشب جسم

0.5

7

أكتب الاسم المناسب أمام كل سهم.



1.5

8

أملأ الفراغ بما يناسب

الجسم ينفذ عبره الضوء. و الجسم لا ينفذ عبره الضوء .

1