


① املا الفراغ بما يناسب: (صحيح او خطأ)

- الخشب موصل للكهرباء
- يضيء المصباح إذا كان القاطع مغلقا
- الجسم المعتم يسمح برؤية واضحة
- لا يضيء المصباح إذا تعطل أحد عناصر الدارة الكهربائية

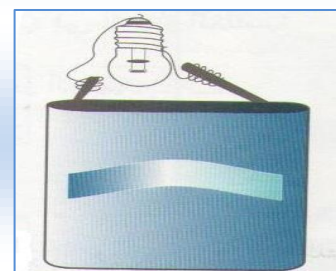
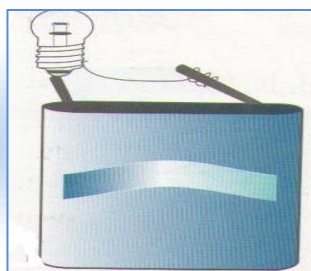
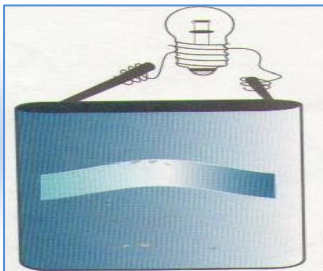
② اكتب اسم كل عنصر من عناصر الدارة الكهربائية:



③ أصل بخط:

- الزجاج الاملس • جسم معتم
- مقلاة • جسم شفاف
- زجاج مخشن • جسم نصف شفاف

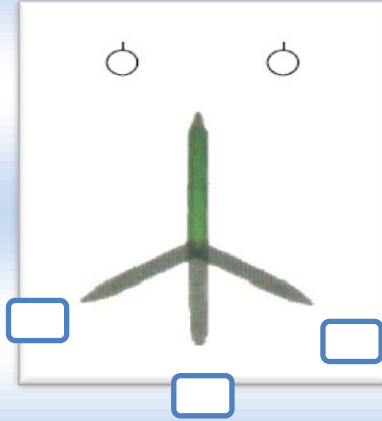
④ اللون بالأصفر المصباح او المصابيح المضيئة في التراكيب التالية:



5 اتمم بما يناسب:

الجسم ينفذ عبره الضوء. الجسم ينفذ عبره القليل من الضوء.

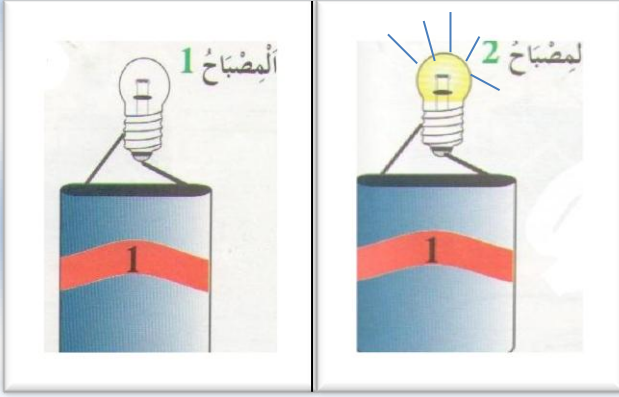
الخطأ:



8 اضع علامة تحت الظل

7 ما هو العنصر المعطل؟

العنصر المعطل هو:



8 أصل بخط:

لا ارمى الحجارة على الاسلاك الكهربائية

اتسلق عمود الكهرباء

لا ادخل الأشياء الحادة في المأخذ

لا استعمل مجفف الشعر اثناء الاستحمام

لتجنب اخطار الكهرباء:

9 اكتب الاسم المناسب امام كل سهم:

