
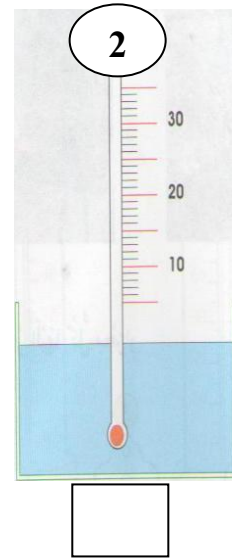

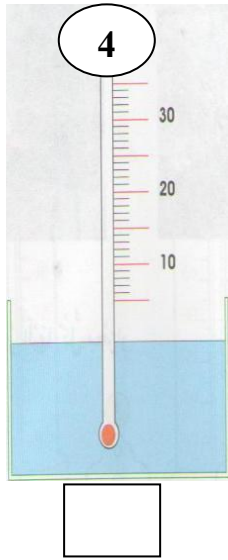



مراقبة مستمرة رقم 2 في النشاط العلمي
اسمي:

1. أكتب الاسم المناسب أمام كل سهم:



2. ألاحظ وأكتب درجة الحرارة التي يشير إليها كل محرار:

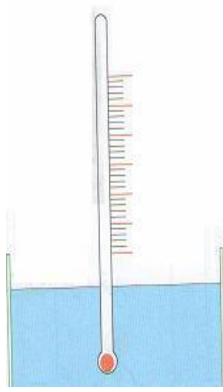


- أعلى درجة هي:

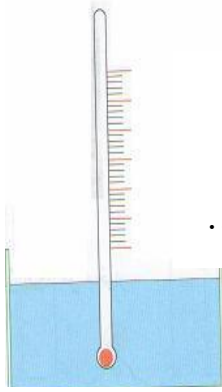
- رقم المحرار الذي يشير إلى أدنى درجة هو:

- أرتب درجات الحرارة من أعلى درجة إلى أدنى درجة:

3. وضعنا محرارين في إناءين مختلفين:



ماء بارد



ماء ساخن

1. لون السائل المحراري في كل حالة.

2. في أي حالة ينزل السائل المحراري؟

.....

اسم الوالي وتوقيعه: