



## الأسدوس الأول



المادة: النشاط العلمي

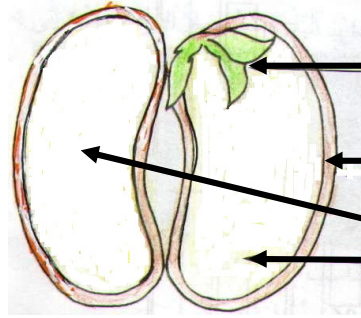
النقطة	الإدارة	الولي
10		

الاسم: .....  
التاريخ: .....  
الفوج: .....  
المستوى: الثالثة ابتدائي

1 أضع علامة (x) تحت البذور.



2 أكتب ما يناسب مكان النقط : فلقتان - قشرة - نبيطة صغيرة



.....

.....


.....

4 اللون :

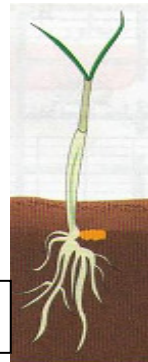

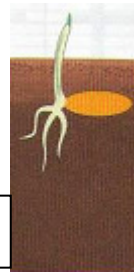
الجذور بالبني.

الساق بالأصفر.

الوريقات بالأخضر.



3 أرتب مراحل إنبات بذرة قمح بترقيمها من 1 إلى 4 .



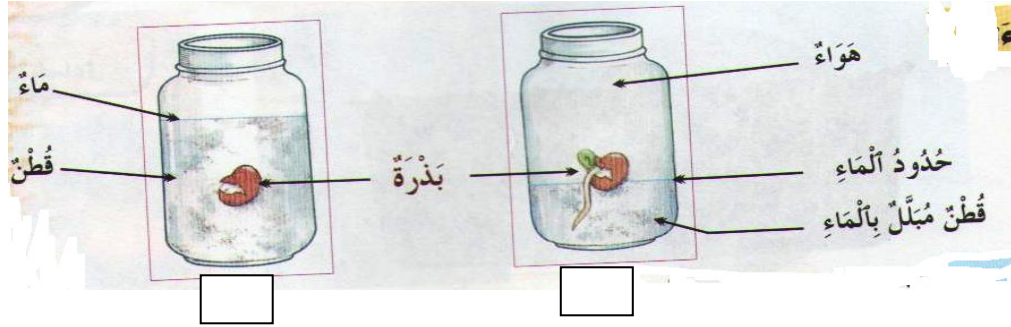
أكمل بما يناسب.

5

ينمو الجذر نحو ..... و ينمو الساق نحو .....

1

6) ألاحظ ثم أضع علامة (x) تحت المناولة التي تثبت فيها البذور.



0.75

7) ألاحظ ثم أملأ الجدول.

أجسام صلبة	أجسام سائلة
.....	.....
.....	.....
.....	.....
.....	.....

حليب  
رمل  
قلم  
خشب  
مقص  
زيت

1.5

8) أحيط الأجسام الصلبة المتراصة.



2

9) أصل بخط.

مقراص

غير مترامص

- مسحوق السكر يأخذ شكل الإناء الذي يوجد فيه فهو جسم صلب

0.5