

النشاط العلمي

المراقبة المستمرة 1 الأسدوس الأول

الاسم الكامل:
التاريخ:
الفوج:
القسم : الثالث ابتدائي

الملاحظة	الإدارة	الأب/ الولي
10		



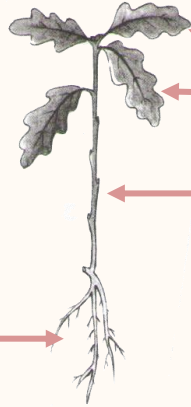
أحيط البذور .

1



أكتب الاسم المناسب أمام كل سهم: ساق - أوراق - جذور

2



أجيب ب : نعم أو لا

3



تعطي البذور عند زرعها نباتات حية جديدة.



تنتشر البذور بواسطة الرياح فقط .



تنتشر البذور بواسطة الرياح أو الماء أو الحيوانات أو الإنسان.

ألاحظ ثم احدد :

4

في أي اتجاه ينمو الجذر؟

ينمو الجذر

في أي اتجاه ينمو الساق؟

ينمو الساق




أضع علامة (x) في الخانة المناسبة

5

زيت	دقيق	مقص	حليب	قلم	حديد	
						جسم سائل
						جسم صلب

أملأ الجدول

6




رمل خشب مسحوق السكر كتاب مسمار نشارة خشب

أجسام صلبة غير متراسة	أجسام صلبة متراسة
.....
.....
.....

ألاحظ ثم أكمل الجملة بما يناسب:

7



ألاحظ أن الماء.....

أكمل بما يناسب : متراس - غير متراس

8

مسحوق السكر يأخذ شكل الإناء الذي يوجد فيه فهو جسم صلب.....