

النشاط العلمي

المراقبة المستمرة 1 الأسدوس الأول

الاسم الكامل:
التاريخ:
الفوج:
القسم : الثالث ابتدائي

الملاحظة	الإدارة	الأب/ الولي
10		

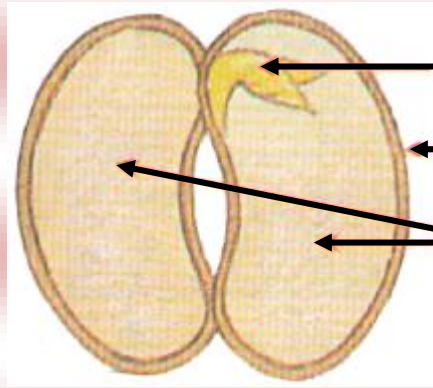


1/ أحيط البذور



1.5

2/ أكتب الاسم المناسب أمام كل سهم: قشرة - نبتة صغيرة - فلقتان



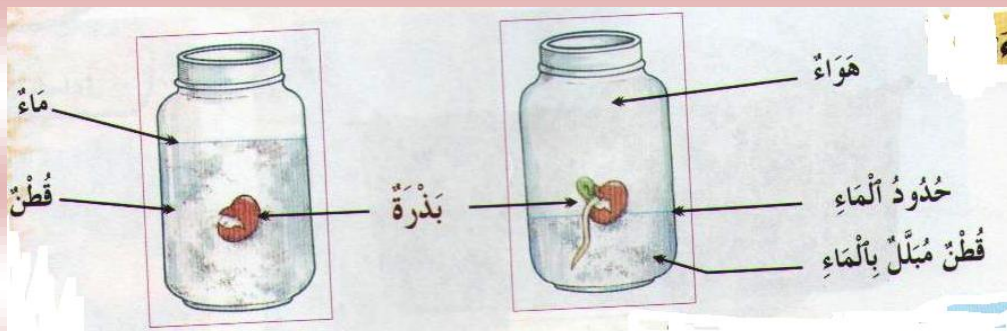
1.5

3/ أجيب ب: نعم أو لا :


- تعطي البذور عند زرعها نباتات حية جديدة.
- تنتشر البذور بواسطة الرياح فقط.
- بعد أيام من الزرع تذبل الفلقتان.

1.5

4 / ألاحظ واضع تحت علامة (x) تحت المناولة التي تنبت فيها البذور



0.5



5/ ألون


☞ الجذور بالبنّي.

☞ الساق بالأصفر.

☞ الوريقات بالأخضر.

1.5

6/ ألاحظ وأملأ الفراغ بما يناسب:



1

..... ينمو الجذر نحو ينمو الساق نحو

7/ ألاحظ الأجسام ثم أملأ الجدول:



مسمار



مطرقة



دقيق



نشارة خشب



رمل



مسطرة

1.5

أجسام صلبة غير متراسة	أجسام صلبة متراسة
.....
.....
.....

8/ أكمل بما يناسب : متراس - غير متراس

مسحوق السكر يأخذ شكل الإناء الذي يوجد فيه فهو جسم صلب.....

1