


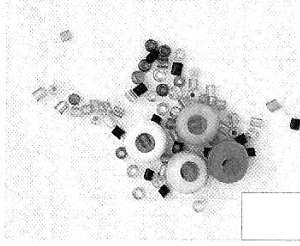
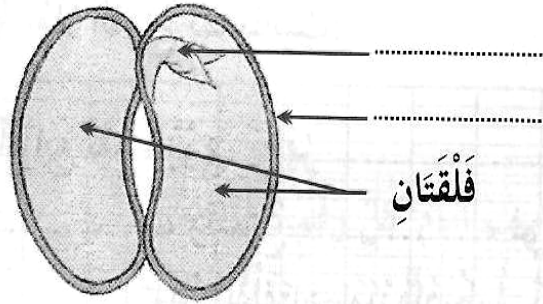


1. ضع علامة (x) تحت البذور: (2 نقط)



2. ضع أسماء للأجزاء التالية: (3 نقط)



3. تنتشر البذور بواسطة..... (نقطة واحدة)

4. ضع علامة (x) في الخانة المناسبة: (4 نقط)

أوكسجين	رمل	هواء	عصير	نفاح	زيت	دقيق	
							صلب
							سائل
							غاز
							يأخذ شكل الإناء الذي يوجد فيه