

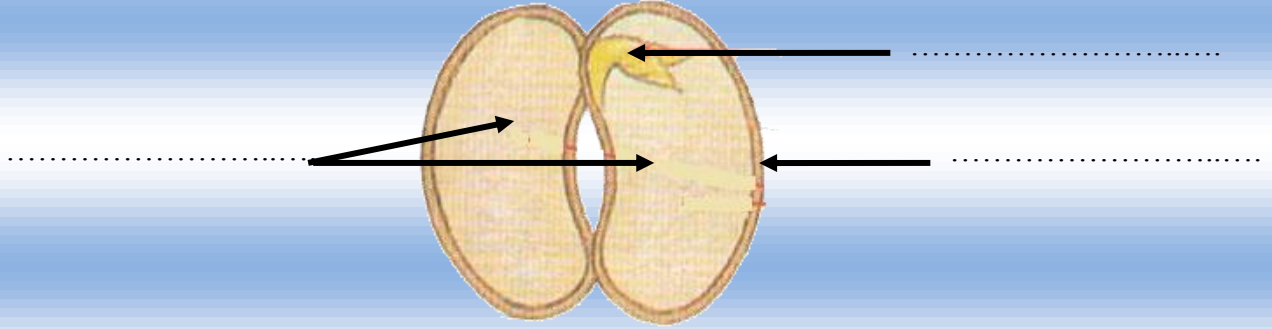
الاسم العائلي و الشخصي :

التاريخ :

النقطة	إمضاء الأب أو الولي	إمضاء الإدارة

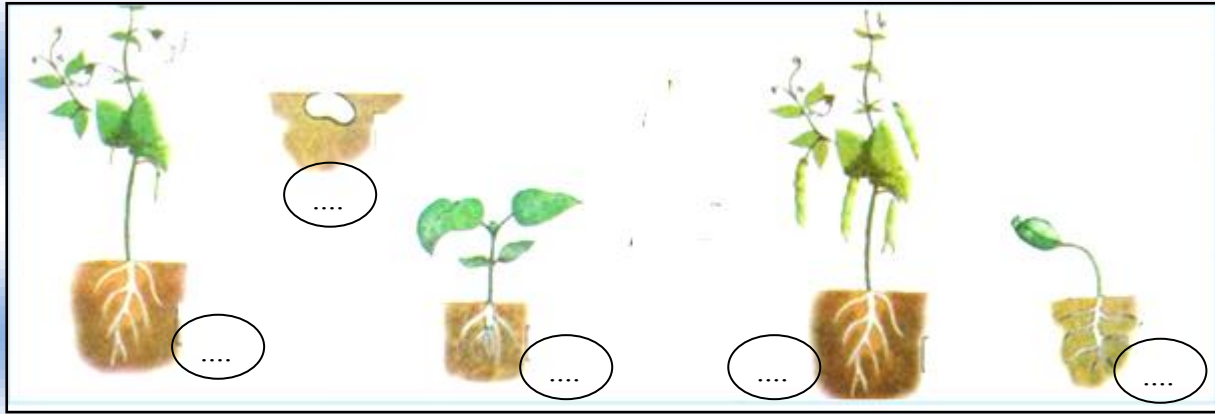
الثالث ابتدائي

1 / أكتب الاسم المناسب أمام كل سهم : فلقتان - نبتة صغيرة - قشرة



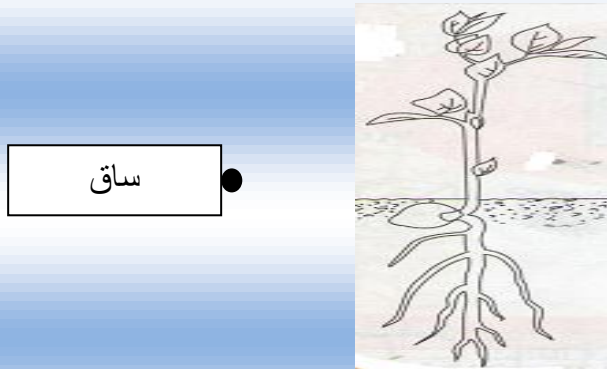
1.5

2 / أرتب مراحل نمو نبتة الفاصوليا بترقيمها من 1 إلى 5 :



1.25

3 / أصل كل بطاقة بالجزء المناسب.



أوراق

ساق

جذور

1.5

4 / أجب بصحيح أو خطأ.

.....
.....
.....
.....

تعطي البذور عند زرعها نباتات حية جديدة .

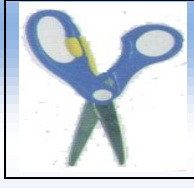
تنتشر البذور بواسطة الرياح فقط .

بعد ايام من الزرع تذبل الفلقتان.

تنتشر البذور بواسطة الرياح أو الماء أو الحيوانات أو الإنسان.

2

5/ ألاحظ الأجسام ثم أكتب ما يناسب داخل كل بطاقة.



مقص




دقيق



مطرقة



مسمار



نشارة خشب



محملة

أجسام صلبة غير متراسة

.....

.....

.....

.....

أجسام صلبة متراسة

.....

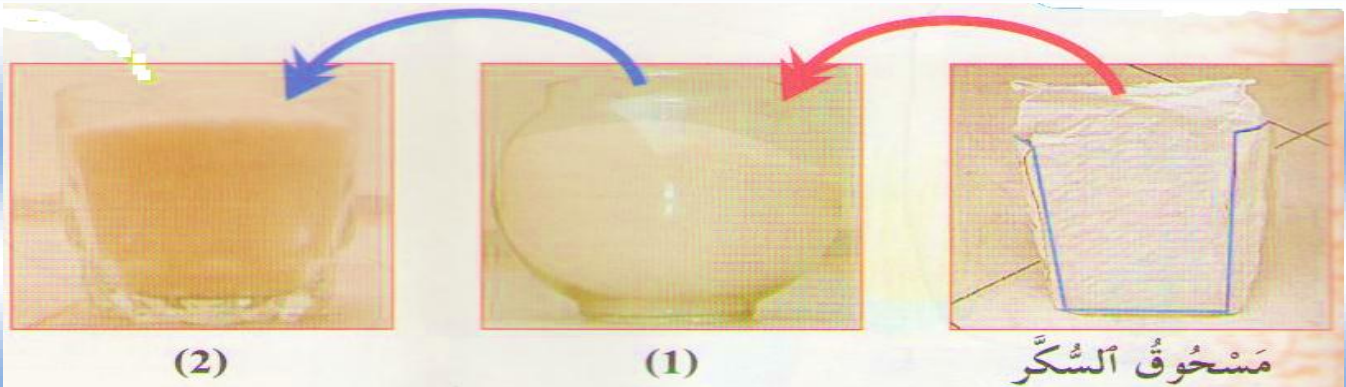
.....

.....

.....

2.75

6/ ألاحظ وأكمل الجملة بما يناسب.



1

• إن مسحوق السكر