

إمضاء الولي:

إمضاء الإدارة:

النقطة:

A

10

أصل بخط أو أكمل:

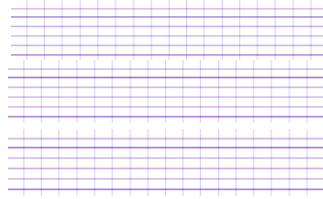
1



.....	1000
ألف ومئتان وخمسون
ثلاث مئة وتسعة	2501
ألف	2 143
ألفان ومئة وثلاثة أربعون	991

أكتب بالأرقام:

2



- 9 وحدات و 7 عشرات و 8 مئات
- 4 وحدات و 23 عشرة
- 3 وحدات و 6 عشرات و 5 مئات

أقارن بوضع الرمز المناسب: < أو > أو = مكان النقط:

3

$$159 \dots\dots\dots 32$$

$$402 \dots\dots\dots 406$$

$$500 + 48 \dots\dots\dots 48$$

$$(2 \times 100) + 45 \dots\dots\dots 267$$

$$(25 \times 10) + 3 \dots\dots\dots 254$$

أملأ الفراغ بما يناسب:

4

- $100 + 20 + 8 = \dots\dots$
- $200 + 30 = \dots\dots$
- $(7 \times 100) + (\dots \times 10) + 4 = \dots 5 \dots$
- $900 + 90 + \dots = \dots 9 \dots$



الاحظ الأثمانة ثم حدد:

5

8 دراهم 	650 درهما 	80 درهما 	45 درهما 	150 درهما
-------------	---------------	--------------	--------------	---------------

.....

أعلى سلعة:


.....

أرخص سلعة:

6

$$325 + 31$$

8



7



● أحسب الثمن الذي دفعه أحمد للتاجر؟

1.5

0.5

0.2 5

0.5

0.5

10

- L

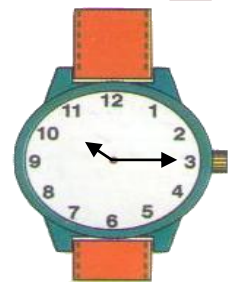
k.

9

11



- العاشرة تماما
- العاشرة و الربع
- العاشرة و النصف
- العاشرة إلا الربع

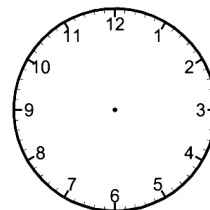


- **تشير الساعة إلى**

غادر محمد منزله على الساعة

12

➡ **أرسم عقربي الساعة التالية ثم أكتب التوقيت:**



وقت المغادرة

