

# الرياضيات

المراقبة المستمرة 1 الأسدوس الأول



الاسم الكامل: .....  
التاريخ: .....  
الفوج: .....  
القسم : الثالث ابتدائي

الملاحظة	الإدارة	الأب/ الولي
10		

1/ أصل بخط

ألف
مئتان وستة عشر
ثلاثة آلاف ومئة وسبعة
ألف وأربع مئة

216
1400
3 107
1 000

2/ أكتب العدد المكون من

7 وحدات و5 عشرات و6 مئات و3 آلاف : .....

126 عشرة 9 وحدات : .....

3/ ضع الرمز المناسب : < أو > أو = مكان النقط

16 ..... 143

(13 x 10) + 6 ..... 136

209 ..... 508

100 + 56 ..... 151

4/ أكمل

300 + 8 = .....

1 000 + 200 + 50 + 7 = .....

(6 x ..... ) + ( . x 100 ) + ( . x 10 ) + 2 = 6 28.

5/ لاحظ أثمان الملابس



150 درهما



195 درهما



230 درهما



85 درهما



225 درهما

أ- حدد ثمن أغلى لباس:

ب- رتب الأثمان من الأصغر إلى الأكبر باستعمال الرمز المناسب

6/ أضع وأنجز مايلي

$$345 + 456$$

$$215 + 132$$

$$458 + 134$$

.....

.....

.....

.....

1.5

7/ اشترت زينب لعبة بثمن 250 درهما ودمية بثمن 35 درهما

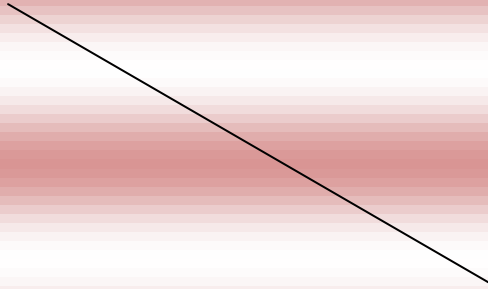
كم دفعت زينب للبائع ؟

.....

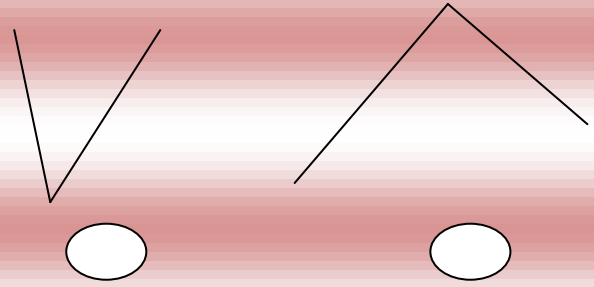
.....

0.75

9/ أرسم مستقيما متعامدا مع المستقيم الأسود



8/ أضع علامة تحت الزاوية القائمة



1

10/ أصل بخط

● الخامسة والنصف

● الخامسة تماما

● الخامسة والربع

تشير الساعة إلى

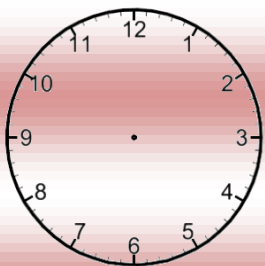


0.25

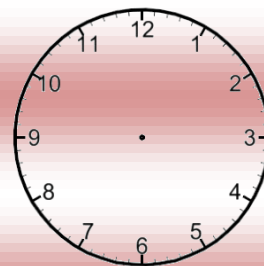
16 : 30

11/ غادرت مريم منزلها على الساعة العاشرة صباحا لزيارة جدتها وعادت على الساعة

ارسم عقربي الساعتين التاليتين :



وقت العودة إلى البيت



وقت المغادرة

1