

الملاحظة	الإدارة	الأب أو الولي
10		

الاسم الكامل: .....

الفوج: .....

التاريخ: .....

المستوى: الثانية ابتدائي

المراقبة الثانية



1- ألاحظ ثم أجيب :

الحاسة المستعملة هي حاسة .....

1

2- أضع علامة (x) تحت الجسم الصلب :



2

3- أصل بخط :

• تطحن الطعام

• القواطع

• تقطع الطعام

• الأنياب


• تمزق اللحم

• الأضراس

1.5

4- أكتب اسم العملية :

تكسير - طحن - تقطيع



2


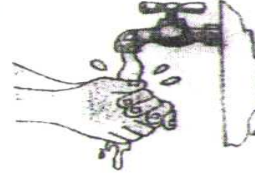
5- أحيط الجواب الصحيح

حاسة الذوق  
حاسة السمع  
حاسة البصر  
حاسة الشم

لعبور الطريق أستعمل

1.5

6- أكتب لا تحت ما يضر حواسي

☐☐☐☐

2