

إمضاء الولي:

إمضاء الإدارة:

10

النقطة:

## 1- املأ الفراغ بما يناسب: أطرافها - حواسها - لسانها.

تستعمل البقرة ..... للبحث، ..... للجري، شفتاها و ..... للقبض

## 2- أصل بخط:

تمزق اللحم

تطحن الطعام

تقطع الطعام

الاضراس

القواطع

الانياب

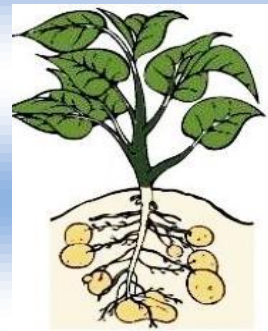
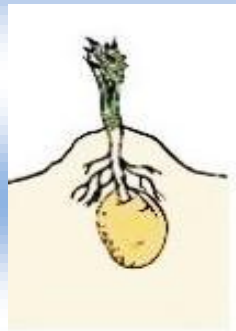




## 3- أكتب نعم او لا:

- أنظف اسناني باستمرار

- العب بالأدوات الحادة

- تناول الأغذية الصحيحة

## 4- أرتب مراحل نمو النبتة بترتيب الصور من 1 الى 4:



5- اكتب صحيح او خطأ في الخانة المناسبة:

- استعمل اثناء المضغ لساني واللحاب والفكين

- الكتف مفصل ضيق الحركة

- الحيوانات لا تنمو

- يقع مفصل الورك بين الفخذ والبطن.

6- أصل بخط:

المخالب والانياب

اللسان والعينان

العينان والمنقار

للحصول على غذائها تستعمل الدجاجة

7- أتمم بما يناسب: الورك – المفصل.

- يسمى موقع التقاء عظمين او أكثر .....

- ..... مفصل واسع الحركة.

8- اكتب اسم المفصل المناسب امام كل سهم: الكعب – الورك – الكتف – الركبة – المرفق.

