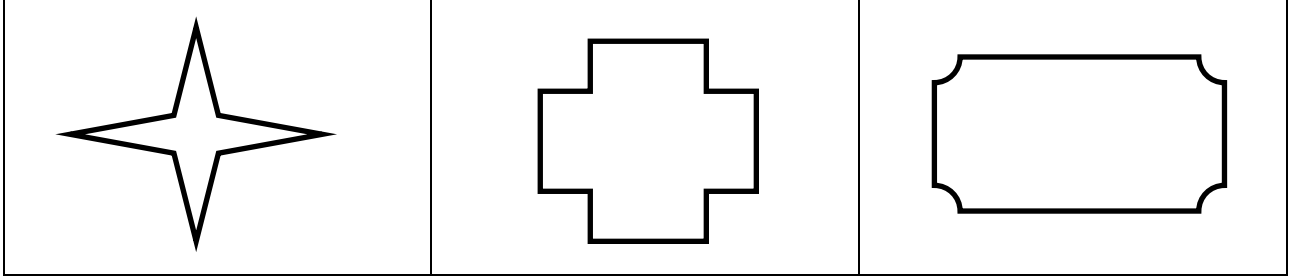
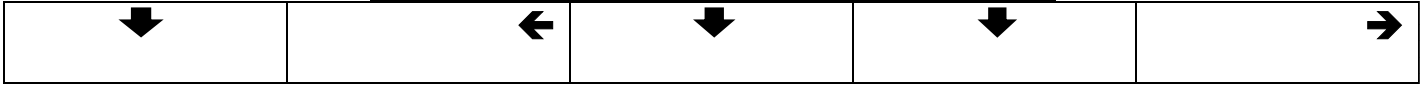
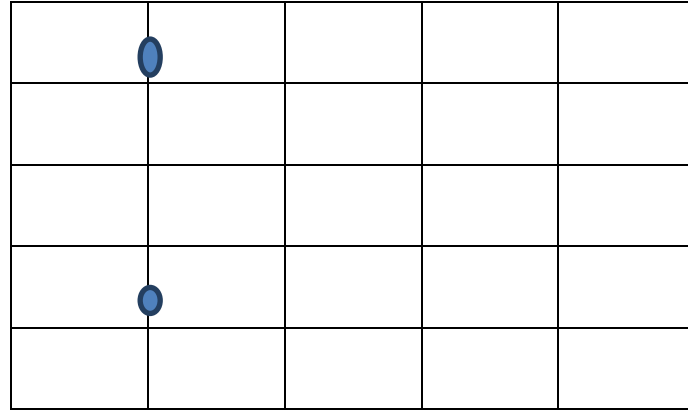


المؤسسة		الموسم الدراسي	2015.2016
الاستاذ		المستوى	الثاني
اسم المتعلم		المادة	الرياضيات
الاختبار الثاني – الدورة الثانية			
النقطة المحصل عليها			
ملاحظات الأستاذ			

1 أرسم محور أو محاور تماثل كل شكل : (2نقط)



2- ارسم المسار على الشبكة (2نقط)



3 أحسب : (3نقط)

$\begin{array}{r} 125 \\ \times 3 \\ \hline \end{array}$	$\begin{array}{r} 12 \\ \times 9 \\ \hline \end{array}$	$\begin{array}{r} 101 \\ \times 7 \\ \hline \end{array}$	$\begin{array}{r} 23 \\ \times 2 \\ \hline \end{array}$
--	---	--	---

4 أنجز العمليات : (3نقط)

$\begin{array}{r} 452 \\ + 299 \\ \hline \end{array}$	$\begin{array}{r} 106 \\ + 398 \\ \hline \end{array}$	$\begin{array}{r} 478 \\ + 362 \\ \hline \end{array}$	$\begin{array}{r} 430 \\ - 202 \\ \hline \end{array}$
---	---	---	---