



المستوى: الثاني من التعليم الابتدائي اسم الأستاذ: مصطفى الفرح	المراقبة المستمرة 1 الدورة الثانية السنة الدراسية 2016/2015 مادة الرياضيات	مؤسسة الكناري الذهبية للتعليم الخصوصي
الملاحظة :	النقطة :	اسم التلميذ :

1- أتمم كما في المثال : ( 3 نقط )

مِئَتَانِ وَ سِتَّةَ وَ خَمْسُونَ	$200+50+6$	256
.....	. + . + .	345
.....	$8+60+500$	.....
سَبْعِمِائَةٍ وَ سِتَّةَ	. + .	.....

2) ضَعِ الْعَدَدَ الْمُنَاسِبَ مَكَانَ النُّقْطِ : ( 2 نقط )

$$(6 \times 100) + (8 \times 10) + 2 = \dots$$

$$(3 \times .) + (5 \times .) + 2 = 35.$$


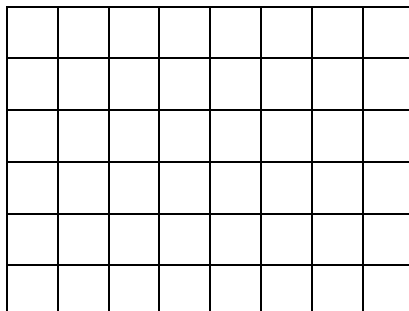
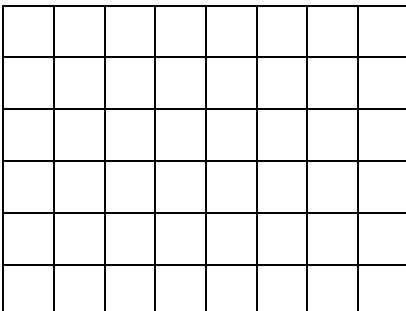
$$(. \times .) + (. \times 10) + 9 = 71.$$

3) ارْسُمْ مُرَبَّعًا وَ مُسْتَطِيلًا وَ مُثَلَّثًا: ( 3 نقط )

المثلث

المستطيل

المربع





(4) ضع < أو > : (2 نقط)

506.....499

345.....674

736 .....688

985.....256

845.....847

456.....429

398.....403

754.....834