

الملاحظة	الإدارة	الأب أو الولي
_____		
10		

اختبار

الاسم: .....

التاريخ: .....

الفوج: .....

المستوى: الثاني ابتدائي A

1- أصل بخط وأكمل:

75	5 + 5 + 5
...	10 + 10 + 10 + 10
5 × 3	مائة وخمسة وثلاثون
40	.....

2- أكتب عددا مناسباً مكان النقط:

25 > .....

;

6 < .....

3- أكتب عدد الأقلام.



..... = . × . = . .

4- أضع الرقم المناسب مكان كل النقطة:

$$\begin{array}{r} . \quad 4 \\ + \\ 5 \quad . \\ \hline 8 \quad 7 \end{array}$$

$$\begin{array}{r} 3 \quad 2 \\ + \\ . \quad . \\ \hline 6 \quad 4 \end{array}$$

5- أثناء فترة الاستراحة دعاك أصدقائك للعب بالكلل.


في بداية الاستراحة كان لدى صديقك علي 5 كلل، وفي نهايتها أصبح لديه 12 كلة.

أ- أحيط الجواب الصحيح:


خسر علي.

ربح علي

ب- أحسب عدد الكلل التي ربحها علي:



6- قرر حسن وأحمد جمع النقود، ولما فتح كل واحد حسالته وجد ما يلي:



**أحمد**


20 درهما

20 درهما

10 دراهم

1 درهم

1 درهم



**حسن**

20 درهما

50 درهما


5 دراهم

2.5


أ- أحسب المبلغ الذي وفره كل طفل:

- يملك حسن : ..... درهما | - يملك أحمد: ..... درهما


ب- دخل حسن و أحمد متجرا لبيع اللعب.




20 درهما



5 دراهم



23 درهما



10 دراهم

- ألاحظ مشتريات حسن ثم أحسب ثمنها:



حسن



..... = .....

أحسب .....  $20 + 23 + 5 =$  ثم أكتب مشتريات أحمد:



أحمد

7- أرسم مستقيما يمر من النقطتين A و B .

A •

B •