



# الأسدوس الأول

النقطة .	الإدارة	الولي
10		



المادة الرياضيات

الاسم: .....  
التاريخ: .....  
الفوج: .....  
المستوى: الثانية ابتدائي

B

1 / أصل بخط:

- 65
- 23
- 100
- 103
- مئة و ثلاثة
- خمسة و ستون
- ثلاثة عشرون
- مئة

2 / أقارن بوضع الرمز المناسب: < أو > أو = مكان النقط:



7 ..... 16	47 ..... 39
23 ..... 19	86 ..... 6+80

3 / أرتب الأعداد التالية من الأصغر إلى الأكبر باستعمال الرمز المناسب :

9 ; 15 ; 43 ; 62 ; 78

4 / أملأ الفراغ بما يناسب :

$$60 + 2 = ..$$

$$98 + .. = 100$$

$$30 + . = 36$$

$$100 + 40 + 7 = ...$$

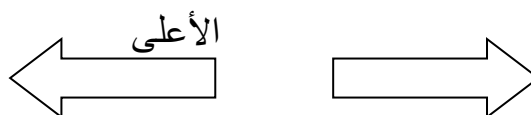
5 / أكتب بالأرقام أو بالحروف :

154 : .....

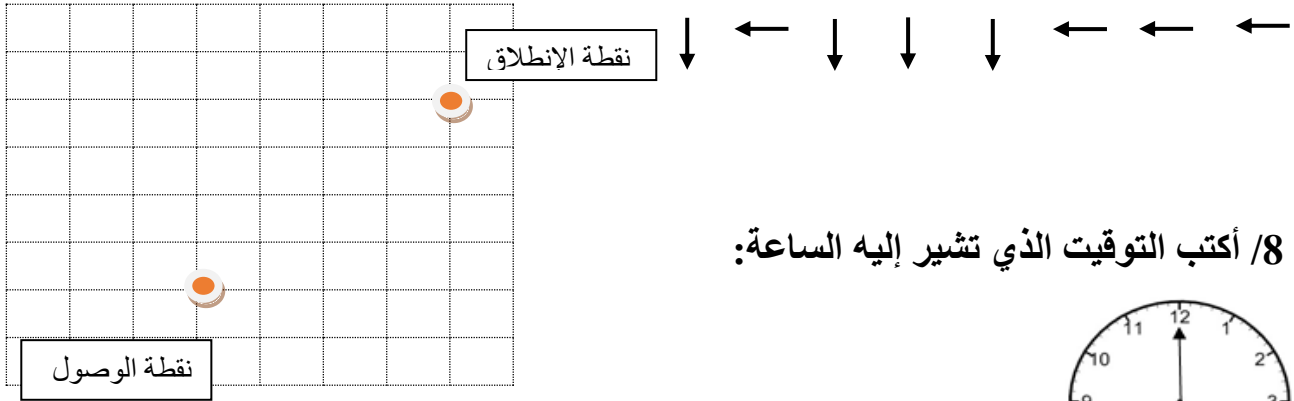
..... : مئة وستون

..... : 3 وحدات و 8 عشرات.

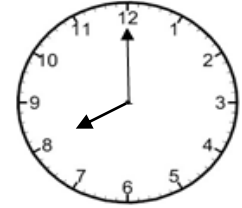
6 / ألون السهم المتجه نحو اليسار:



7/ لاحظ القن ثم أرسم المسار على الشبكة :



8/ أكتب التوقيت الذي تشير إليه الساعة:



تشير الساعة الى .....

9/ أملأ الساعة الالكترونية:

.. : ..

.. : ..

السابعة والنصف

الخامسة والرابع

10 / يملك أحمد النقود التالية :



أ – احسب المبلغ الذي يتوفر عليه عمر:

ب – هل يستطيع عمر شراء لعبة ثمنها 80 درهما

11/ أحيط بخط المبادلة الصحيحة:

