

الملاحظة	الإدارة	الأب أو الولي
10		

مراقبة مستمرة رقم 1

الاسم:

التاريخ:

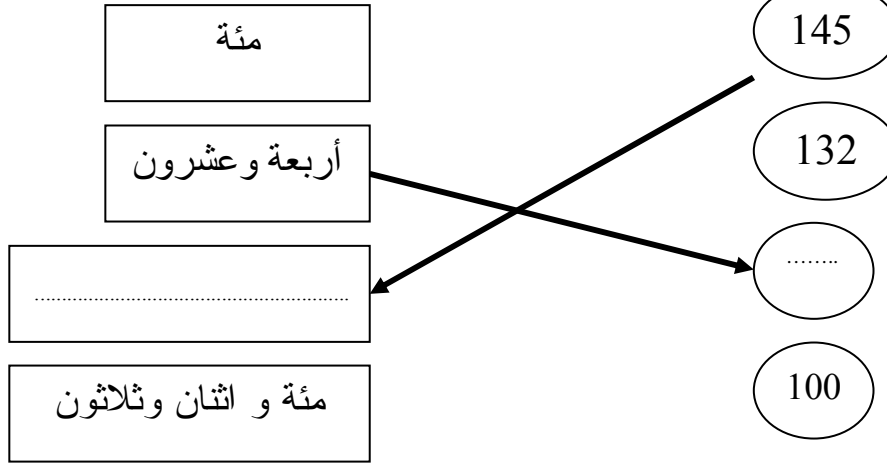
الفوج:

المستوى: الثانية ابتدائي

A

الأسدس الأول

1- أصل بخط وأكمل.



2- أكتب العدد المكون من:

3 عشرات:

3 وحدات و 6 عشرات:

4 وحدات و 5 عشرات ومئة واحدة:

3- أضع الرمز المناسب: < أو > أو = مكان النقط :


6 15
21 12

37 30 + 7
4 2 40

4- أصل بما يناسب

- الخامسة و النصف
- الخامسة و الربع
- الخامسة تماما

تشير الساعة إلى ●



5 - أحسب

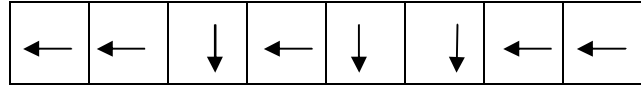

$$6 + \dots = 10$$

$$12 + \dots = 14$$

$$30 + 2 = \dots$$

$$50 + \dots = 60$$

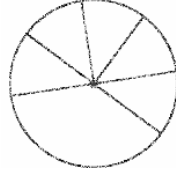
6- أ- لاحظ القن ثم ارسم المسار على الشبكة



ب- هل سيصل الأرنب إلى الجزر؟

.....

7- يوجد في علبة 8 قطع من الجبن . أكل عمر بعضها منها. وبقي بالعلبة 5 قطع .



ما هو عدد القطع التي أكلها عمر؟

.....

8- لاحظ النقود التي يتوفر عليها كل طفل



علي



أحمد

أ- احسب:

المبلغ الذي يتوفر عليه أحمد

.....

المبلغ الذي يتوفر عليه علي

.....

ج- من يستطيع شراء اللعبة ؟

.....



100 درهم