

الأسدوس الثاني



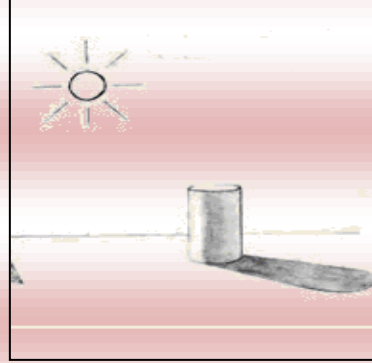
النشاط العلمي

النقطة	الإدارة	الولي
10		

الاسم :
التاريخ :
الفوج :
المستوى : الأولى ابتدائي



حاجز



1 / أصل بسهم

مصدر ضوئي

ظل

0.75

2 / أكتب : شفاف - نصف شفاف - معتم :



جسم



جسم



جسم



1.5

3 / أضع علامة (X) أمام الجمل الصحيحة :

- ☐ يوجد الحاجز بين المصدر الضوئي و الظل .
- ☐ الرمل جسم شفاف.
- ☐ الشمس مصدر ضوئي .
- ☐ الجسم الشفاف لا يسمح بالرؤية

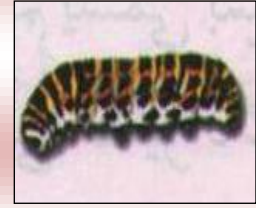
2

4 / أضع علامة (X) تحت كل حيوان ولود .



1

5 / أصل بخط



1


بيضة

حورية

أسروع

فراشة


6 / أرتب مراحل نمو التدرج بترقيمها من 1 إلى 5



1.25



7 / أصل كل حيوان بصغيره:



8 / أجيب ب: نعم أو لا

لأصبح صديقا للماء:

☐

لا ألقى الأزبال في الماء .

☐

أحافظ على الماء من التبذير .

☐

أبحث عن الحيوانات الموجودة في الماء لأقتلها

1.5