

النشاط العلمي

المراقبة المستمرة [الأسدوس الثاني]

الاسم الكامل:
التاريخ:
الفوج:
القسم : الأول ابتدائي

الملاحظة	الإدارة	الأب/ الولي
10		



الهدف : تعرف على بعض الأغذية ومصادرها وفوائدها.

معرفة

1 أصل بين الغذاء ومصدره.




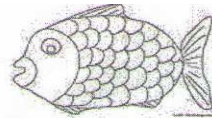



فهم

2 ألون:


☞ الأغذية من أصل نباتي بالأخضر.

☞ الأغذية من أصل حيواني بالأحمر.




3

أحيط الحليب ومشتقاته.



أشطب ما يضر صحتي.

4



0.5

الهدف: اكتشاف تنوع الأنظمة الغذائية عند الحيوانات (التمييز بين الحيوان :العاشب واللاحم).

معرفة

أصل كل حيوان بغذائه.

5



1

أكتب ما يناسب تحت كل حيوان: عاشب - للاحم

6



1.5

فهم

من بين هذه الحيوانات: حيوان للاحم أحيطه بخط مغلق.

7



خروف

لقلاق

حصان

0.75

أضع علامة X في بطاقة الجواب الصحيح.

☛ الحيوان اللّاحم يتغذى بأغذية من أصل حيواني. ☐

☛ الفيل حيوان عاشب. ☐

☛ القنينة حيوان لّاحم. ☐

☛ اللبؤة حيوان لّاحم. ☐

