

امضاء الولد :

امضاء الإدارة :

النقطة:



10

**1 / أصل الحيوان بغذائه**

1.5



**2 / أكتب : لاهم - عاشب - قارت:**



2

**3 / أضع علامة ( ) تحت السلسلة الغذائية الخاطئة :**



عشب ← قنية ← ثعلب



فأر ← جزر ← بومة



**4 / أجب ب : نعم أو لا**



- الحيوان العاشب يتغذى بأغذية من أصل نباتي



- الحلزون حيوان لاهم .



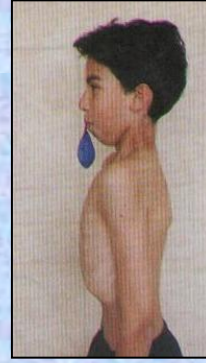
- القنفذ حيوان لاهم.

1.5

5 / ألون البطاقة الصحيحة :

حالة شهيق


حالة زفير



6 / أضع علامة (X) أمام الجمل الصحيحة:

- ☐ - خلال الشهيق يدخل الهواء إلى الجسم .
- ☐ - الهواء الملوث مفيد لجسم الإنسان .
- ☐ - إشعال النار خطير و ملوث للهواء

7 / أشطب ما يضر الجهاز التنفسي



8 / أضع علامة (X) تحت رئتي شخص يدخن

