

الرياضيات

المراقبة المستمرة 2 الأسدوس الثاني

الاسم الكامل:
التاريخ:
الفوج:
القسم : الأولى ابتدائي

الملاحظة	الإدارة	الأب/ الولي
10		



الهدف: أن يكون المتعلم قادرا على تعرف الأعداد من 0 إلى 99 كتابة وقراءة وتفكيك ومقارنة وترتيب.

معرفة

1

أصل بخط.



76

54

33

40

ستة وسبعون

ثلاثة وثلاثون

أربعون

أربعة وخمسون

فهم

2

أكتب العدد المكون من:

3 ب.

$$10 + 10 = \dots\dots$$

$$40 + 6 = \dots\dots$$

3 عشرات هي:

5 وحدات و 6 عشرات هي:



أكمل:

$$10 + \dots\dots = 12$$

$$\dots\dots + \dots\dots = 27$$

5

أقارن بوضع أحد الرموز: < أو > أو = مكان النقط.

$$7 \dots\dots 16$$

$$12 \dots\dots 21$$

$$50 \dots\dots 40$$

$$30 + 5 \dots\dots 20 + 5$$

$$30 + 7 \dots\dots 37$$

$$56 \dots\dots 57$$



1.5

الهدف: تعرف النقود واستعمالها في وضعيات بسيطة.

فهم


6

ألاحظ ثمن الحلوى ثم أحيط القطع النقدية اللازمة لشرائها وأكمل الكتابة.



0.75

50 =



أ- ألاحظ ثم أحسب المبلغ الذي يتوفر عليه محمد:

7



0.75

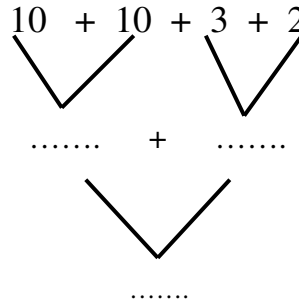
ب- هل يستطيع محمد شراء النفاخة بما لديه من نقود ؟

.....

الهدف: تعرف التقنية الاعتيادية للجمع.

فهم

أكمل. 8



0.75

أنجز العمليات التالية.

9

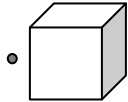
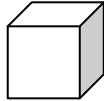
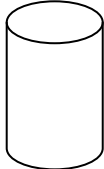

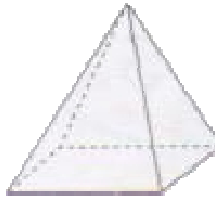
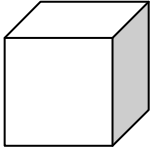
$$\begin{array}{r} 25 \\ + 12 \\ \hline \end{array}$$

$$\begin{array}{r} 17 \\ + 2 \\ \hline \end{array}$$

$$\begin{array}{r} 32 \\ + 13 \\ \hline \end{array}$$

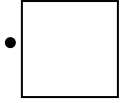
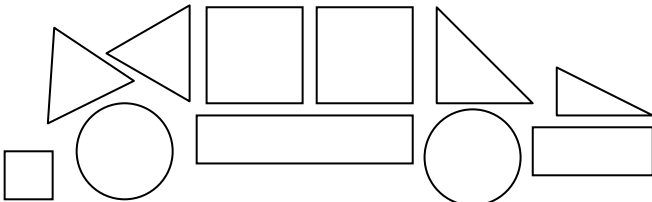
0.75

الهدف: تعرف وتصنيف بعض المجسمات .

معرفة		فهم	
10	أصل بخط.	11	المكعبات.
			
	يخرج		
	لا يخرج		
			
			

0.75

الهدف: تعرف وتمييز الأشكال الهندسية .

معرفة		فهم	
12	أصل الشكل باسمه.	13	ن:
		- المثلثات بالأحمر.	
	• مثلث	- الأقراص بالأزرق.	
	• مربع		
			

1.75

