

الاسم العائلي و الشخصي : ..... المستوى الأولي ابتدائي التاريخ: .....



النقطة	إمضاء الأب أو الولي	إمضاء الإدارة



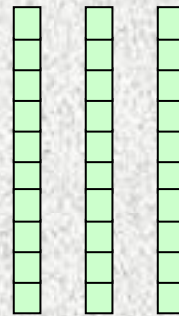
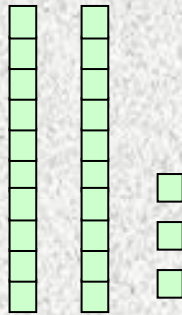
## 1 / أملأ الجدول

16	.....
40	.....
..	ثمانية و ثلاثون
..	اثنان و خمسون



## 2 / أرسم 26 قرصا


## 3 / أملأ الفراغ بما يناسب:



$$... + ... + ... = ....$$

$$... + ... + ... = .....$$

## 4 / أكمل :

$$8 + 8 = .....$$

$$10 + 10 + 10 + 10 = .....$$

$$30 + 6 = .....$$

$$20 + . = 25$$

5 / أقرن باستعمال الرمز المناسب : < أو > أو =

• 9 ..... 12

• 10 + 3 ..... 13

• 18 ..... 11

• 10 + 2 ..... 10 + 6



6 / أرتب الأعداد التالية من الأكبر إلى الأصغر.

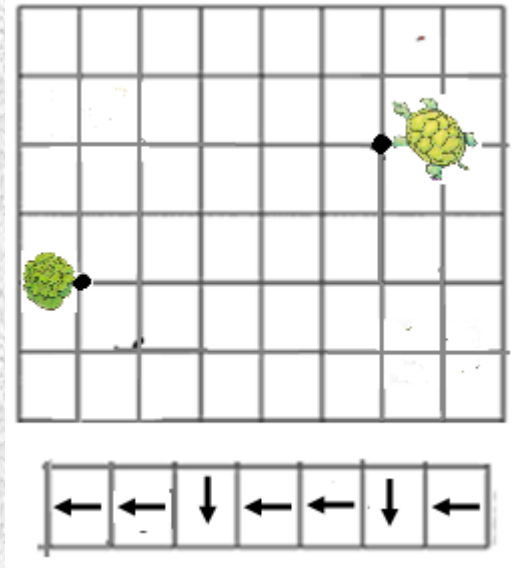
8 ; 10 ; 19 ; 4 ; 13

..... > ..... > ..... > ..... > .....

7 / أكتب التوقيت بالنسبة لكل ساعة



8 / أرسم المسار الذي ستسلكه السلحفاة للوصول إلى الخس



9 / أضع علامة ( X ) تحت المجسمات التي لا تتدحرج .

