

الأسدوس الثاني

النقطة	الإدارة	الولي
10		



المادة الرياضيات

الاسم:
التاريخ:
الفوج:
المستوى: الأولى ابتدائي

1 / أصل بخط أو أكمل.



أربعة وعشرون

37

□ □

سبعة و ثلاثون

24

ثلاثة عشر

50

3 / ألون 25 مربعا

2 / أكتب بالأرقام:

[illegible]

4/ أملأ الفراغ بما يناسب:

A 4x3 grid of 12 empty circles, arranged in 4 rows and 3 columns.

$$\dots + \dots + \dots =$$

$$\dots + \dots + \dots = \dots$$

[illegible]

$$\dots + \cdot = \dots$$

5 / أحسب :

$$10 + 5 = \dots\dots\dots$$

$$10 + 10 + 10 + 2 = \dots\dots\dots$$

$$40 + 3 = \dots\dots\dots$$

$$20 + 10 = \dots\dots\dots$$



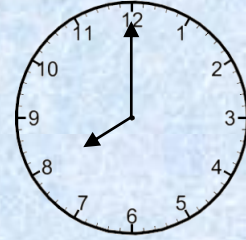
6 / أصل بخط :

السابعة

السادسة

الثامنة

تشير الساعة إلى



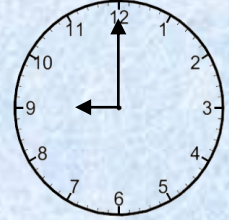
8 / أملأ الساعة الإلكترونية :




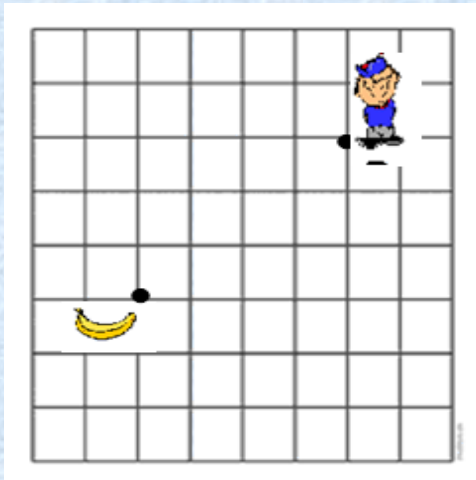
..... :

7 / أكتب التوقيت بالنسبة لكل ساعة

04 : 00



9 / أرسم المسار الذي سيسلكه الطفل للوصول إلى الموزة :



10 / ألون المجسمات التي تتدحرج

