

إمضاء الولي:

إمضاء الإدارة:

النقطة:




10

1 / أملأ الجدول



.....	14
.....	32
خمسون	..
ثلاثة وعشرون	..

2 / أصل بخط



20

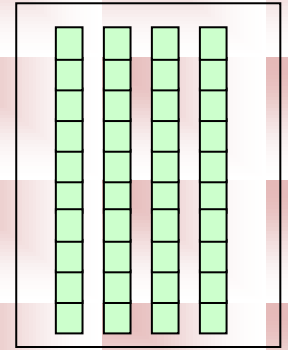
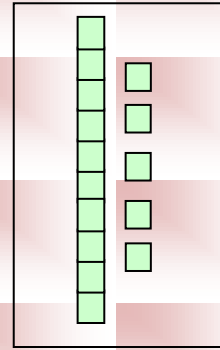
8

13

11

4 / ألون 23 مربعا

3 / أكتب بالأرقام





$10 + 4 = \dots\dots\dots$

$40 + 5 = \dots\dots\dots$


$30 + 10 = \dots\dots\dots$

$10 + 10 + 10 + 2 = \dots\dots\dots$

5 / أحسب :

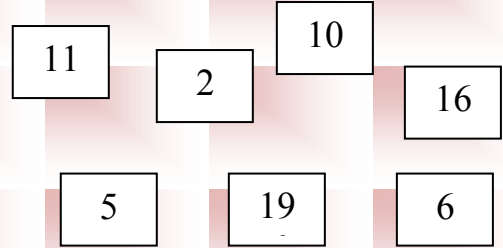
1

7 / أكتب التوقيت بالنسبة لكل ساعة.




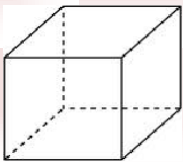
06 : 00

6 / ألون بطاقة أكبر عدد.

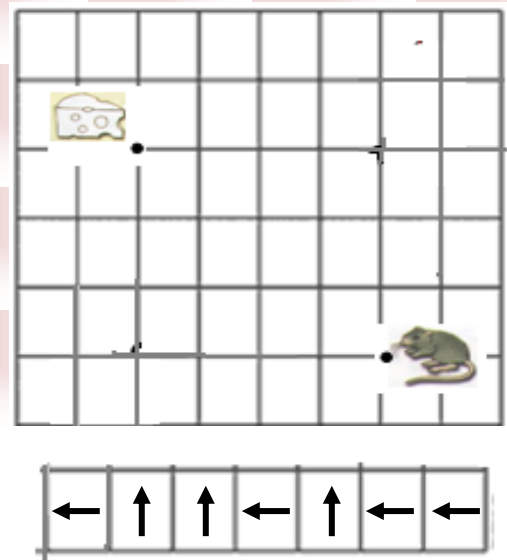


1.75

9 / أحيط بخط المجسمات التي تتدحرج



8 / أرسم المسار الذي سيسلكه الفار للوصول إلى الجبن



1.75

10 / ألون : - بالأحمر السيارة الأولى.

- بالأزرق السيارة الرابعة.

1

