

المؤسسة	م.م عين الشفاء	الموسم الدراسي	2016-2015
الاستاذ	إقبال أوعيسى	المستوى	الأول
اسم المتعلم		المادة	الرياضيات
الاختبار الثاني – الدورة الأولى			
النقطة المحصل عليها			
ملاحظات الأستاذ			

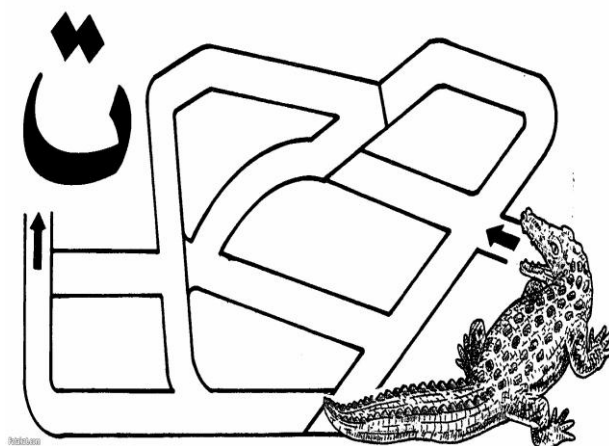
1 - اتمم:

							+	-	x	+
--	--	--	--	--	--	--	---	---	---	---

3. اتمم :

$5 + \dots\dots\dots = 8$
$4 + \dots\dots\dots = 6$
$3 + \dots\dots\dots = 7$
$8 + \dots\dots\dots = 9$
$2 + \dots\dots\dots = 7$

2 - ألون سييل التماسح لحرف التاء :



5- أضع الرمز المناسب < أو > :

4.....3	5.....2
0.....1	4.....8
2.....5	6.....7
9.....6	1.....3



4. أصل العدد 8 بكتاباته :

$5+3$	$3+4$	$5+2$
$4+4$	8	$7+1$
$3+3$	$2+6$	$3+2$

8

6. أكمل رسم المثلثات حسب الجدول



	
5	2