



الأسدوس الأول


النقطة	الإدارة	الولي
10		



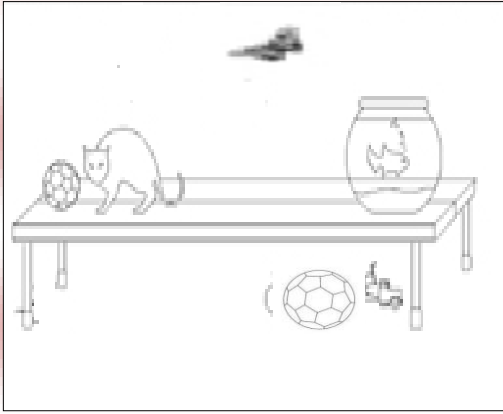
المادة الرياضيات

الاسم:
التاريخ:
الفوج:
المستوى: الأولى ابتدائي

1 / ألون الحززون الموجود في الأمام.




2 / ألون : - بالأصفر ما يوجد تحت الطاولة.




- بالأزرق ما يوجد على الطاولة.

4 / أرسم كرة داخل الخط



3 / ألون الحيوان الموجود أسفل الشجرة



5 / أحيط بخط السهم المتجه نحو اليمين





6 / أصل بخط :


• عن يمين الولد

توجد الهدية .

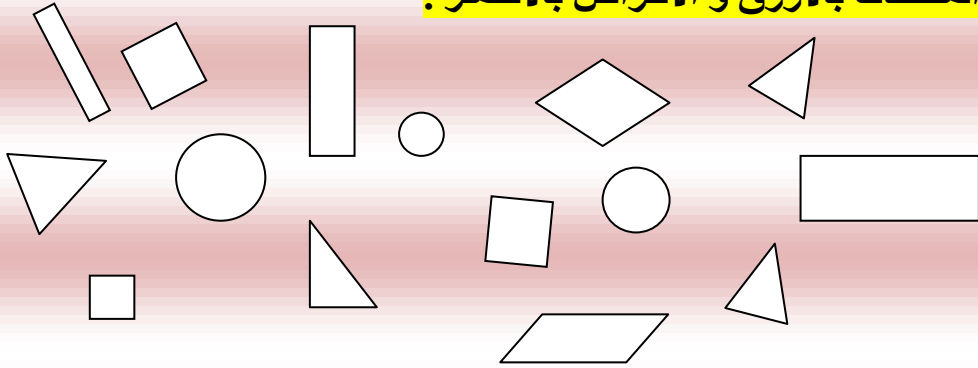
• عن يسار الولد

0.75

7 / أضع علامة (x) تحت أطول قلم.



8 / ألون المثلثات بالأزرق و الأقراص بالأحمر .




1

9 / أحيط بخط الجملة الصحيحة :

→ البالونات بقدر الأطفال

→ البالونات أكثر من الأطفال



10 / أكتب العدد المناسب داخل كل بطاقة :

