

## Leçon 6 : Le poids et la masse,

### Exercices d'application :

#### Exercice 1 :

Neil ARMSTRONG fut le premier homme à poser le pied sur la Lune lors de la mission Appolo XI le 21 Juillet 1969 .

Il a une masse sur la Terre de **70 kg** .


( Données :  $g_{Terre} = 10 \text{ N/kg}$  ;  $g_{Lune} = 1,6 \text{ N/kg}$  )

- 1- Calculer l'intensité du poids de Neil Armstrong sur la Terre ?
- 2- Quelle était sa masse sur la lune ? Justifiez
- 3- Calculer l'intensité du son poids sur la Lune ?

La Terre : الأرض

La Lune : القمر

Le poids : الوزن



## Leçon 6 : Le poids et la masse,

### Correction des exercices:

constante (invariante)

ثابت ( لا يتغير )

### Exercice 1

#### 1- L'intensité du poids de Neil Armstrong sur la Terre,

On a

$$P = m \times g$$

Avec :  $m = 70 \text{ kg}$   
 $g = g_{\text{Terre}} = 10 \text{ N/kg}$

A.N

$$P = 70 \times 10$$

$$P = 700 \text{ N}$$

#### 2- La masse de Neil Armstrong sur la lune

- la masse est une grandeur physique constante (invariante) **ne dépend pas du lieu** où on se trouve .

Alors : La masse de Neil Armstrong sur la lune est :  $m = 70 \text{ kg}$

#### 3- L'intensité du poids de Neil Armstrong sur la lune,

On a

$$P = m \times g$$

Avec :  $m = 70 \text{ kg}$   
 $g = g_{\text{Lune}} = 1,6 \text{ N/kg}$

A.N

$$P = 70 \times 1,6$$

$$P = 112 \text{ N}$$

## Leçon 6 : Le poids et la masse,

### Exercices d'application :

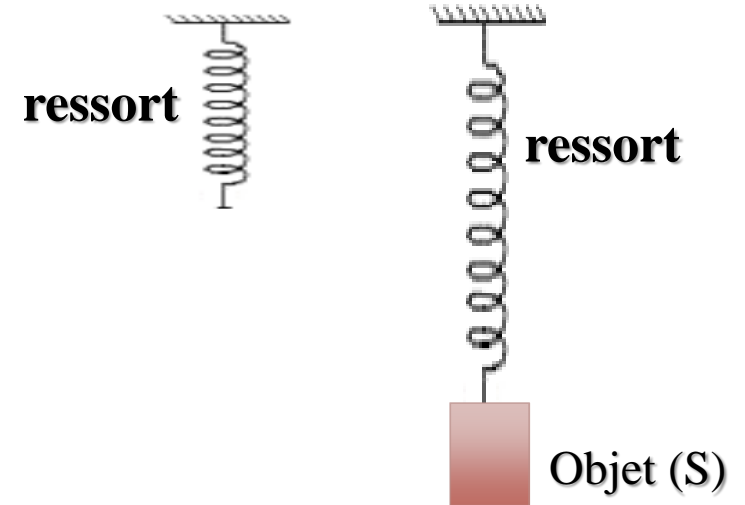
#### Exercice 2

La figure ci-contre représente un objet (S) est en équilibre suspendu à un ressort .

On donne :

- l'intensité de poids de cette objet sur la Terre est égale à 4N, et  $g = 9,8 \text{ N/kg}$ ,

- 1- Quelles sont les forces exercées sur l'objet (S) ?
- 2- Calculer la masse  $m$  de l'objet (S) ?
- 3- déterminez les caractéristiques du poids de l'objet (S) ?
- 4- Représenter le poids de l'objet (S) en utilisant l'échelle  $2\text{N} \rightarrow 1\text{cm}$



## Leçon 6 : Le poids et la masse,

### Correction des exercices:

#### Exercice 2

##### 1- Les forces exercées sur l'objet (S) :

Système étudié : { **Objet (S)** }

Force de contact :  $\vec{F}$  La force exercée par **le ressort** sur **l'objet (S)**.

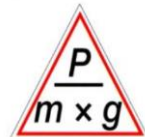
Force à distance :  $\vec{P}$  La force exercée par **la Terre** sur **l'objet (S)**.  
(poids de l'objet (S))

##### 2- La masse $m$ de l'objet (S) :

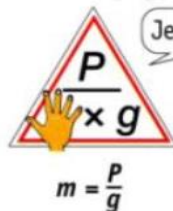
On a  $P = m \times g$

Alors :

$$m = \frac{P}{g}$$



Je cherche  $m$  :



Je cache  $m$


Avec :  $P = 4 \text{ N}$

A.N

$g = g_{\text{Terre}} = 9,8 \text{ N/kg}$

$$m = \frac{4}{9,8}$$

$$m = 0,408 \text{ kg}$$



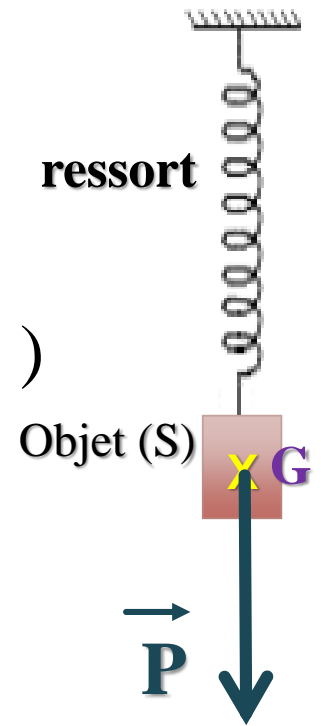
## Leçon 6 : Le poids et la masse,

### Correction des exercices:

#### Exercice 2

#### 3- Les caractéristiques du poids (la force $\vec{P}$ ) de l'objet (S) :

- **Point d'application** : Le point G, ( **centre de gravité de l'objet (S)** )  
مركز ثقل الجسم (S)
- **Droit d'action** : La droite verticale passant par G,
- **Sens** : Du haut vers le bas, ou de G vers le bas,
- **Intensité** :  $P = 4 \text{ N}$ .



#### 4- Représentation du poids (la force $\vec{P}$ ) de l'objet (S) :

On a  $2\text{N} \rightarrow 1\text{cm}$

alors  $4\text{N} \rightarrow 2\text{cm}$  ( voir la figure )



## Leçon 6 : Le poids et la masse,

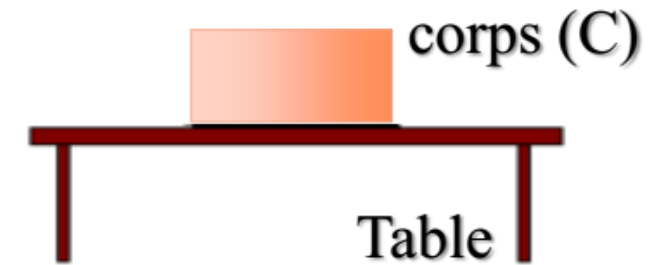
### Exercices d'application :

#### Exercice 3

On considère le schéma ci-contre où le corps (C) est en équilibre sur une table.

On donne : la masse de corps (C) :  $m = 0,3\text{kg}$

et l'intensité de la pesanteur :  $g = 10 \text{ N/kg}$

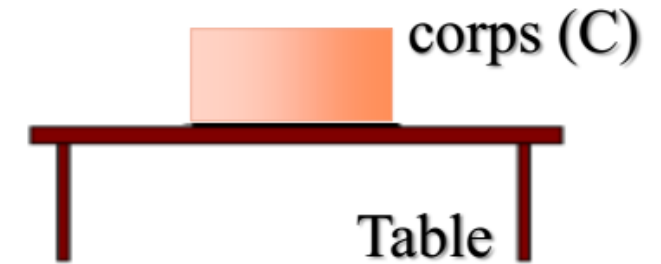


- 1- Calculer l'intensité de poids du corps (C) ?
- 2- Donner le bilan des forces exercées sur le corps (C)
- 3- Donner les caractéristiques de ces forces ?
- 4- Représenter ces forces en utilisant l'échelle :  $1,5 \text{ N} \rightarrow 1\text{cm}$

## Leçon 6 : Le poids et la masse,

### Correction des exercices:

#### Exercice 3



#### 1- l'intensité de poids du corps (C) :

On a

$$P = m \times g$$

Avec :

$$m = 0,3 \text{ kg}$$

$$g = 10 \text{ N/kg}$$

A.N

$$P = 0,3 \times 10$$

$$P = 3 \text{ N}$$

#### 2- Le bilan des forces exercées sur le corps (C) :

Système étudié : { Corps (C) }

Force de contact :  $\vec{R}$  La force exercée par **La table** sur **le corps (C)**.

Force à distance :  $\vec{P}$  La force exercée par **la Terre** sur **le corps (C)**.  
(poids du corps (C))

## Leçon 6 : Le poids et la masse,

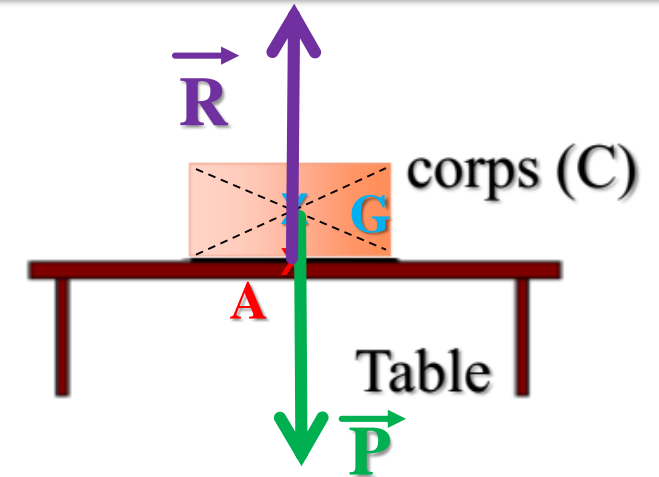
### Correction des exercices:

#### Exercice 3

### 3- Caractéristiques des forces $\vec{R}$ et $\vec{P}$

Le corps (C) est en équilibre et soumis à deux forces  $\vec{R}$  et  $\vec{P}$ , alors ces deux forces ont :

- la même droite d'action,
- la même intensité ( $R = P = 3 \text{ N}$ )
- deux sens opposés,



### 4- Représentation des forces $\vec{R}$ et $\vec{P}$

On a  $1,5\text{N} \rightarrow 1\text{cm}$

alors  $3\text{N} \rightarrow x$

$$x = \frac{3 \times 1}{1,5} = 2 \text{ cm}$$

Donc  $3\text{N} \rightarrow 2 \text{ cm}$

( voir la figure )

	Point d'application	Droit d'action	Sens	Intensité
$\vec{P}$	Le point G	La droite (AG)	De G vers le bas	$P = 3\text{N}$
$\vec{R}$	Le point A	La droite (AG)	De A vers le haut	$R = P = 3\text{N}$