

Nom :
Prénom :
Classe :

GROUPE SCOLAIRE AJYAD
Contrôle continu N 2 semestre 1
Niveau : 1 AC
SVT

Durée : 1h
Note :
20

Restitution des connaissances (8 pts)

1- Associez chaque terme à la définition correspondante : (2pts)

Molaire- branchies- trachée- incisive- stigmat

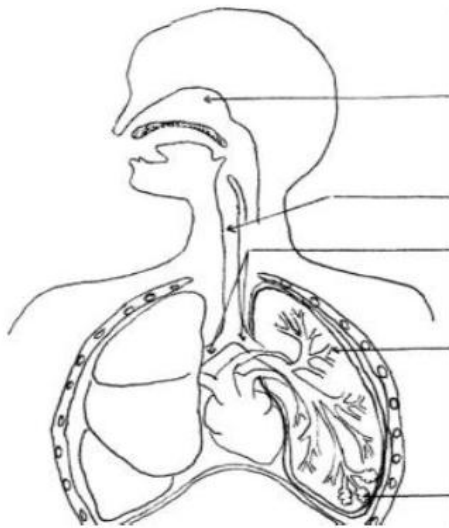
-Orifice respiratoire du criquet :

-Tube qui conduit l'air du nez aux poumons :

- Dent utilisée par les herbivores pour couper l'herbe :

- Dent utilisée pour écraser et broyer les aliments :

2- Légendez le schéma suivant et donnez un titre convenable : (6pts)

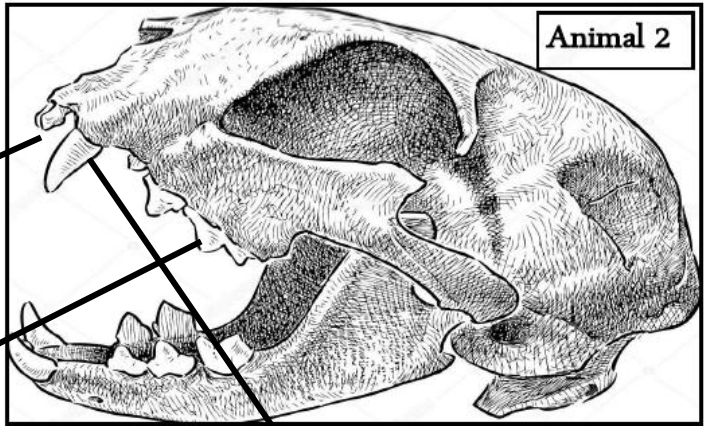
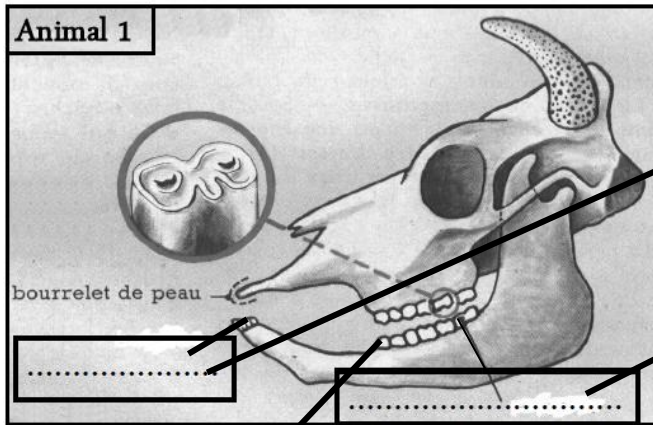


Titre :

.....

RAISONNEMENT SCIENTIFIQUE ET COMMUNICATION ECRITE ET GRAPHIQUE (12 pts)

Afin de définir le régime alimentaire de deux animaux différents nous proposons d'étudier leurs crânes. Les documents suivants montrent le crâne de l'animal 1 et le crâne de l'animal2.



- 1- Nommez les dents sur le document.
- 2- Donnez la formule dentaire de l'animal 1.

.....

- 3- Que peut-on dire sur la dentition de l'animal 1 et l'animal 2 ?

La dentition de l'animal 1 est.....

La dentition de l'animal 2 est.....

- 4- Décrivez la forme et le rôle des dents chez l'animal 1 et 2 en remplissant les tableaux suivants.

Dents de l'animal 1	Forme	Rôle

Dents de l'animal 2	Forme	Rôle

- 5- Déduisez le régime alimentaire de chaque animal en justifiant la réponse.

L'animal 1 est**car**

L'animal 2 est**car**

Bon courage 😊