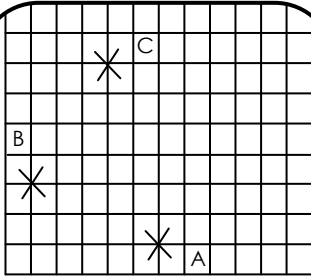
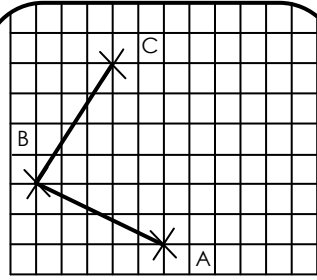


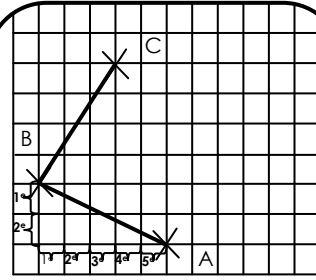
Méthode :



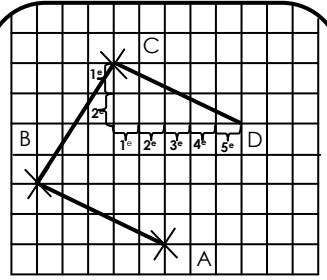
On a trois points A, B et C et on veut tracer le parallélogramme ABCD.



On trace les deux côtés du parallélogramme ABCD.



On décompose le trajet de B vers A en utilisant les quadrillages. Sur notre exemple, c'est « 2 carreaux vers le bas, 5 carreaux vers la droite ».



On reproduit **exactement le même trajet à partir du point C** et on termine le parallélogramme.

Activité : tracer à l'aide du quadrillage les parallélogrammes ABCD, EFGH, IJKL, MNOP et RSTU.

