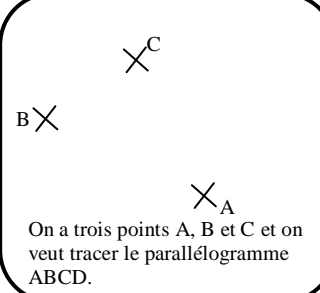
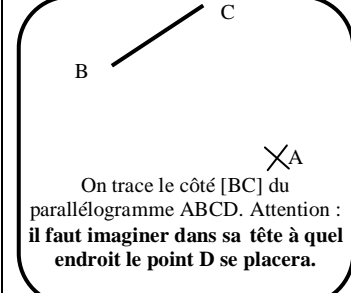
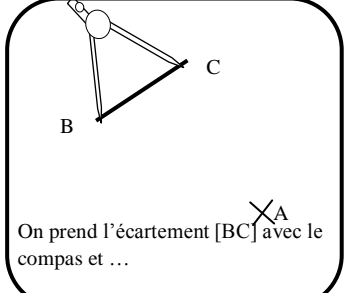
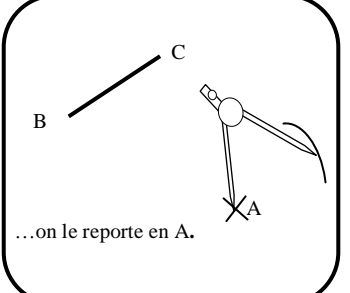
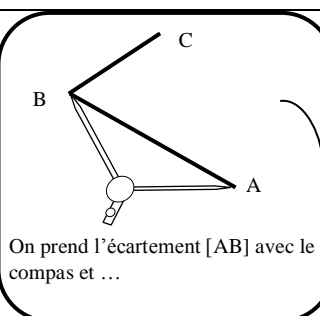
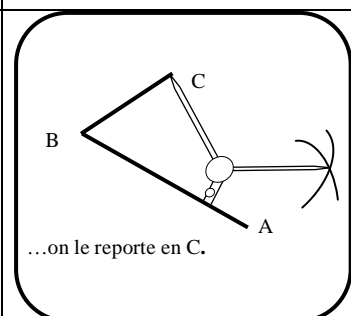
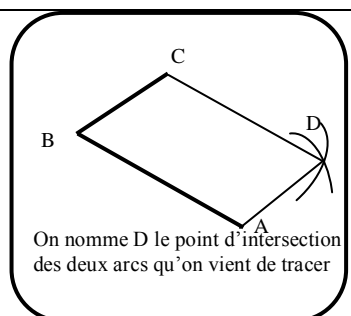


## Méthode :

 <p>On a trois points A, B et C et on veut tracer le parallélogramme ABCD.</p>	 <p>On trace le côté [BC] du parallélogramme ABCD. Attention : <b>il faut imaginer dans sa tête à quel endroit le point D se placera.</b></p>	 <p>On prend l'écartement [BC] avec le compas et ...</p>	 <p>...on le reporte en A.</p>
 <p>On prend l'écartement [AB] avec le compas et ...</p>	 <p>...on le reporte en C.</p>	 <p>On nomme D le point d'intersection des deux arcs qu'on vient de tracer</p>	

**Activité :** tracer à l'aide du compas les parallélogrammes ABCD, EFGH, IJKL et RSTU.

A

B

F

G

	A	B	C	D	E
1					
2					
3					
4					
5					

C

E

	A	B	C	D	E
1					
2					
3					
4					
5					

	A	B	C	D	E
1					
2					
3					
4					
5					

S

L

R

J

K

	A	B	C	D	E
1					
2					
3					
4					
5					

U