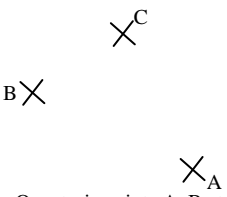
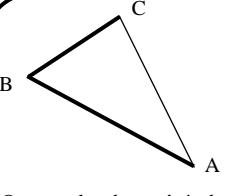
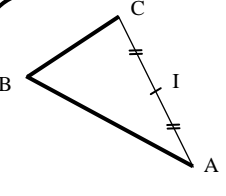
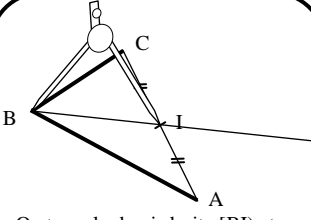
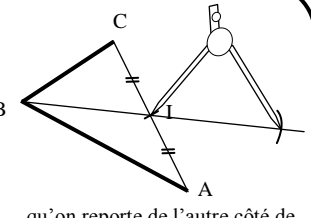
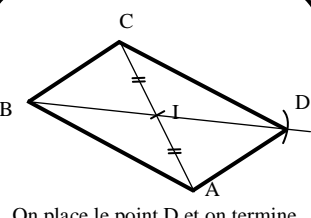


Méthode :

 <p>On a trois points A, B et C et on veut tracer le parallélogramme ABCD.</p>	 <p>On trace les deux côtés du parallélogramme ABCD. <b>Attention : il faut bien repérer la diagonale [AC].</b></p>	 <p>On mesure la diagonale [AC] et on place son milieu I.</p>	 <p>On trace la demi-droite [BI] et on prend l'écartement de [BI] ...</p>
 <p>...qu'on reporte de l'autre côté de I</p>	 <p>On place le point D et on termine le tracé</p>		

CORRIGE – M. QUET

**Activité :** tracer à l'aide des diagonales les parallélogrammes ABCD, EFGH, IJKL, MNOP et RSTU.

**Les diagonales se coupent en leur milieu**

