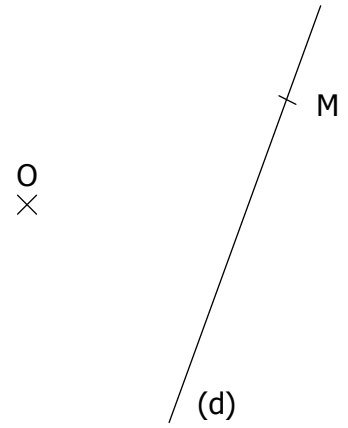
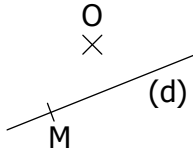
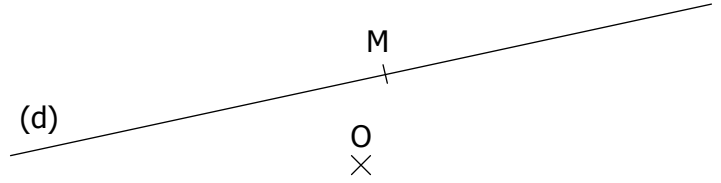
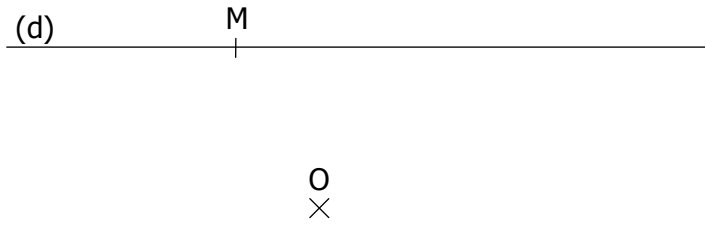


SYMETRIE CENTRALE

EXERCICE 4

EXERCICE 1

Construire dans chaque cadre le symétrique de la droite (d), puis du point M, par rapport au centre O :



EXERCICE 2

Construire dans chaque cadre le symétrique du segment par rapport au centre O :

