


الصفحة 1 20 ***	<b>الامتحان الوطني الموحد للبكالوريا</b> الدورة العادية 2022 - الموضوع -	 المملكة المغربية وزارة التربية الوطنية والتعليم الأولي والرياضة المركز الوطني للتقويم والامتحانات
	TTTTTTTTTTTTTTTTTT-IT NS 45	
4h	علوم المهندس	المادة
8	شعبة العلوم والتكنولوجيات: مسلك العلوم والتكنولوجيات الميكانيكية	الشعبة أو المسلك

### Constitution de l'épreuve

- Constitution de l'épreuve et grille de notation : page 1/20
- Présentation du support : pages de 2/20 à 4/20
- Substrat du sujet : pages de 4/20 à 14/20
- Documents réponses (DREP) : pages de 6/20 à 14/20 (à rendre par le candidat)
- Documents ressources (DRES) : pages de 15/20 à 20/20

### Volet 1 : Présentation de l'épreuve :

Système à étudier : **CHARIOT DE DIRECTION DU PONT DE COULEE ;**

Durée de l'épreuve : 4 heures ;



Coefficient : 8 ;

Moyen de calcul autorisé : Calculatrice non programmable ;

Documents autorisés : aucun ;

Les candidats rédigeront leurs réponses sur les documents réponses (DREP) prévus à cet effet.

### GRILLE DE NOTATION :

SITUATION D'ÉVALUATION 1		SITUATION D'ÉVALUATION 2		SITUATION D'ÉVALUATION 3			
TACHE 11		TACHE 21		TACHE 31			
a	1,5 pt	a	1 pt	1		2 pts	
b	3,5 pts	b	1 pt	2		1 pt	
c	2 pts	c	1 pt	3		1 pt	
d	2 pts	d	1 pt	4	4-a	0,75 pt	
e	1 pt	e	1 pt		4-b	3 pts	
TACHE 12		f	1 pt	5		4 pts	
a	5 pts	TACHE 22		6		1 pt	
b	2,5 pt	a	0,5 pt	TACHE 32			
TACHE 13		b	0,5 pt	1	1-a	1 pt	
a	1 pt	c	1 pt		1-b	1 pt	
b1	1 pt	d	1 pt		1-c	1 pt	
b2	2 pts	e	1 pt	2		1 pt	
b3	1 pt	f	0,5 pt	3		2,75 pts	
		g	1 pt	4	4-a	1 pt	
		TACHE 23			4-b	1 pt	
		a	1 pt		4-c	1 pt	
		b	1 pt	5	5-a	1 pt	
		c	1 pt		5-b	1 pt	
		d	1 pt		5-c	1 pt	
		e	1 pt	TACHE 33			
				1		3,5 pts	
				2		5 pts	
				3		7 pts	
Total SEV1	22,5 pts	Total SEV2	16,5 pts	Total SEV3		41 pts	
TOTAL : ..... /80 Points							

الصفحة	2	NS 45	الامتحان الوطني الموحد للبكالوريا - الدورة العادية 2022 - الموضوع - مادة: علوم المهندس- شعبة العلوم والتكنولوجيات: مسلك العلوم والتكنولوجيات الميكانيكية
20			

### Volet 2 : Présentation générale du support étudié

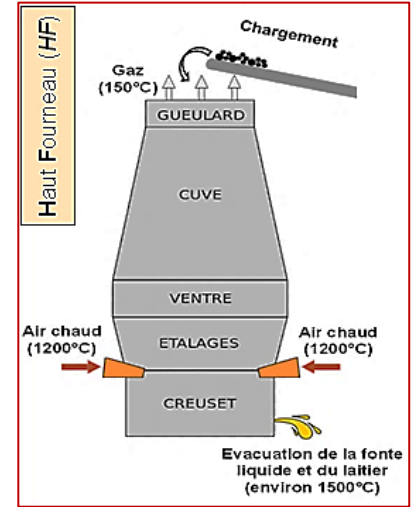
Une entreprise, spécialisée dans la fabrication des pièces et des équipements en fonte, élabore la fonte dans un haut fourneau (HF), (voir figure ci-contre), à partir de deux ingrédients principaux :

- **Le coke** : combustible assurant l'apport de carbone ;
- **Le minerai** de fer : matière première.

L'entreprise est équipée d'un Haut Fourneau (HF) dans son atelier de coulée (Voir l'organisation générale de l'atelier de coulée sur la figure ci-dessous). Une fois la fonte liquide est obtenue en sortie du Haut Fourneau (HF), elle subira différents traitements dans cet atelier de coulée, tels que :

- Le **décrassage** : opération qui consiste à retirer le laitier (cendres et résidus de combustion) en suspension sur la fonte liquide ;
- La **correction** du **taux de carbone** dans la fonte ;
- La **désulfuration** : procédé qui consiste à réduire la teneur en soufre dans la fonte par adjonction de chaux ;
- Le **maintien en température** : la fonte liquide est stockée dans un **mélangeur** (four basculant de stockage) qui permet le maintien en température d'environ **1450°C** de la fonte en fusion avant son expédition vers les zones de production.

L'ensemble de ces traitements est effectué dans l'atelier de coulée de l'entreprise. Actuellement, la manutention de la fonte liquide se fait, par le pont de coulée, dans une poche d'une capacité de **3000 kg**.

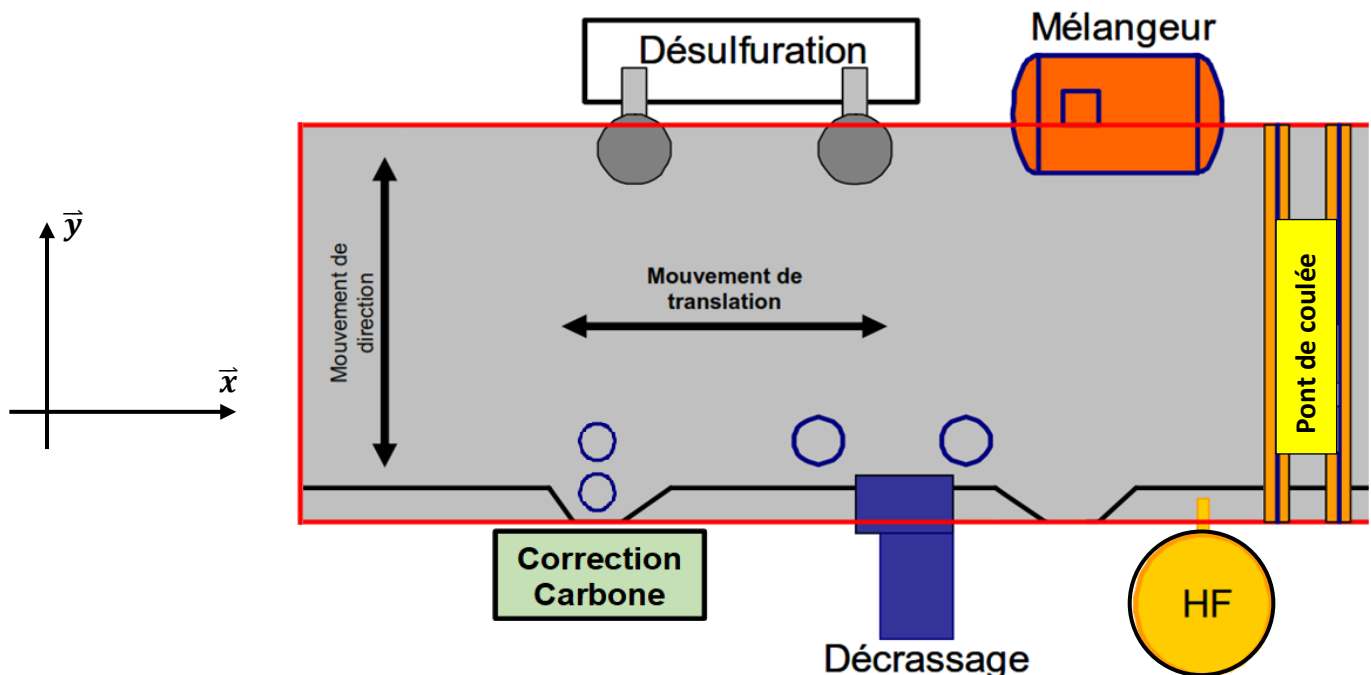


### Description générale de l'atelier de coulée et du pont de coulée : (voir figure ci-dessous)

Dans l'atelier de coulée, le **pont de coulée** est l'élément majeur du secteur des hauts fourneaux. Il assure dans son **cycle fonctionnel** le transport de la matière première (fonte en fusion) du **haut fourneau** vers les différents postes de traitement, selon l'ordre suivant : **Décrassage**, **Correction Carbone**, **Désulfuration** et **Mélangeur**. Ce **pont de coulée** a deux mouvements essentiels :

- Un **mouvement de translation** suivant l'axe  $\vec{x}$  : (**Mouvement non étudié**) ;
- Un **mouvement de direction** suivant l'axe  $\vec{y}$  : assuré par un chariot de direction (**Mouvement étudié**).

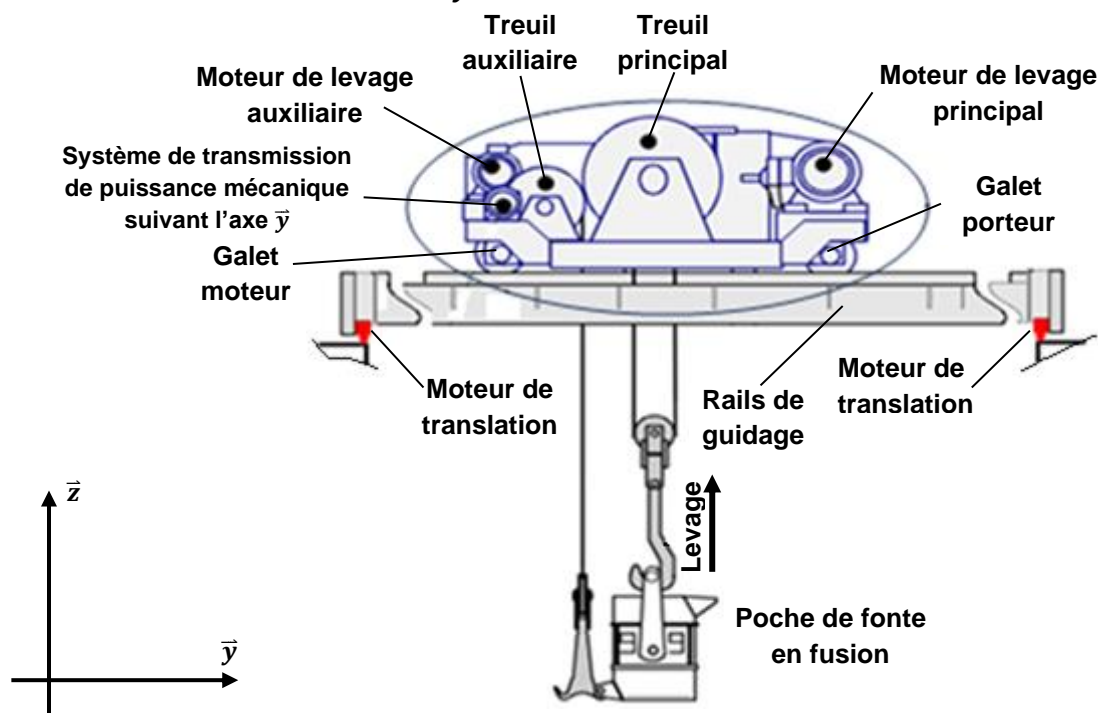
#### a. Schéma de l'organisation générale de l'atelier de coulée :



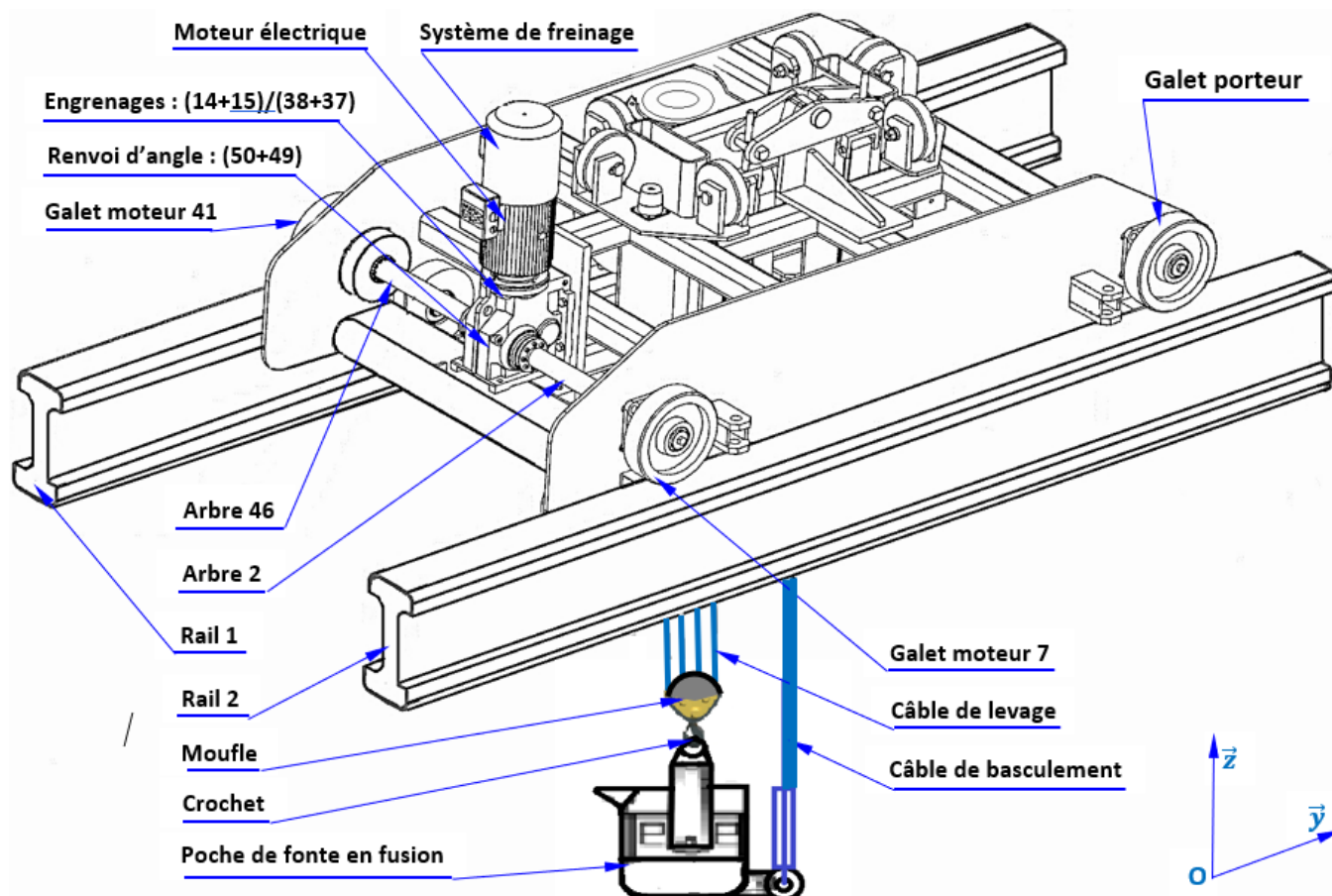
الصفحة	3	NS 45	الامتحان الوطني الموحد للبكالوريا - الدورة العادية 2022 - الموضوع - مادة: علوم المهندس- شعبة العلوم والتكنولوجيات: مسلك العلوم والتكنولوجيات الميكانيكية
20			

**b. Système du mouvement de direction du pont de coulée :** (voir figures ci-dessous)

Le système de mouvement de direction du pont de coulée assure des déplacements du chariot de direction du pont de coulée qui transporte des poches de fonte liquide avec une vitesse de direction  $V_D = 45 \text{ m/min}$ , grâce à un système de transmission de puissance mécanique : voir DRES page 15/20. Ce dernier entraîne en rotation deux **galets moteurs** qui roulent sans glisser sur **deux rails** de guidage **Rail 1** et **Rail 2**, permettant ainsi le mouvement de direction suivant l'axe  $\vec{y}$ .



**Système du mouvement de direction du pont de coulée (chariot de direction)**



الصفحة	4	NS 45	الامتحان الوطني الموحد للبكالوريا - الدورة العادية 2022 - الموضوع - مادة: علوم المهندس- شعبة العلوم والتكنولوجيات: مسلك العلوم والتكنولوجيات الميكانيكية
20			

**c. Projet de développement partiel du pont de coulée actuel :**

L'entreprise spécialisée dans la fabrication des pièces et des équipements en fonte, souhaite développer sa production en fonte traitée. Son bureau d'étude propose de :

- Minimiser le temps du cycle fonctionnel de traitement (**Décrassage, Correction Carbone, Désulfuration, Mélangeur**) en agissant sur la vitesse de déplacement du chariot de direction ;
- Remplacer les poches actuelles ayant une masse  $M_{Actuelle}=3000kg$ , par des nouvelles poches plus volumineuses de masse  $M_P=9000kg$ .

Devant ce projet de développement partiel du pont de coulée : (minimiser le temps du cycle fonctionnel de traitement de la fonte et manipuler des poches de fonte plus volumineuses), les membres du bureau d'étude doivent revoir, en partie, la conception de quelques éléments du pont de coulée. Cette revue de conception sera orientée, à présent, vers la mise à niveau de quelques éléments du système de mouvement de direction (chariot de direction) du pont de coulée et sera généralisée ultérieurement.

La contribution du bureau d'étude de cette entreprise est de vérifier et valider les modifications qui seront apportées à quelques éléments du chariot de direction du système de mouvement de direction du pont de coulée. Votre participation consistera à :

- Appréhender le fonctionnement de quelques constituants du chariot de direction du pont de coulée ;
- Revoir les solutions technologiques pour quelques éléments du chariot de direction du pont de coulée ;
- Identifier quelques éléments de la chaîne fonctionnelle du chariot de direction du pont de coulée ;
- Choisir le moteur électrique adéquat pour le chariot de direction du pont de coulée ;
- Vérifier l'efficacité du système de freinage incorporé dans le chariot de direction du pont de coulée ;
- Vérifier la résistance de l'arbre 46 à la déformation due à la torsion ;
- Etudier partiellement la production de l'une des pièces du chariot de direction du pont de coulée.

**Volet 3 : Substrat du sujet**

**SITUATION D'EVALUATION 1 :**

Avant d'entamer l'étude partielle du chariot de direction du pont de coulée, il est primordial de comprendre son fonctionnement. Pour ce faire, en se référant aux données des **pages 2/20, 3/20 et 4/20** et aux **DRES pages 15/20 à 17/20**, on vous demande d'effectuer les tâches suivantes :

***Tâche 11 : Analyse fonctionnelle et technique de quelques solutions constructives retenues***

Pour comprendre le fonctionnement du chariot de direction du pont de coulée et analyser quelques solutions constructives retenues, en se référant aux **DRES** des pages de **15/20 à 17/20**, répondre aux questions des **DREP** pages **6/20 et 7/20**.

***Tâche 12 : Amélioration d'une solution constructive et représentation du schéma cinématique***

Sachant que la liaison complète démontable, entre **l'arbre 46** et **le galet moteur gauche 41**, doit transmettre un couple considérable et doit résister aux effets des efforts axiaux. Le concepteur constate que cette solution doit être mise à niveau par un assemblage conique. Et pour faciliter la compréhension du mécanisme de transmission de la puissance mécanique du chariot de direction, on propose son schéma cinématique à compléter. Pour cela, se référer au dessin d'ensemble **DRES** page **15/20**, répondre aux questions des **DREP** pages **7/20 et 8/20**.

***Tâche 13 : Etude du cycle fonctionnel de traitement***

Pour appréhender le cycle fonctionnel du chariot de direction du pont de coulée et analyser quelques solutions logiques de son fonctionnement, se référer à la présentation du système et au **DRES** page **17/20**, répondre aux questions du **DREP** page **8/20**.

الصفحة	5	NS 45	الامتحان الوطني الموحد للبكالوريا - الدورة العادية 2022 - الموضوع - مادة: علوم المهندس- شعبة العلوم والتكنولوجيات: مسلك العلوم والتكنولوجيات الميكانيكية
20			

### SITUATION D'EVALUATION 2 :

Le chariot de direction du pont de coulée doit manipuler une masse totale  $M=(\text{masse d'une poche pleine de fonte})+(\text{masse du chariot de direction})$ ,  $M = 12000 \text{ kg}$ . Il est donc nécessaire de valider : le type du moteur électrique optimal du chariot de direction, les ressorts de compression pour le système de freinage, le type de l'électro-aimant libérant le freinage et de vérifier la résistance à la déformation de l'arbre 46. Pour cela, se référer aux DRES pages de 15/20 à 19/20 et effectuer les tâches suivantes :

#### Tâche 21 : Choix du moteur électrique optimal du chariot de direction

Pour choisir les caractéristiques des grandeurs énergétiques du moteur électrique du chariot de direction lors de son mouvement suivant l'axe  $\vec{y}$ , on se propose de calculer quelques caractéristiques optimales du moteur électrique. En se référant aux DRES pages de 15/20 à 18/20, répondre aux questions du DREP page 9/20.

#### Tâche 22 : Choix des ressorts de compression pour le frein et validation de l'électro-aimant

Le système de transmission de la puissance mécanique du chariot de direction est équipé d'un dispositif de freinage adéquat. L'effort presseur résultant de freinage est généré par trois ressorts de compression identiques. Le défreinage est assuré par un électro-aimant qui génère une force électromagnétique  $F_B$  suffisante pour déplacer le Plateau frein mobile 27 (le noyau) de la course magnétique 3 mm équivalente à la valeur de la déformation des trois ressorts 26. Voir DRES page 15/20.

L'objectif de cette tâche est de faire le choix adéquat des ressorts de compression de freinage et de valider l'électro-aimant à travers le module de sa force électromagnétique. En se référant aux DRES pages 15/20, 16/20 et 18/20, répondre aux questions des DREP pages 9/20 et 10/20.

#### Tâche 23 : Vérification de la résistance à la déformation de l'arbre 46 : (voir dessin d'ensemble page 15/20)

La transmission de la puissance mécanique de la roue dentée conique 49 au galet moteur gauche 41 est assurée par l'arbre porte Galet 46. Les actions mécaniques qui lui sont appliquées le sollicitent à la torsion. Cet arbre en acier est relativement long, on doit donc calculer son diamètre minimal et par suite vérifier sa résistance à la torsion par la condition de rigidité.

En tenant compte des hypothèses et des données des DRES pages : 15/20, 16/20, 18/20 et 19/20, répondre aux questions du DREP page 10/20.

### SITUATION D'EVALUATION 3 :

Selon la nouvelle conception du chariot de direction du pont de coulée, le bureau des méthodes doit établir un dossier de fabrication du palier gauche 45, voir DRES pages 19/20 et 20/20. Pour répondre à la commande de 300 pièces par mois. Vous faites partie de l'équipe chargée de mener une étude partielle de ce dossier de fabrication. Pour cela, effectuer les tâches suivantes :

#### Tâche 31 : Analyse du dessin de définition et du dessin du brut

Analyse du dessin de définition du palier gauche 45 et établissement de son dessin de brut. En se référant au DRES page 20/20, répondre aux questions du DREP page 11/20.

#### Tâche 32 : Etude partielle du contrat de phase (30) : Voir DRES pages 19/20 et 20/20

Etude partielle de la phase 30 relative à la réalisation du palier gauche 45, et validation du choix de la machine-outil optimale. Pour ce faire, répondre aux questions des DREP pages 12/20 et 13/20 en utilisant les données des DRES pages 19/20 et 20/20.

#### Tâche 33 : Réalisation de la phase 30 sur un tour à CN : Voir les DRES pages 19/20 et 20/20

Pour respecter le délai et améliorer la productivité et la précision des pièces fabriquées du chariot de direction, on décide de réaliser le palier gauche 45 sur un tour à commande numérique. On se limitera à l'étude du programme partiel du profil fini relatif aux surfaces réalisées en phase 30. Pour cela et en utilisant les données des DRES pages 19/20 et 20/20, répondre aux questions des DREP pages 13/20 et 14/20.



الصفحة	6	NS 45	الامتحان الوطني الموحد للبكالوريا - الدورة العادية 2022 - الموضوع - مادة: علوم المهندس- شعبة العلوم والتكنولوجيات: مسلك العلوم والتكنولوجيات الميكانيكية
20			

## DOCUMENTS REPONSES : DREP

### SITUATION D'EVALUATION 1 :

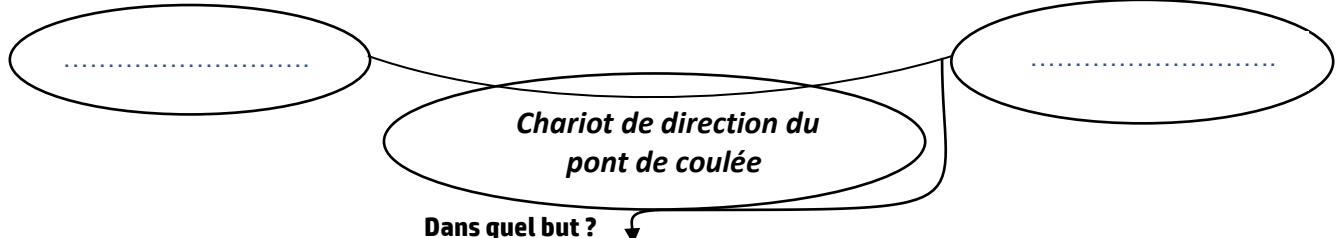
#### Tâche 11 : Analyse fonctionnelle et technique :

Se référer à la **présentation** du système et aux **DRES** pages 15/20, 16/20 et 17/20.

- a. Compléter le diagramme «**bête à cornes**» suivant, en énonçant le besoin correspondant au système : /1,5pt

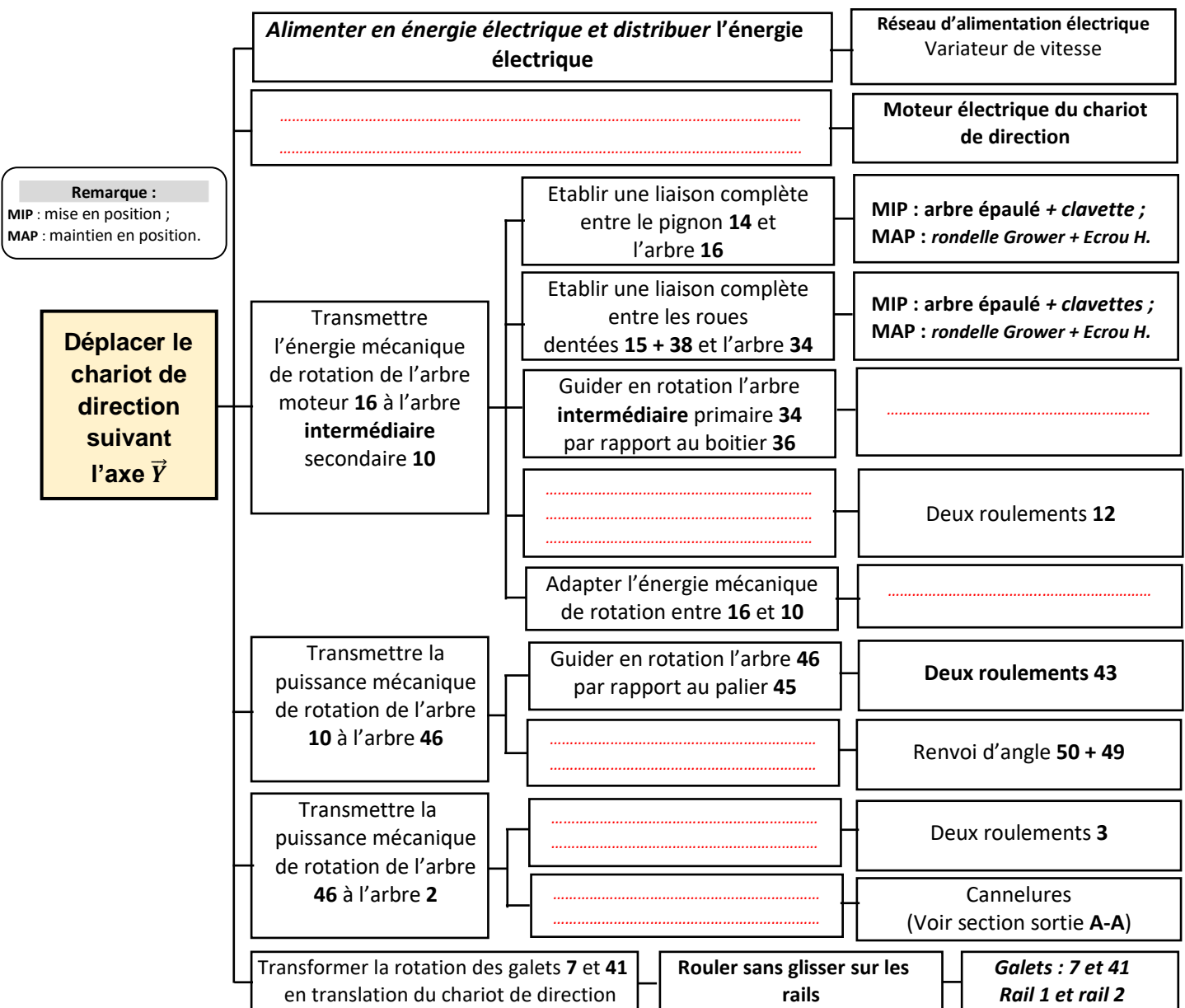
A qui rend-t-il service ?

Sur quoi agit-il ?



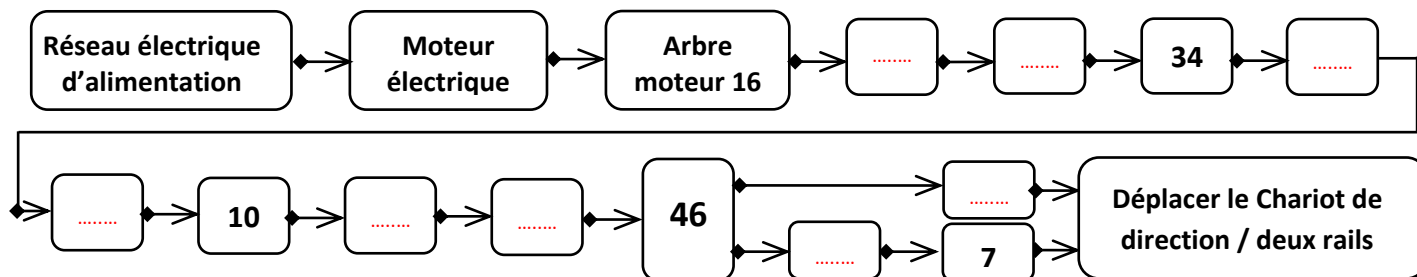
Dans quel but ?

- b. En se référant au dessin d'ensemble, **DRES** pages 15/20 et 16/20, du mécanisme de transmission de puissance mécanique du chariot de direction, Compléter le diagramme F.A.S.T partiel suivant : /3,5pts



الصفحة	7	NS 45	الامتحان الوطني الموحد للبكالوريا - الدورة العادية 2022 - الموضوع - مادة: علوم المهندس- شعبة العلوم والتكنولوجيات: مسلك العلوم والتكنولوجيات الميكانيكية
20			

- c. Compléter, en se référant au dessin d'ensemble du **DRES page 15/20**, le synoptique de la chaîne de transmission de la puissance mécanique du chariot de direction : /2pts



- d. Compléter le tableau ci-dessous par les noms et les rôles des pièces : /2pts

Pièces	Nom	Rôle
6	.....	.....
21	.....	.....
26	.....	.....
31	.....	.....

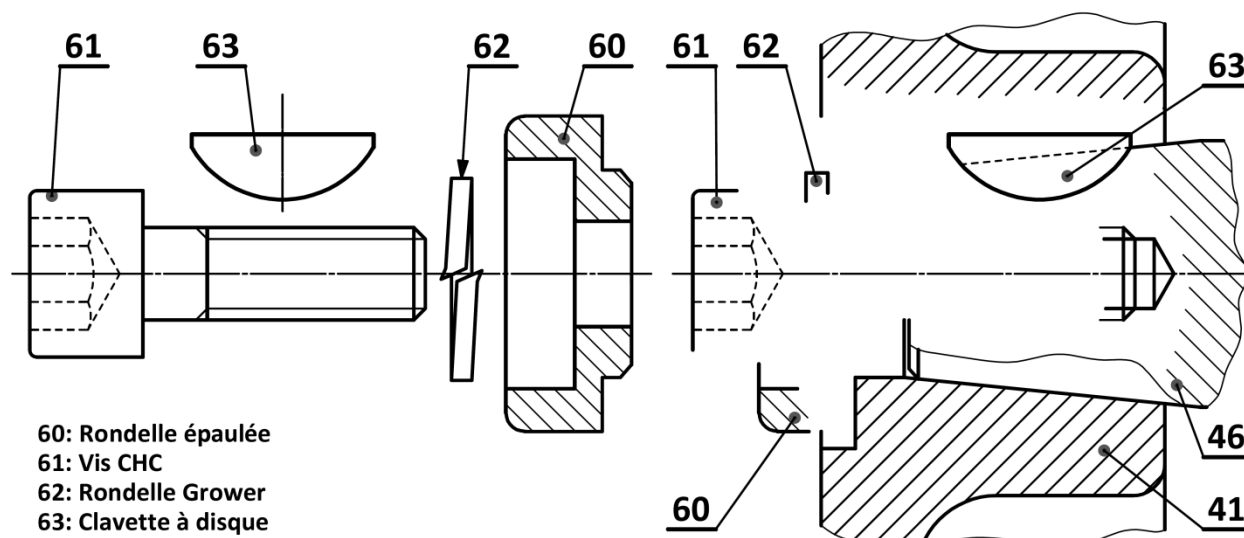
- e. Citer, en se référant au dessin d'ensemble du **DRES page 15/20**, les deux conditions d'engrènement entre les roues de l'engrenage conique à dentures droites (pignon conique 50 et roue dentée conique 49) : /1pt

### Tâche 12 : Amélioration d'une solution constructive et schéma cinématique

Se référer aux **DRES pages 15/20 et 16/20**.

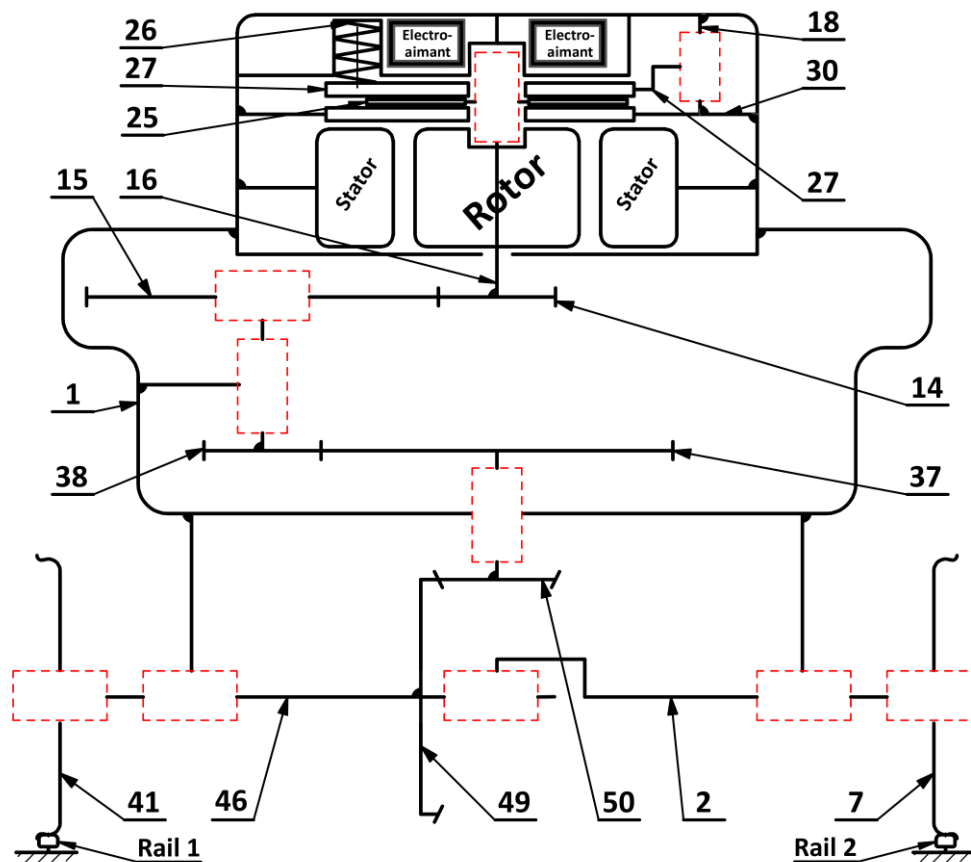
- a. La liaison complète entre l'arbre 46 et le **galet** moteur gauche 41 sera mise à niveau par une autre solution plus fiable obtenue par un assemblage conique. On vous demande de compléter la représentation graphique de cette nouvelle solution, en utilisant : une rondelle **épaulée** 60, une vis **CHC** 61, une rondelle Grower 62 et une clavette à disque 63. /5pts

**NB** : respecter les règles de montage (Appuis, Centrages, Jeux fonctionnels... etc.) ainsi que les dimensions données des éléments dessinés.



الصفحة	8	NS 45	الامتحان الوطني الموحد للبكالوريا - الدورة العادية 2022 - الموضوع - مادة: علوم المهندسين - شعبة العلوم والتكنولوجيات: مسلك العلوم والتكنولوجيات الميكانيكية
20			

- b. Compléter, par les symboles normalisés des liaisons mécaniques, le schéma cinématique minimal du mécanisme de transmission de la puissance mécanique du chariot de direction, **DRES page 15/20** : /2,5pts

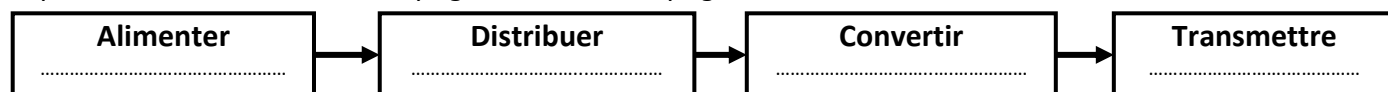


### Tâche 13 : Automatisation partielle d'un cycle de traitement de la fonte en fusion

Se référer à la **présentation** et aux données du **DRES page 17/20**.

Le mouvement de direction du chariot de direction du pont de coulée est assuré par un moteur électrique de direction **MD**, dont la commande est gérée par un automate programmable industriel **API**. En tenant compte des données et de la présentation du système étudié, répondre aux questions suivantes :

- a- Identifier les éléments de la chaîne d'énergie relatifs au système de mouvement du chariot de direction du pont de coulée : voir le **FAST page 6/20** et **DRES page 15/20** : /1pt



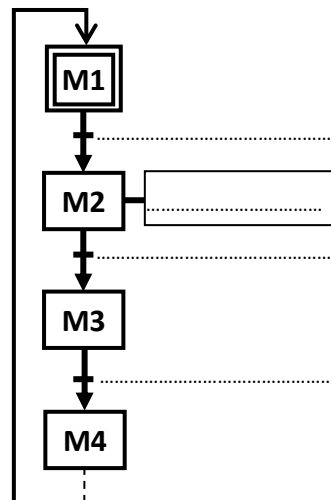
- b- Pour le déplacement de la poche de fonte en fusion du (**poste de correction de carbone**) au (**poste de désulfuration**), on vous demande de :

- b.1. Compléter le **grafcet**, ci-contre, du point de vue partie commande : /1pt

- b.2. Compléter le tableau, ci-dessous, des équations d'**activation** et de **désactivation** des étapes **M2** et **M3** : /2pts

Les étapes	Equation d'activation	Equation de désactivation
Etape 2 : (M2)	.....	.....
Etape 3 : (M3)	.....	.....

- b.3. Donner l'équation de sortie du Moteur **KM** : ..... /1pt





الصفحة	9	NS 45	الامتحان الوطني الموحد للبكالوريا - الدورة العادية 2022 - الموضوع - مادة: علوم المهندس- شعبة العلوم والتكنولوجيات: مسلك العلوم والتكنولوجيات الميكانيكية
20			

**SITUATION D'EVALUATION 2 :**

**Tâche 21 : Choix du type du moteur électrique optimal**

Se référer aux DRES pages 15/20, 16/20, 17/20 et 18/20.

- a. Calculer, en appliquant la condition de rotation uniforme du DRES page 17/20, l'effort de traction résultant  $F_t$  (en N) appliqué au niveau des deux galets et capable de déplacer le chariot de direction : /1pt
- b. Déterminer la puissance utile  $P_u$  (en Watt), générée au niveau des deux galets du chariot de direction, capable de déplacer le chariot, (prendre  $F_t = 1780 \text{ N}$ ) : /1pt
- c. Calculer la vitesse de rotation  $\omega_7$  (en rad/s) du galet moteur 7, sachant que son rayon est :  $R_7 = 120 \text{ mm}$ , et en déduire sa fréquence de rotation  $N_7$  (en tr/min): /1pt
- d. Déterminer le rapport de transmission  $K = \frac{N_7}{N_M} = \frac{N_{41}}{N_M} = \frac{N_7}{N_{16}}$  et en déduire la fréquence de rotation  $N_M$  (en tr/min), de l'arbre moteur 16 : /1pt
- e. Calculer le rendement global  $\eta_g$  de la chaîne de transmission, puis déterminer la puissance mécanique  $P_M$  (en kW) du moteur électrique du chariot de direction : /1pt
- f. Choisir, en se référant au DRES page 18/20, le type du moteur électrique convenable optimal : /1pt

Type du moteur	Puissance $P_M$ (en kW)	Fréquence de rotation $N_M$ (en tr/min)	Couple de freinage $C_f$ (en N.m)

**Tâche 22 : Choix des ressorts de compression du frein et validation de l'électro-aimant**

Se référer aux DRES pages 15/20, 16/20 et 18/20.

- a. Donner le nom du frein intégré dans ce mécanisme (nature des surfaces de contact et la commande) : /0,5pt
- b. Quel est le nombre de contacts entre les surfaces de contacts dans ce frein ? /0,5pt
- c. Calculer l'effort presseur résultant  $F_p$  (en N) appliqué par les trois ressorts de compression 26 sur le plateau mobile 27 pour assurer le freinage (prendre  $C_f = 25 \text{ N.m}$ ) : /1pt

الصفحة	10	NS 45	<p style="text-align: center;">الامتحان الوطني الموحد للبكالوريا - الدورة العادية 2022 - الموضوع</p> <p style="text-align: center;">- مادة: علوم المهندس- شعبة العلوم والتكنولوجيات: مسلك العلوم والتكنولوجيات الميكانيكية</p>	
20				

**d.** En déduire l'effort axial  $F_R$  (en  $N$ ) appliqué par un seul ressort de compression 26 sur le plateau mobile 27 pour développer l'effort presseur résultant  $F_P$  (prendre  $F_P = 672 N$ ): /1pt

**e.** Déterminer la raideur du ressort de compression  $K$  en ( $N/mm$ ) si la déformation  $\Delta l_f = 4 mm$  du ressort est suffisante pour développer l'effort axial  $F_R$ : /1pt

**f.** Choisir la référence optimale du ressort : /0,5pt

Référence du ressort	Diamètre $\varnothing A$ (en mm)	Diamètre $\varnothing B$ (en mm)	Longueur $L_0$ libre (en mm)	La raideur du ressort $K$ en ( $N/mm$ )
.....	.....	.....	.....	.....

**g.** Calculer la force électromagnétique minimale  $F_B$  (en  $N$ ) que doit appliquer l'électro-aimant sur le plateau mobile frein 27 pour maintenir la déformation des trois ressorts à  $\Delta l_m = 7 mm$ , et conclure sur la validité de l'électro-aimant : /1pt

**Tâche 23 : Vérification de la résistance de l'arbre 46 à la torsion :**

Se référer aux DRES pages 15/20, 16/20 et 19/20.

**a.** Calculer le moment de torsion  $M_t$  (en  $N.m$ ) résultant de l'effort appliqué au galet moteur 41 : /1pt

**b.** Ecrire, en tenant compte du coefficient  $K_t$ , l'expression littérale de la condition de résistance à la torsion dans une section droite de l'arbre 46 : /1pt

**c.** Déterminer le diamètre minimal  $d_{46}$  (en mm) de l'arbre 46, (prendre  $M_t = 107 N.m$ ) : /1pt

**d.** Calculer l'angle unitaire de torsion  $\theta$  de l'arbre 46 (en  $rad/mm$ ), (prendre  $d_{46} = 36 mm$ ) : /1pt

**e.** Vérifier la condition de rigidité à la torsion de l'arbre 46 et conclure : /1pt

الصفحة	11	NS 45	الامتحان الوطني الموحد للبكالوريا - الدورة العادية 2022 - الموضوع - مادة: علوم المهندس- شعبة العلوم والتكنولوجيات: مسلك العلوم والتكنولوجيات الميكانيكية
20			

**SITUATION D'EVALUATION 3 :**

**Tâche 31 : Analyse du dessin de définition et dessin de brut**

1- Identifier et expliquer la désignation du matériau du palier gauche (45), voir **DRES** page 20/20 : /2pts

2- Donner le métal de base du matériau du palier gauche (45) : /1pt

3- Quelle est la teneur en carbone dans la fonte ? : (Cocher la bonne réponse) /1pt

☐ : inférieure à 0,77% ; ☐ : comprise en 0,77% et 2,11% ; ☐ : supérieure à 2,11%

4- À partir du dessin de définition du palier gauche (45) du **DRES** page 20/20, on donne la tolérance géométrique suivante :

8xD5	⊕	∅0,2	F5	D2
------	---	------	----	----

a. Mettre une croix dans la case correspondante au type de cette tolérance géométrique : /0,75pt

Tolérance de forme	.....
Tolérance d'orientation	.....
Tolérance de position	.....

b. Expliciter cette tolérance géométrique et dessiner un schéma explicatif : /3pts

.....

.....

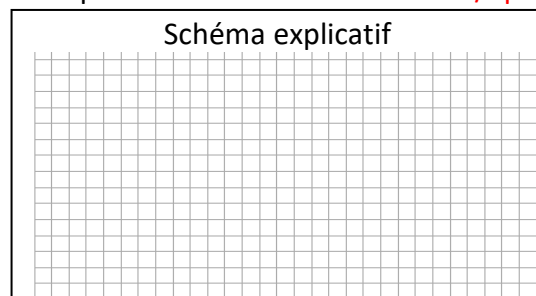
.....

.....

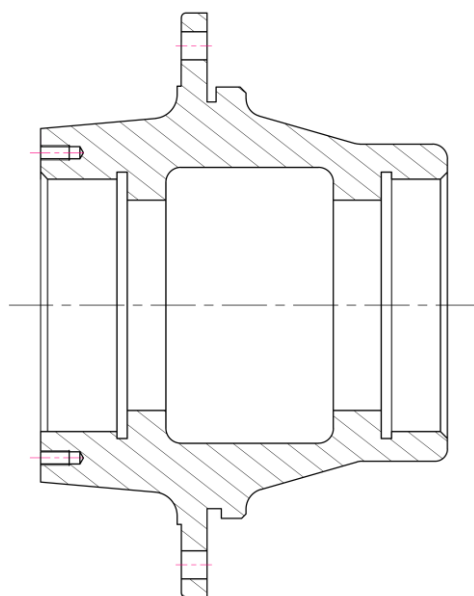
.....

.....

.....



5- Compléter, en se référant aux données du **DRES** page 20/20, le dessin du brut capable du palier gauche (45) en indiquant : les surépaisseurs d'usinage, le plan de joint, les arrondis et les dépouilles : /4pts



6- Citer deux procédés de moulage : /1pt

.....

.....

الصفحة	12	NS 45	الامتحان الوطني الموحد للبكالوريا - الدورة العادية 2022 - الموضوع - مادة: علوم المهندس- شعبة العلوم والتكنولوجيات: مسلك العلوم والتكنولوجيات الميكانيكية
20			

**Tâche 32 : Etude partielle du contrat de phase (30) : Voir les DRES pages 19/20 et 20/20.**

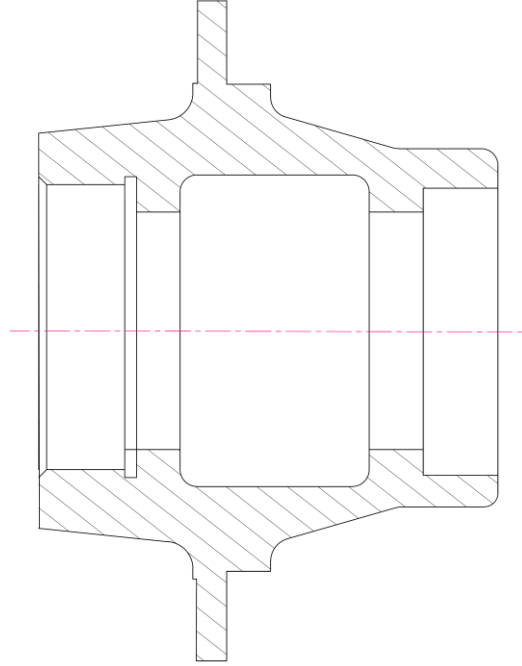
1- Indiquer, sur le croquis de la **phase 30** ci-dessous :

- Les surfaces (**D2 ; F5**) et (**D3 ; F7**) réalisées dans cette phase en trait fort ou en couleur ;
- Les symboles technologiques de la mise en position (**MIP**) ;
- Les cotes fabriquées (**cf**) non chiffrées (dimensionnelles uniquement).

/1pt

/1pt

/1pt

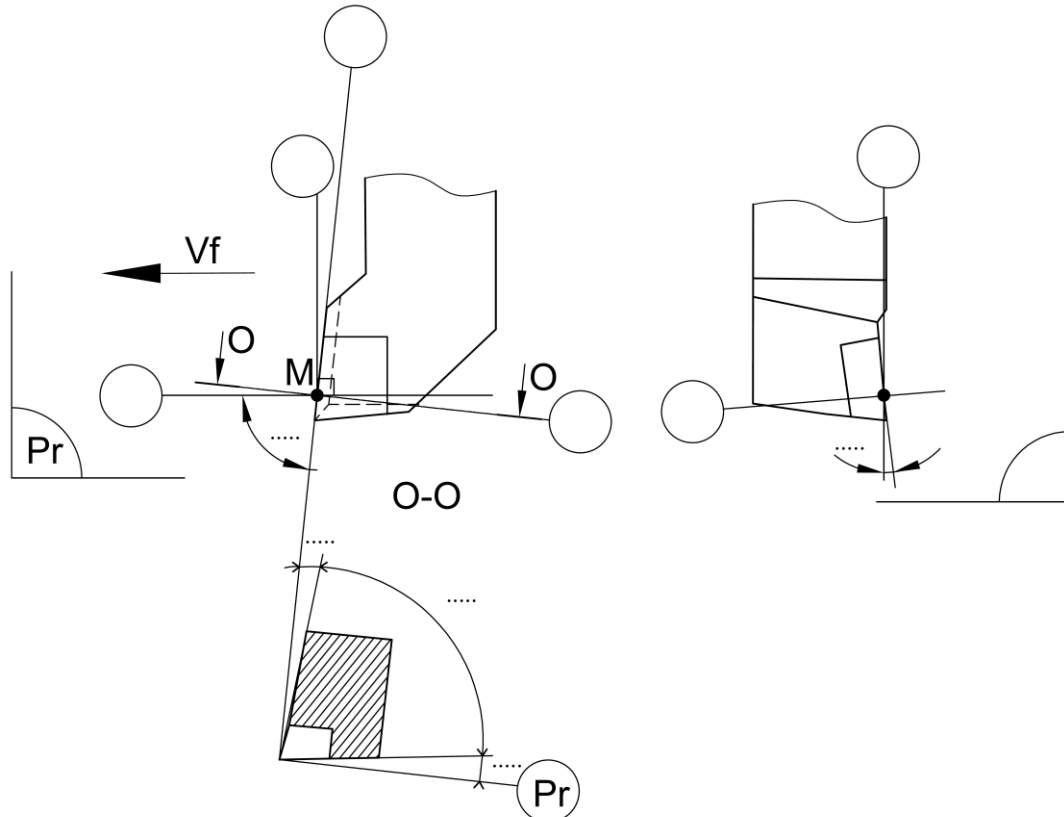


2- Donner le nom du *porte pièce* standard usuellement utilisé sur un *tour* :

/1pt

3- Installer sur le croquis, ci-dessous, de l'outil de coupe utilisé pour charioter **D2**, les plans de l'outil en main : **Pr, Ps, Pf, Po, Pp**, les angles de face orthogonaux :  $\alpha_o, \beta_o, \gamma_o$  et les angles d'arête  $K_r$  et  $\lambda_s$  :

/2,75pts



الصفحة	13	NS 45	الامتحان الوطني الموحد للبكالوريا - الدورة العادية 2022 - الموضوع - مادة: علوم المهندس- شعبة العلوم والتكنولوجيات: مسلك العلوم والتكنولوجيات الميكانيكية
20			

4- Calculer, en tenant compte des données du **DRES page 19/20**, le temps technologique  $T_t$  (en **min**) relatif à l'opération d'ébauche de **D3 (D3Éb)** :

a. Calculer la course  $L$  (en **mm**) de l'outil :

/1pt

b. Calculer la vitesse d'avance de l'outil  $V_f$  (en **mm/min**) :

/1pt

c. Déduire le temps technologique  $T_t$  (en **min**) :

/1pt

5- On désire choisir la machine capable de réaliser l'opération d'ébauche de **D3 (D3Éb)**, selon les données et les conditions de coupe du **DRES page 19/20** :

a. Calculer la puissance utile à la coupe  $P_u$  (en **kW**) :

/1pt

b. Calculer la puissance à fournir par le moteur de la machine  $P_{cm}$  (en **kW**) :

/1pt

c. Donner la référence de la machine optimale :

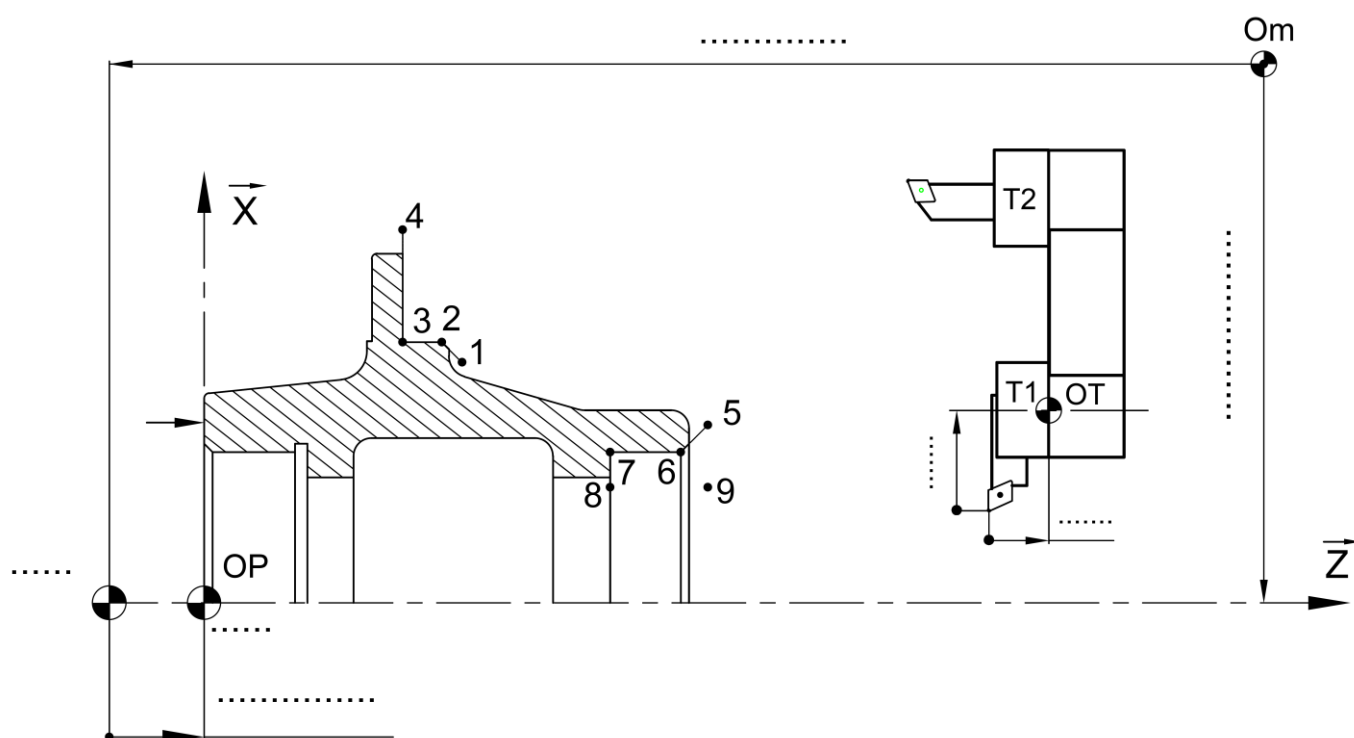
/1pt

**Tache 33 : Réalisation de la phase 30 sur un tour à CN : Voir les DRES pages 19/20 et 20/20.**

Dans cette **phase 30**, on se limitera à l'étude du programme partiel du profil fini des surfaces ( $C_1, D_2, F_{5éb}$ ) et ( $C_3, D_3, F_{7éb}$ ). Pour cela, on vous demande de :

1- Placer, sur le schéma ci-dessous, les origines **Opp** et **Op**, les vecteurs des  $\overrightarrow{PREFIX}$  et  $\overrightarrow{PREFIX}$ ,  $\overrightarrow{DEC1Z}$  ainsi que les jauges  $\overrightarrow{JX}$  et  $\overrightarrow{JZ}$  pour l'outil **T1** :

/3,5pts





الصفحة	14	NS 45	الامتحان الوطني الموحد للبكالوريا - الدورة العادية 2022 - الموضوع - مادة: علوم المهندس- شعبة العلوم والتكنولوجيات: مسلك العلوم والتكنولوجيات الميكانيكية
20			

- 2- Compléter, en mode absolu **G90** et en se référant au **DRES page 20/20**, le tableau des coordonnées des points du profil fini relatif aux surfaces (**C<sub>1</sub>, D<sub>2</sub>, F<sub>5éb</sub>**) et (**C<sub>3</sub>, D<sub>3</sub>, F<sub>7éb</sub>**) : (**Prendre les dimensions moyennes**) : /5pts

	Points à programmer								
Coordonnées	1	2	3	4	5	6	7	8	9
<b>X(Φ)</b>	<b>118</b>	.....	.....	<b>174</b>	<b>77,015</b>	.....	.....	<b>58</b>	.....
<b>Z</b>	<b>62</b>	.....	.....	<b>48,5</b>	<b>120</b>	.....	<b>99,5</b>	.....	.....

- 3- Compléter le programme, ci-dessous, des deux cycles d'usinage (**profil fini**) en se référant aux **DRES page 19/20**, au tableau des coordonnées ci-dessus et au croquis du parcours d'outil **page 13/20** : /7pts

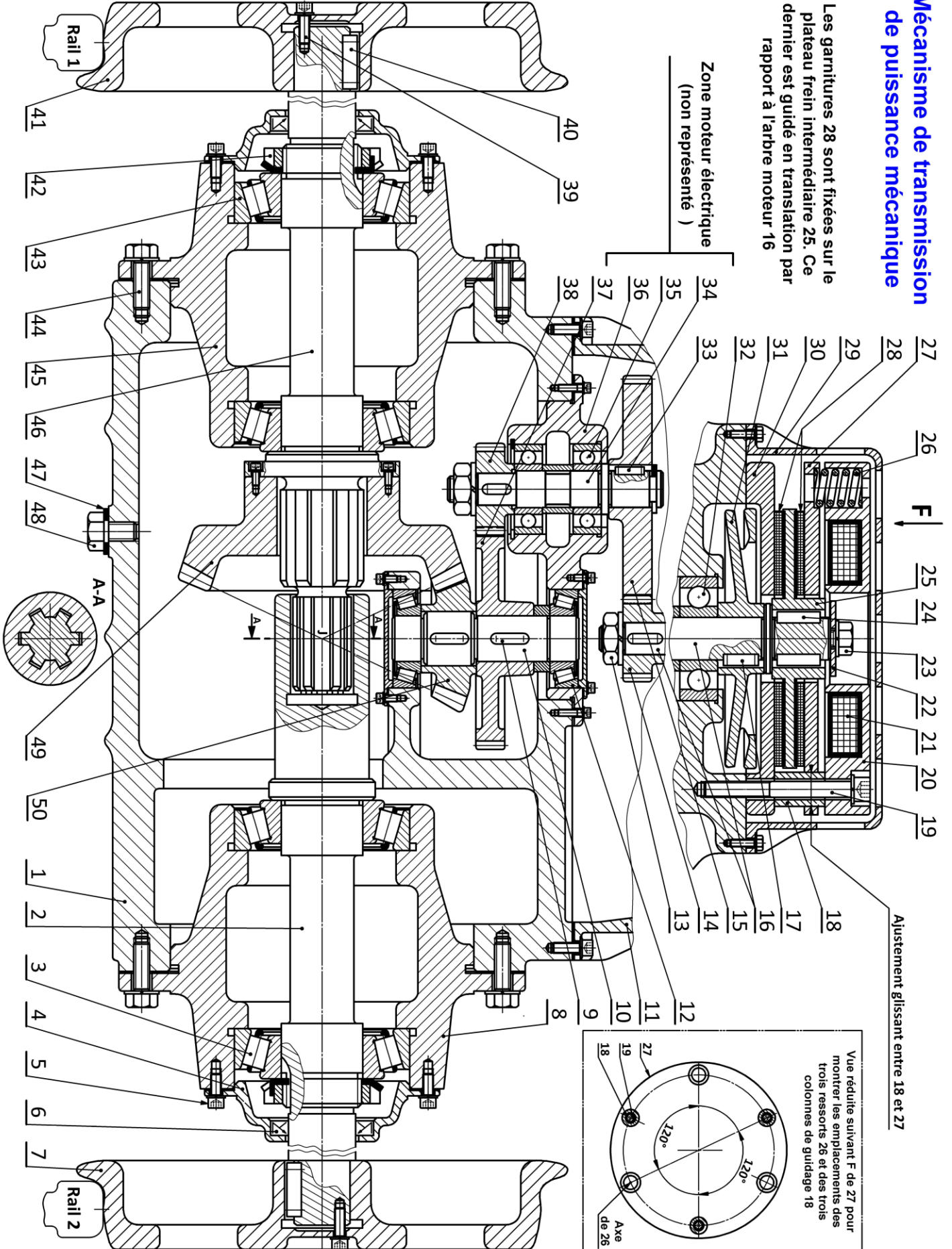
%	Phase 30	Commentaires
N10	G40 G80 G90 M05 M09	Initialisation
N20	G00 G52 X.... Z....	Retour origine machine OM
N30	T.... D.... M06	Appel d'outil N°1
N40	G97 S700	Fréquence de rotation
N50	G96 S.... X.... Z.... ....	Vitesse de coupe point 1 ; Rotation de broche sens trigo Gamme de fréquence ; Arrosage
N60	G.... G95 G.... X..... Z.....	Avance travail ; point 2 ; Correction d'outil ; avance (mm/tr)
N70	.....	Point 3
N80	.....	Point 4
N90	G52 G.... X.... Z.... G....	Retour origine machine OM ; Annulation de correction d'outil
N100	T.... D....	Appel d'outil N°2
N110	G96 S180 X77,015 Z120	Vitesse de coupe point 5
N120	G.... G.... .... F....	Avance travail ; point 6 ; correction d'outil ; Avance (mm/tr)
N130	....	Point 7
N140	....	Point 8
N150	....	Point 9
N160	G77 ....	Appel des blocs de sécurité
N170	....	Fin de programme

## Documents Ressources : DRES

### Mécanisme de transmission de puissance mécanique

Les garnitures 28 sont fixées sur le plateau frein intermédiaire 25. Ce dernier est guidé en translation par rapport à l'arbre moteur 16

Zone moteur électrique (non représenté)



الصفحة	16	NS 45	الامتحان الوطني الموحد للبكالوريا - الدورة العادية 2022 - الموضوع - مادة: علوم المهندس- شعبة العلوم والتكنولوجيات: مسلك العلوم والتكنولوجيات الميكانيكية
20			

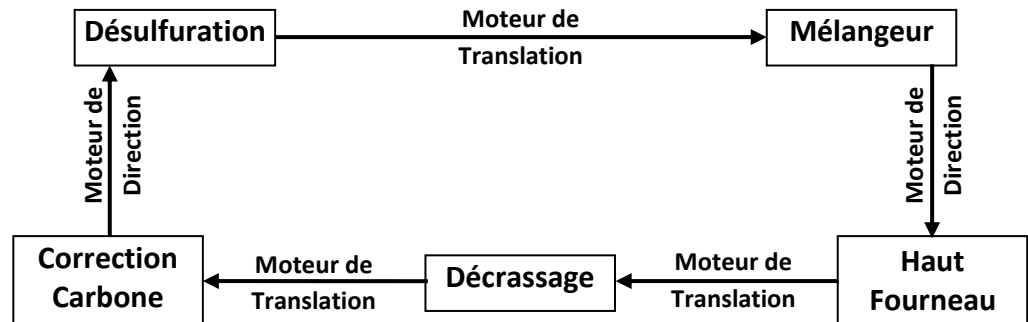
**Nomenclature :**

50	1	Pignon conique : $Z_{50} = 20$ dents		Dents Trempées
49	1	Roue dentée conique : $Z_{49} = 40$ dents		Dents Trempées
48	1	Vis à tête hexagonale ISO 4017 – M16 x 18	25 Cr Mo 4	
47	1	Joint d'étanchéité		
46	1	Arbre		
45	1	Palier gauche	EN-GJL-150	
44	8	Vis à tête hexagonale ISO 4017 – M8 x 30	25 Cr Mo 4	
43	2	Roulement à rouleaux coniques	E 295	
42	1	Ecrou à encoches type KM- M50		
41	1	Galet moteur gauche		
40	1	Clavette forme A, 16 x 10 x 35	C 35	NF E 22 -177
39	6	Vis à tête cylindrique à six pans creux ISO 4762 – M8 x 30		
38	1	Pignon : $Z_{38} = 18$ dents		Dents Trempées
37	1	Roue dentée : $Z_{37} = 54$ dents		Dents Trempées
36	1	Boitier		
35	2	Roulement à une rangée de billes à contact radial	E 295	
34	1	Arbre intermédiaire primaire		
33	2	Clavette forme A, 14 x 9 x 30	C 35	NF E 22 -177
32	1	Roulement à une rangée de billes à contact radial		
31	1	Ventilateur		
30	1	Plateau frein fixe	C 60	
29	1	Capot perforé du moteur électrique		
28	2	Garniture frein	Ferodo	
27	1	Plateau frein mobile (en translation)	C 30	
26	3		50 Cr V4	
25	1	Plateau frein intermédiaire mobile (en translation)	C 30	
24	2	Clavette forme A, 14 x 9 x 34	C 35	NF E 22 -177
23	1	Vis à tête hexagonale ISO 4017 – M12 x 30	25 Cr Mo 4	
22	1	Rondelle plate		
21	1			
20	1	Support porte électro-aimant		
19	3	Vis à tête cylindrique à six pans creux ISO 4762 – M12 x 80		
18	3	Colonne de guidage	C 30	
17	1	Clavette forme A, 14 x 9 x 28	C 35	NF E 22 -177
16	1	Arbre moteur		
15	1	Roue dentée : $Z_{15} = 60$ dents		Dents Trempées
14	1	Pignon : $Z_{14} = 20$ dents		Dents Trempées
13	1	Ecrou hexagonal ISO 4032 – M20 - 18		
12	2	Roulement à rouleaux coniques		
11	1	Corps moteur électrique		ISO 2982
10	1	Arbre intermédiaire secondaire		
9	4	Clavette forme A, 14 x 9 x 28	C 35	NF E 22 -177
8	1	Palier droit		
7	1	Galet moteur droit		
6	2			
5	12	Vis à tête cylindrique à six pans creux ISO 4762 – M8 x 20	25 Cr Mo 4	
4	2	Couvercle	EN-GJL-150	
3	2	Roulement à rouleaux coniques		
2	1	Arbre		
1	1	Bâti	EN-GJL-150	
Rep	Nb	Désignation	Matière	Observation

الصفحة	17	NS 45	الامتحان الوطني الموحد للبكالوريا - الدورة العادية 2022 - الموضوع - مادة: علوم المهندسين - شعبة العلوم والتكنولوجيات: مسلك العلوم والتكنولوجيات الميكانيكية
20			

**Données pour la tâche 13 :**

**Le cycle fonctionnel de traitement de la fonte en fusion :**



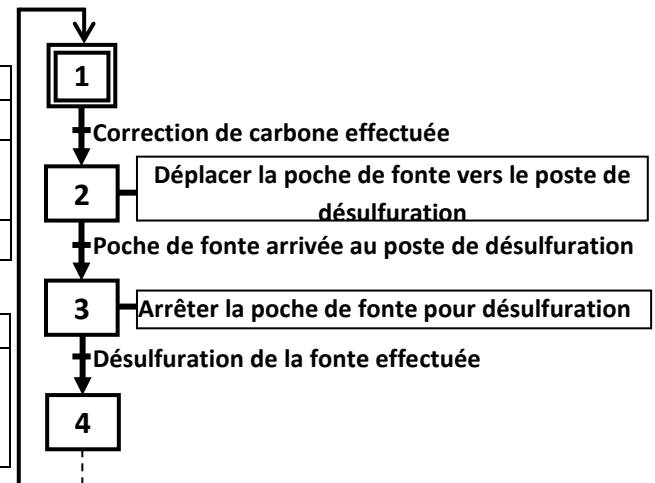
**Grafset relatif au déplacement de la poche du (poste de correction de carbone) au (poste de désulfuration) :**

**Affectation des entrées :**

Entrées	Désignation
Capteur de correction carbone effectuée :	cce
Capteur de l'arrivée de la poche au poste de désulfuration :	cadé
Capteur de désulfuration effectuée :	cde

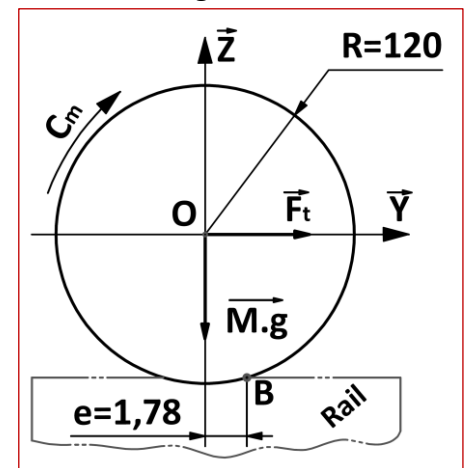
**Affectation des sorties :**

Sortie	Désignation
Contacteur commandant le moteur MD du chariot de direction qui assure le déplacement de la poche de fonte en fusion.	KM

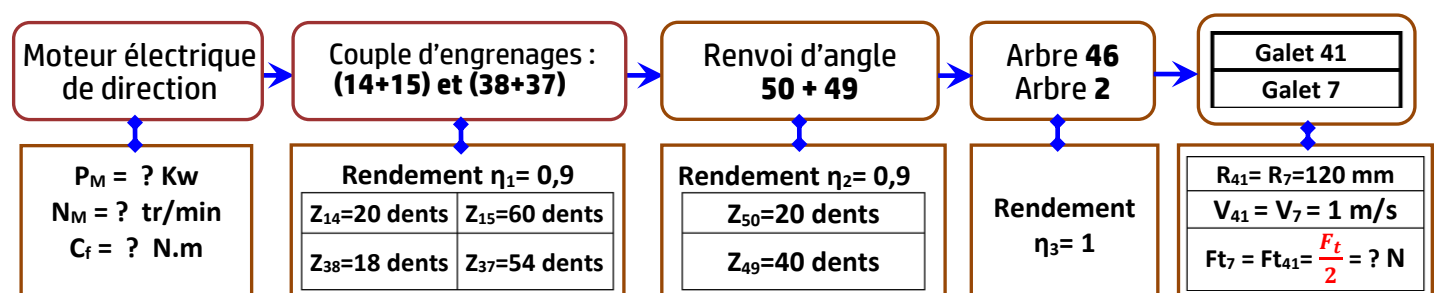


**Données pour la tâche 21 :**

- La masse totale (Chariot de direction + Poche pleine de Fonte en fusion) est :  $M=12000 \text{ Kg}$  ;
- Le chariot de direction roule sans glisser sur les rails à une vitesse linéaire constante :  $V_7 = V_{41} = V = 1 \text{ m/s}$  ;
- Les rayons des galets moteurs sont identiques :  $R_7 = R_{41} = R = 120 \text{ mm}$  ;
- L'accélération de la pesanteur est  $g = 10 \text{ m/s}^2$  ;
- Le coefficient de résistance au roulement est  $e = 1,78 \text{ mm}$  ;
- $F_t$  est la force de traction horizontale résultante capable de déplacer le chariot de direction suivant l'axe  $\vec{Y}$  ;
- La condition de rotation uniforme des galets moteurs est donnée par la formule suivante :  $M \cdot g \cdot e = F_t \cdot R$  : (Basculement autour du point B) ;



**Agencement de la chaîne de transmission de puissance mécanique dans le chariot de direction :**



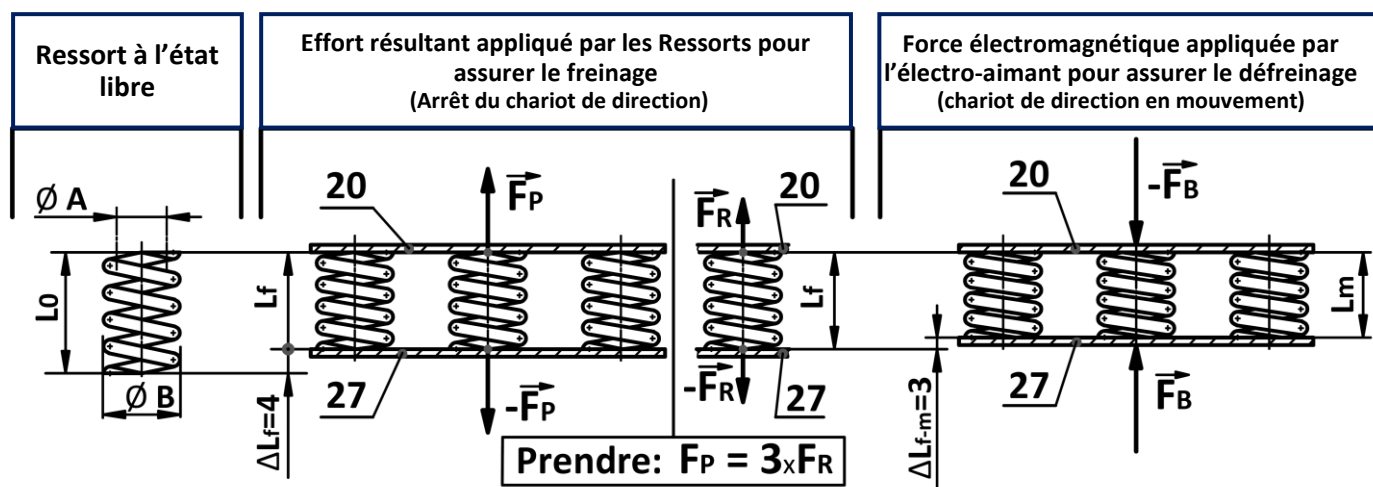
الصفحة	18	NS 45	الامتحان الوطني الموحد للبكالوريا - الدورة العادية 2022 - الموضوع - مادة: علوم المهندس- شعبة العلوم والتكنولوجيات: مسلك العلوم والتكنولوجيات الميكانيكية
20			

**Tableau pour le choix du moteur électrique optimal :**

Type du moteur :	FLS 90 L	LSPX 90 L	FLS 100 LK	LSPX 100 L	LS 100 L	FLS 100 LK
Puissance $P_M$ (en kW) :	1,8	1,8	2,2	2,2	3	3
Fréquence de rotation $N_M$ (en tr/min) :	1438	1440	1457	1435	1450	1454
Couple de freinage $C_f$ (en N.m) :	20	20	22	25	25	43

**Données pour la tâche 22 :**

- Les garnitures frein **28** sont fixées sur le plateau frein mobile **25** ;
- Le rayon extérieur des garnitures frein **28** est  $R_e = 94 \text{ mm}$  ;
- Le rayon intérieur des garnitures frein **28** est  $R_i = 32 \text{ mm}$  ;
- Le coefficient de frottement entre les garnitures **28**, le **plateau fixe 30** et le **plateau mobile 27** est  $f=0,3$  ;
- Le couple de freinage est  $C_f = 25 \text{ N.m}$ .



- $F_P$  : Effort résultant appliqué par les **trois ressorts** pour assurer la fonction freinage ;
- $F_R$  : Effort appliqué par un **seul ressort** pour assurer la fonction freinage ;
- $F_B$  : Force électromagnétique minimale que doit appliquer l'électro-aimant pour libérer les contacts entre les surfaces de freinage ;
- Pour un ressort de compression la relation liant la force  $F$  (en N), la déformation  $\Delta l$  (en mm) et la raideur  $k$  (en N/mm) est donnée par l'expression :  $F = k \times \Delta l$  ;
- Lorsqu'il est mis sous tension, l'électro-aimant produit une force électromagnétique  $F_D = 1200 \text{ N}$  pour libérer les contacts entre les surfaces de freinage : (défreinage).

**Tableau pour le choix du ressort :**

Références Des ressorts	Diamètre $\varnothing A$ (en mm)	Diamètre $\varnothing B$ (en mm)	Longueur $L_0$ libre (en mm)	Charge à 1 mm de déformation (en N)
R203406	20,0	10,0	38,0	33,3
R204406	20,0	10,0	38,0	56,0
R203505	25,0	12,5	32,0	80,3
R204506	25,0	12,5	38,0	93,0
R206406	20,0	10,0	38,0	177,0
R205406	20,0	10,0	38,0	129,0



الصفحة	19	NS 45	الامتحان الوطني الموحد للبكالوريا - الدورة العادية 2022 - الموضوع - مادة: علوم المهندس- شعبة العلوم والتكنولوجيات: مسلك العلوم والتكنولوجيات الميكانيكية
20			

**Hypothèses et données pour la tâche 23 :**

- Les poids des pièces liées à l'arbre **46** sont négligés. Cet arbre est guidé en rotation par deux paliers supposés sans frottement. Toutes les forces appliquées à l'arbre **46** sont supposées dans des plans parallèles au plan perpendiculaire à son axe ;
- L'arbre **46** est assimilé à une poutre cylindrique pleine de diamètre **d**, en acier pour lequel  $R_{eg}=160 \text{ N/mm}^2$  ;
- L'intensité de l'effort tangentiel appliqué au point de contact entre le galet moteur **41** lié complètement à l'arbre **46** et le rail **1** est :  $F_{t41} = 890 \text{ N}$  ;
- Le rayon du galet moteur **41** est :  $R_{41} = 120 \text{ mm}$  ;
- On adopte pour cette construction un coefficient de sécurité  $s = 5$  ;
- Les singularités de formes au niveau de l'arbre **46** provoquent une concentration de contraintes  $k_t = 2,7$  ;
- Le module de coulomb est :  $G = 8 \times 10^4 \text{ N/mm}^2$  ;
- L'angle unitaire de torsion ne doit pas dépasser la valeur :  $\theta_{limite} = 0,5^\circ/\text{m} = 0,872 \times 10^{-5} \text{ rad/mm}$ .

**Données pour les tâches de la SEV 3 :**

• Avant-projet d'étude de fabrication du palier (45) :

N° Phase	Désignation	Surfaces usinées
10	Contrôle de brut	
20	Tournage	$F_1 ; (D_1 ; F_{3éb}) ; (F_2 ; F_3 ; D_7) ; (D_4 ; F_4) ; C_2 \text{ et } C_4$
30	Tournage	$(D_2 ; F_{5éb}) ; (F_5 ; F_6 ; D_8) ; (D_3 ; F_{7éb}) ; (F_7 ; F_8 ; D_9) ; C_1 \text{ et } C_3$
40	Perçage	$8 \times D_5$
50	Perçage/taraudage	$6 \times D_6 ; 6 \times A$
60	Contrôle final	

• Données relatives à l'opération d'ébauche de  $D3Éb = \varnothing 72,5 \text{ mm}$  :

Engagement e et longueur usinée l	Diamètre D3Éb	Vitesse de coupe Vc	Avance f	Profondeur de passe a	Pression spécifique de coupe Kc	Rendement des machines $\eta$	Références des machines existantes à l'atelier	Puissance de leurs moteurs Pm
e = 2mm l = 18,5 mm	$\varnothing 72,5 \text{ mm}$	135 m/min	0,3 mm/tr	2 mm	230 daN/mm <sup>2</sup>	0,8	Tr 03	3 kW
							Tr 04	4 kW
							Tr 05	5 kW

• Données relatives à la réalisation du programme partiel du profil en finition des surfaces (C1, D2, F5éb) et (C3, D3, F7éb) sur la machine à commande numérique deux axes :

- Les vitesses :  $N = 700 \text{ tr/min}$  ;  $V_{c1} = 180 \text{ m/min}$  (outil 1) ;  $V_{c2} = 180 \text{ m/min}$  (outil 2) ;
- Les vitesses d'avance,  $f_1 = 0,1 \text{ mm/min}$  pour usinage extérieur et  $f_2 = 0,1 \text{ mm/min}$  pour tournage intérieur ;
- Les tableaux des codes G et M :

Fonctions M	Fonctions G
<p><b>M02 : Fin du programme</b></p> <p><b>M03 : Rotation de broche sens horaire</b></p> <p><b>M04 : Rotation de broche sens trigonométrique</b></p> <p><b>M05 : Arrêt broche</b></p> <p><b>M06 : Changement d'outil</b></p> <p><b>M08 : Arrosage n° 1</b></p> <p><b>M09 : Arrêt d'arrosage</b></p> <p><b>M42 : Gamme de vitesse de broche</b></p>	<p><b>G00 : Interpolation linéaire en rapide</b></p> <p><b>G01 : Interpolation linéaire en avance programmée</b></p> <p><b>G02 : Interpolation circulaire sens horaire</b></p> <p><b>G03 : Interpolation circulaire sens trigonométrique</b></p> <p><b>G40 : Annulation de la correction d'outil</b></p> <p><b>G41 : correction du rayon d'outil à gauche du profil</b></p> <p><b>G42 : correction du rayon d'outil à droite</b></p> <p><b>G52 : Programmation absolue (origine mesure)</b></p> <p><b>G71 : Programmation en métrique</b></p> <p><b>G77 : Appel inconditionnel de blocs</b></p> <p><b>G80 : Annulation de cycle d'usinage</b></p> <p><b>G90 : Programmation absolue des coordonnées</b></p> <p><b>G92 : Limitation de la vitesse de broche</b></p> <p><b>G95 : Vitesse d'avance en mm/tr</b></p> <p><b>G96 : Vitesse de coupe en m/min</b></p> <p><b>G97 : Vitesse de rotation broche en tr/min</b></p>

الصفحة	20	NS 45	الامتحان الوطني الموحد للبكالوريا - الدورة العادية 2022 - الموضوع - مادة: علوم المهندس- شعبة العلوم والتكنولوجيات: مسلك العلوم والتكنولوجيات الميكانيكية
20			

• Dessin de définition du palier gauche 45 :

