


<div>الصفحة</div> <div>1</div> <div>10</div>		<div>المملكة المغربية</div> <div>وزارة التربية الوطنية</div> <div>والتكوين المهني</div> <div>ⵜⴰⵎⴰⵔⴰⵏⵜ ⵏ ⵓⵔⵎⴰⵙⵜ ⵏ ⵉⵔⵉⵎⴰⵏⵜ ⵏ ⵓⵙⵔⵉⵎⴰⵏⵜ ⵏ ⵓⵙⵔⵉⵎⴰⵏⵜ</div> <div></div> <div>المركز الوطني للتقويم والامتحانات</div> <div>والتوجيه</div>	
<div>الإمتحان الوطني الموحد للبيكالوريا</div> <div>الدورة العادية 2015</div> <div>- عناصر الإجابة -</div> <div>NR 45</div>			
4	مدة الإنجاز	علوم المهندس	المادة
8	المعامل	شعبة العلوم والتكنولوجيات : مسلك العلوم والتكنولوجيات الميكانيكية	الشعبة أو المسلك

ÉLÉMENTS DE CORRECTION

Observation

Le correcteur est tenu de respecter à la lettre les consignes relatives aux répartitions des notes indiquées sur les éléments de correction

Documents réponses

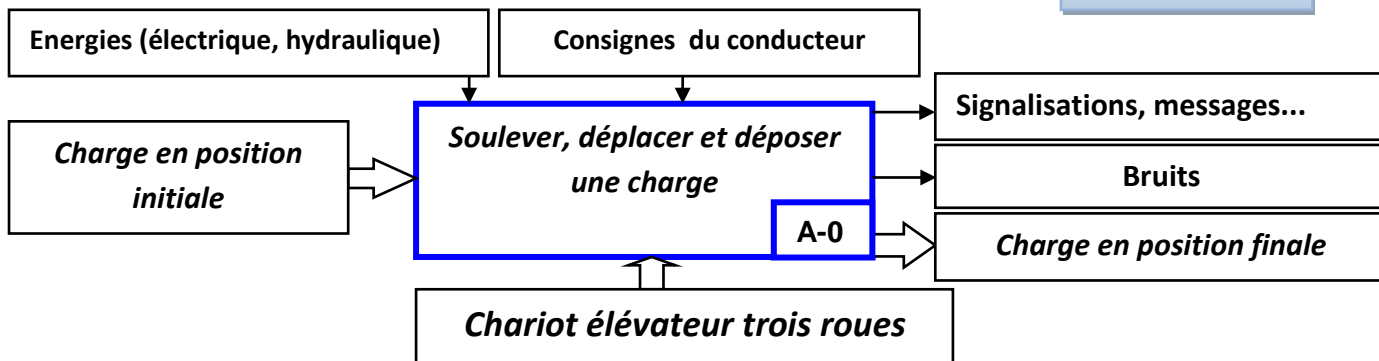
SITUATION D'EVALUATION 1 :

Tâche 1.1 :

/1pt

a- L'actigramme de niveau A-0 du chariot élévateur :

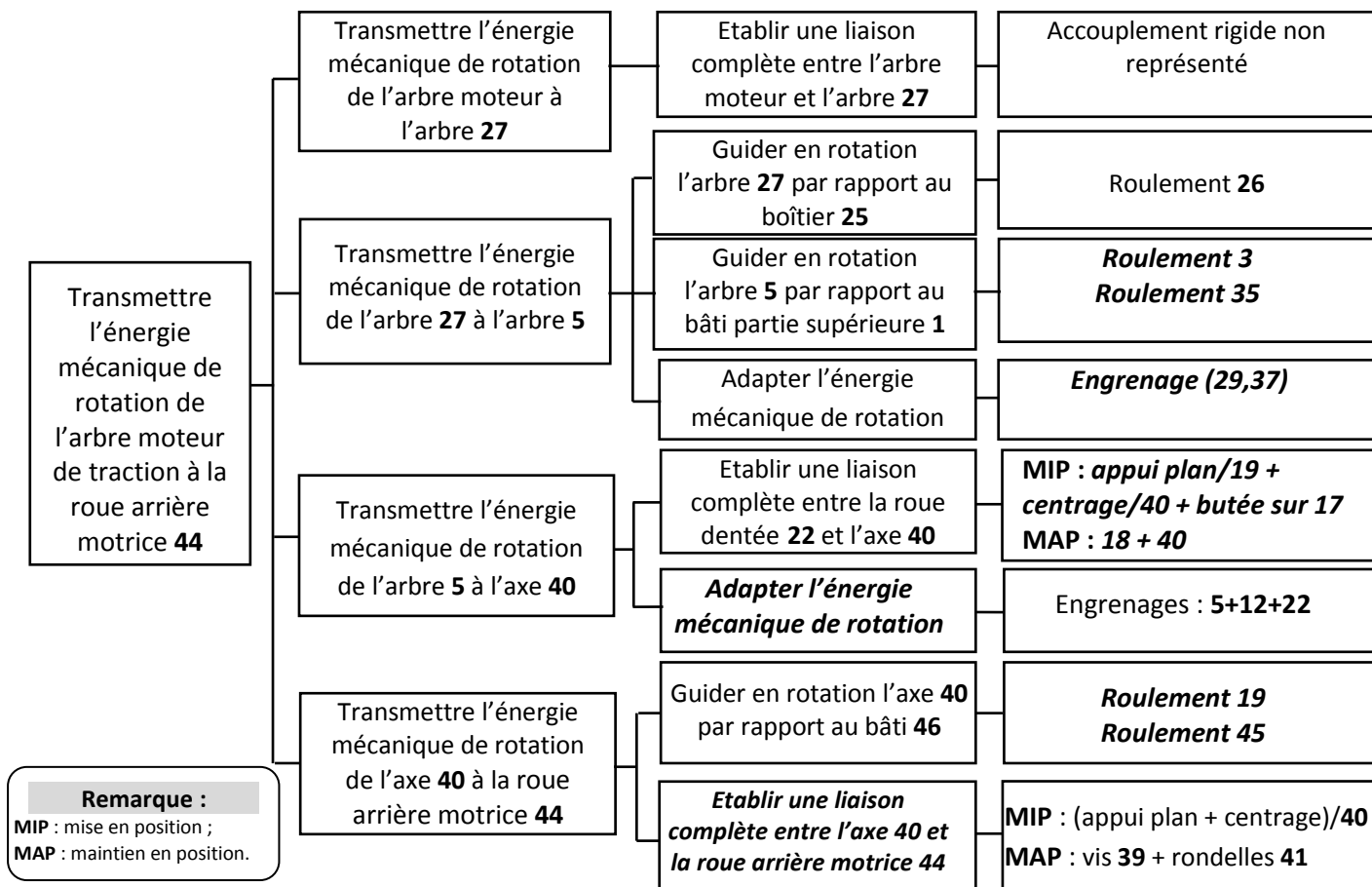
0.25 pt par réponse



b- Le diagramme F.A.S.T partiel:

0.25 pt par réponse

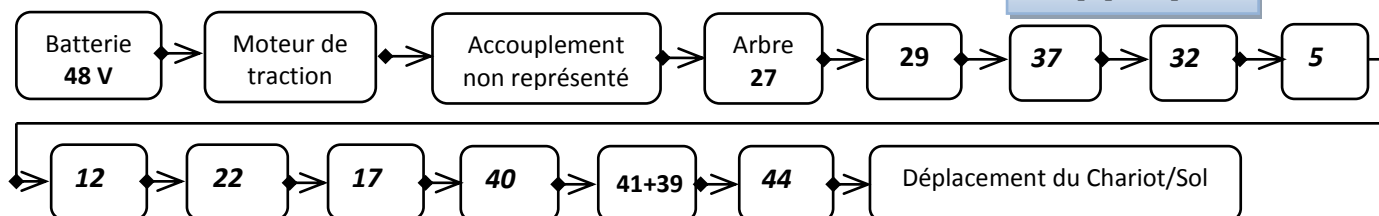
/1,5 pt



c- Les éléments du graphe cinématique du mécanisme de traction qui permettent la transmission du mouvement de l'arbre 27 à la roue arrière motrice 44 :

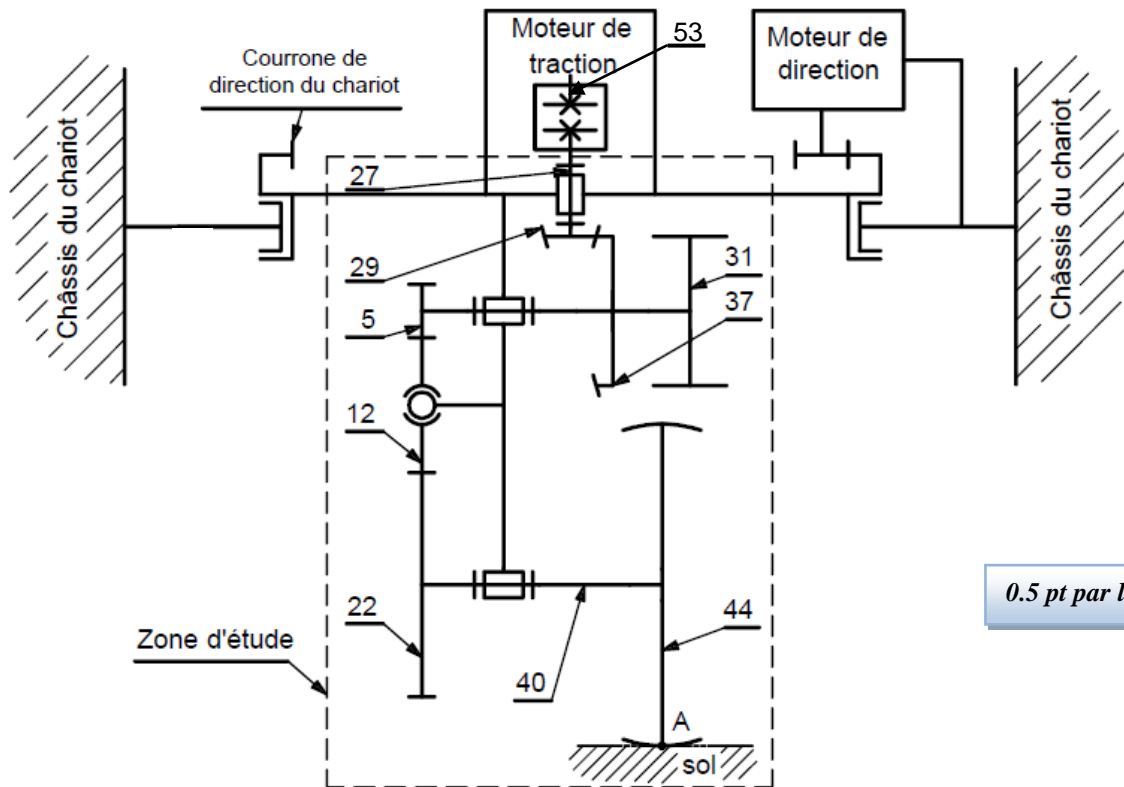
0.25 pt par réponse

/1,5 pt



d- Le schéma cinématique minimal du mécanisme de traction:

/2 pts



0.5 pt par liaison

Tâche 1.2 :

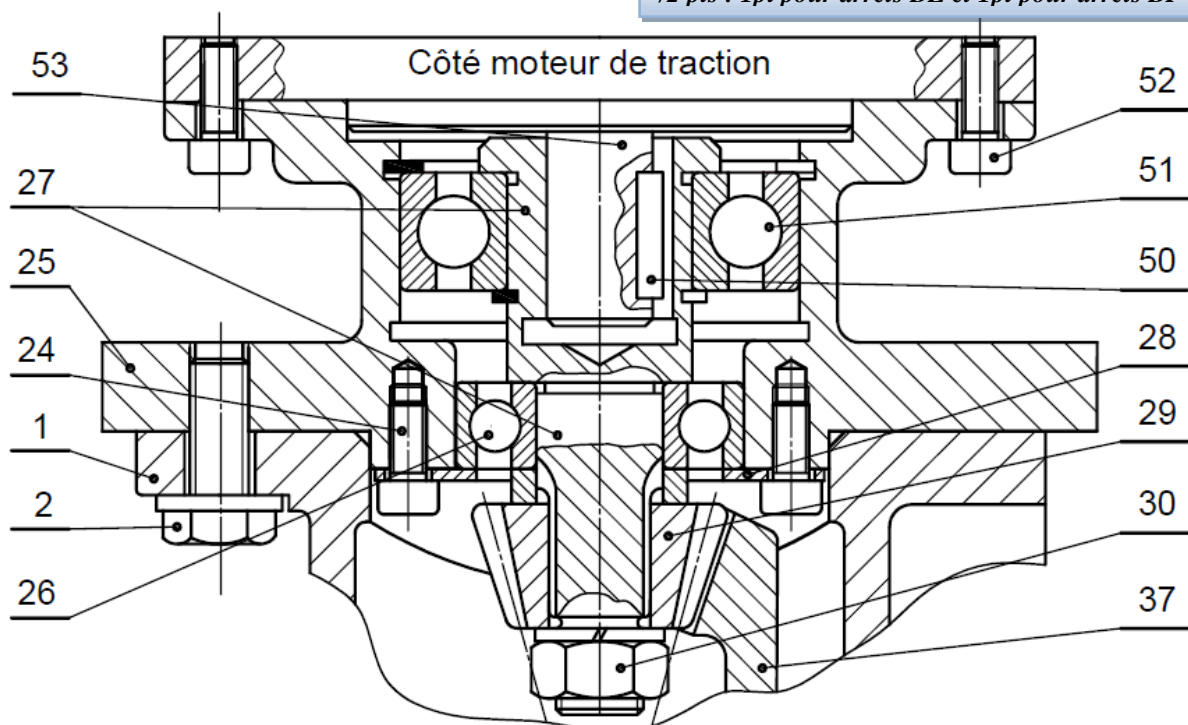
- a- Le nom de l'élément, symbolisé sur le schéma cinématique ci-dessus, assurant la liaison entre l'arbre 53 du moteur de traction et l'arbre d'entrée 27 : /0,5pt

L'élément qui assure la liaison est un accouplement rigide

b- Le dessin :

- b.1. la liaison complète entre l'arbre 53 du moteur de traction et l'arbre d'entrée 27 ; /1pt
b.2. le montage des roulements 26 et 51. /2pts

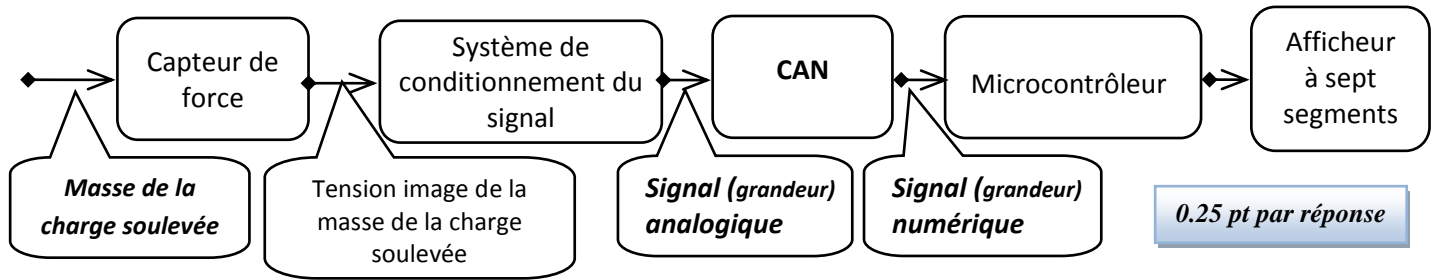
/2 pts : 1pt pour arrêts BE et 1pt pour arrêts BI



Tâche 1.3 :

a- Les grandeurs d'entrées/sorties manquantes de la chaîne d'information :

/0,75pt



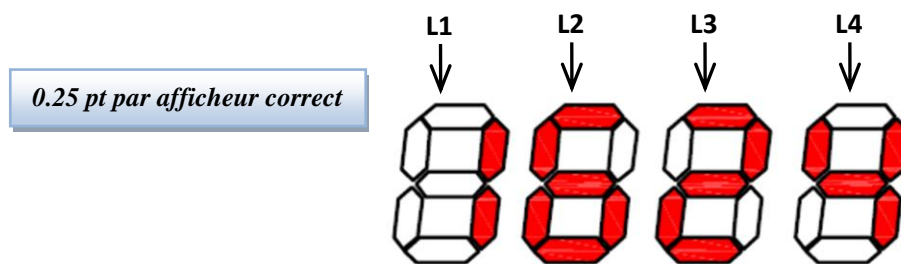
b- L'élément assurant la fonction "Traiter" de la chaîne ci-dessus :

/0,5pt

La fonction "traiter" est assurée par le microcontrôleur.

c- Les segments des afficheurs sept segments **L2**, **L3** et **L4** qui sont allumés dans le cas où la masse de la charge soulevée est **1624 kg** sont noircis comme suit :

/0,75pt



d- Le tableau de fonctionnement des segments des quatre afficheurs affichant la masse de la charge soulevée de **1624 kg** (segment allumé : 1 ; segment éteint : 0).

/1pt

0.25 pt par ligne juste

	a	b	c	d	e	f	g
L1	0	1	1	0	0	0	0
L2	1	0	1	1	1	1	1
L3	1	1	0	1	1	0	1
L4	0	1	1	0	0	1	1

SITUATION D'ÉVALUATION 2 :

Tâche 2.1 :

a. Le rapport de transmission $k = \frac{N_{44}}{N_{27}}$ et la fréquence de rotation N_{44} :

/1 pt

$$k = \frac{N_{44}}{N_{27}} = \frac{Z_{29} \times Z_5}{Z_{37} \times Z_{22}} = \frac{16 \times 17}{64 \times 85} = \frac{1}{20} = 0,05$$

$$N_{44} = k \times N_{27} = 0,05 \times 3000 = 150 \text{ tr/min}$$

b. La vitesse angulaire de la roue ω_{44} (en rad/s) :

/0,5 pt

$$\omega_{44} = \frac{2\pi \times N_{44}}{60} = \frac{2\pi \times 150}{60} = 15,70 \text{ rad/s}$$

الصفحة 5 10	NR 45	الامتحان الوطني الموحد للبكالوريا - الدورة العادية 2015 - عناصر الإجابة - مادة : علوم المهندس - شعبة العلوم والتكنولوجيات : مسلك العلوم والتكنولوجيات الميكانيكية
-------------------	-------	--

- c. La vitesse de déplacement V (en m/s) du chariot : /1 pt

$$V = \omega_{44} \cdot \frac{d_{44}}{2} = 15,7 \times 90 \cdot 10^{-3} = 1,41 \text{ m/s}$$

- d. La puissance nécessaire P (en kW) pour déplacer le chariot : /1 pt

$$P = F_T \times V = 3500 \times 1,41 = 4935 \text{ (Watt)} = 4,935 \text{ kW}$$

- e. La puissance utile P_u (en kW) du moteur de traction : /1 pt

$$P_u = \frac{P}{\eta_r} = \frac{4,935}{0,8} = 6,168 \text{ kW}$$

- f. Le type du moteur électrique qui convient : /0,5pt

Le moteur choisi est LS 132 S

Tâche 2.2 :

- a. La pression hydraulique P_3 (en bar) dans le vérin hydraulique central : /1 pt

$$P_3 = \frac{F}{S_v} \times \frac{1}{\eta_v} = \frac{4 \times F}{\pi \times d_v^2} \times \frac{1}{\eta_v} = \frac{4 \times 30000 \times 10}{\pi \times 63^2} \times \frac{1}{0,7} = 137,48 \text{ bar}$$

- b. La vitesse V_f (en m/s) du fluide dans la conduite 2-3 : /1 pt

$$V_f = \frac{Q_v}{S_{Conduite}} = \frac{4 \times Q_v}{\pi \times d^2} = \frac{4 \times 0,5 \times 10^{-3} \times 10^6}{\pi \times 18^2} = 1,964 \text{ m/s}$$

- c. Le nombre de RYNOLDS (R) et la nature de l'écoulement : /1 pt

$$R = \frac{V_f \times d}{\nu} = \frac{1,964 \times 18 \times 10^{-3}}{0,25 \times 10^{-4}} = 1414,71$$

$R=1414,7 < 2000$ donc l'écoulement est laminaire

- d. Le théorème de BERNOULLI entre les points 2-3 et la valeur de la pression hydraulique P_2 en prenant $P_3 = 137,55 \text{ bar}$: /2 pts

$$\frac{1}{2} [(V_3)^2 - (V_2)^2] + g \times (Z_3 - Z_2) + \frac{1}{\rho} (P_3 - P_2) = J_{2-3} + W_{2-3}$$

$$\frac{1}{\rho} (P_3 - P_2) = J_{2-3} \Leftrightarrow P_2 = P_3 - \rho \times J_{2-3} = 137,55 - 900 \times (-50) \cdot 10^{-5} = 138 \text{ bar}$$

$$P_2 = 138 \text{ bar}$$

- e. La puissance nette P_n (en kW) de la pompe : /1 pt

$$P_n = \rho \times Q_v \times W_{1-2} = 900 \times 0,5 \times 10^{-3} \times 15,24 \times 10^3 \times 10^{-3} = 6,858 \text{ kW}$$

- f. La puissance mécanique P_m (en kW) de la pompe : /1 pt

$$P_m = \frac{P_n}{\eta_p} = \frac{6,858}{0,85} = 8,068 \text{ kW}$$

- g. Le calibre convenable de la pompe hydraulique : /0,5 pt

La pompe choisie a pour calibre 22

Tâche 2.3 :

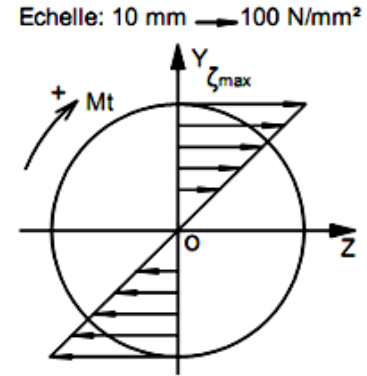
a. La valeur du couple **C** appliqué à l'axe 40 (en **N.m**) et déduction du moment de torsion **M_t** : /1,5 pt

$$P_u = C \times \omega_{40} \Leftrightarrow C = \frac{P}{\omega_{40}} = \frac{30 \times P}{\pi \times N_{40}} = \frac{30 \times 6000}{150 \times \pi} = 381,971 \text{ N.m donc } M_t = 381,971 \text{ N.m}$$

b. Calcul, en prenant **M_t = 385 N.m**, de la contrainte tangentielle maximale **ζ_{max}** (en **N/mm²**) et la représentation de la répartition des contraintes tangentielles de torsion sur la figure ci-dessous : /1,5 pt

$$\zeta_{max} = \frac{k_t \times M_t}{I_0} \times \frac{d}{2} = \frac{16 \times k_t \times M_t}{\pi \times d^3}$$

$$\zeta_{max} = \frac{16 \times 1,5 \times 385 \times 10^3}{\pi \times 24^3} = 212,759 \text{ N/mm}^2$$



c. Détermination de la résistance élastique au glissement **R_{eg}** (en **N/mm²**) du matériau afin de respecter la condition de résistance et déduction de la résistance élastique **R_e** (en **N/mm²**) : /1,5 pt

Condition de résistance à la torsion

$$\zeta_{max} \leq \frac{R_{eg}}{s} \Leftrightarrow R_{eg} \geq s \times \zeta_{max} = 2,5 \times 212,759$$

$$\Leftrightarrow R_{eg} \geq 531,897 \text{ N/mm}^2$$

$$R_e = \frac{R_{eg}}{0,7} = \frac{531,897}{0,7} = 759,852 \text{ N/mm}^2$$

d. La nuance du matériau qui convient pour cette construction : /0,5 pt

La nuance du matériau choisie est celle dont $R_e=770 \text{ N/mm}^2$, c'est donc 35 Cr Mo 4

SITUATION D'ÉVALUATION 3 :

Tâche 3.1 :

a. Le type d'acier de l'axe 40 (non allié ou faiblement allié ou fortement allié) et le pourcentage du chrome relatif aux cinq nuances proposées sur le tableau du choix de la nuance usuelle : /1pt

- ✓ Type d'acier : **faiblement allié** ;
- ✓ % du chrome : **1 %**.

0.5 pt /réponse

b. Les deux modes d'élaboration de l'acier :

Acier à oxygène et acier électrique.

0.5 pt / réponse

c. La signification et le type de tolérance des symboles suivants :

/1,5pt

Symbole	Signification	Type de tolérance
\perp	Perpendicularité	Orientation
\equiv	Symétrie	Position
\varnothing	Cylindricité	Forme

0.25 pt / réponse

d. Le procédé d'élaboration de l'axe 40 sachant qu'il est forgé :

/0,5pt



Estampage



Matriçage

e. Le dessin du brut capable de l'axe 40 :

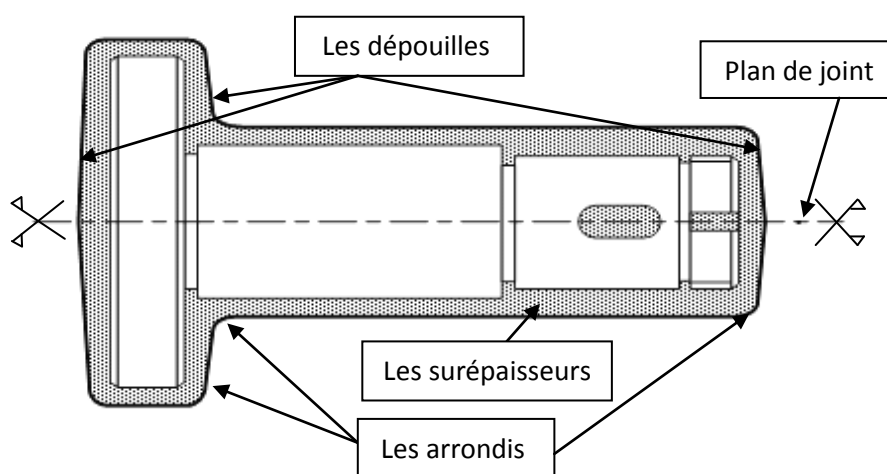
/2,5pts

Les surépaisseurs d'usinage, le plan de joint, les arrondis et les dépouilles :

Le rôle de la dépouille : *faciliter l'extraction de la pièce des matrices.*

0.5 pt

Les surépaisseurs d'usinage : 0,5 pt
Le plan de joint : 0,75 pt
Les arrondis : 0,25 pt
La dépouille : 0,5 pt



f. Deux avantages du procédé d'élaboration de brut de l'axe 40 :

/1 pt

✓ **Qualité dimensionnelle obtenue 9 à 11 ;**

Tenir compte des autres réponses justes de l'élève

✓ **Caractéristiques mécaniques accrues par rapport à celles du matériau d'origine, car ce procédé améliore la compacité et provoque « un fibrage » dans les pièces.**

g. Le type de traitement thermique à appliquer pour remédier au défaut du grossissement de grains dû à l'opération de forgeage à cause de l'élévation de température :

/1 pt

Recuit de régénération ou Recuit de recristallisation.

Tâche 3.2 :

a. Les phases de l'A.P.E.F de l'axe 40 par ordre :

/1,25 pt

Phase	Ordre des phases
Fraisage des rainures R1, R2	Phase 40
Rectification de D2, D3	Phase 60
Tournage de F1, D1, C1	Phase 10
Tournage de (D2, F3), (D3, F4), gorge G1, G2, G3, C3, C4, A1	Phase 30
Perçage-Taraudage de 6x A2	Phase 50
Tournage de F2, C2	Phase 20

Les deux solutions possibles

0.25 pt / réponse

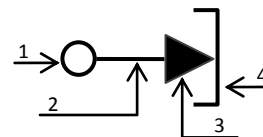
b. La phase de **Perçage-Taraudage** :

b.1. La signification de chacune des quatre parties du symbole suivant :

/1 pt

- 1 : *Type de technologie des éléments (centrage fixe) ;*
- 2 : *Nature de la surface d'appui (usinée) ;*
- 3 : *Fonction de l'appui (mise en position) ;*
- 4 : *Nature du contact avec la surface (contact surfacique).*

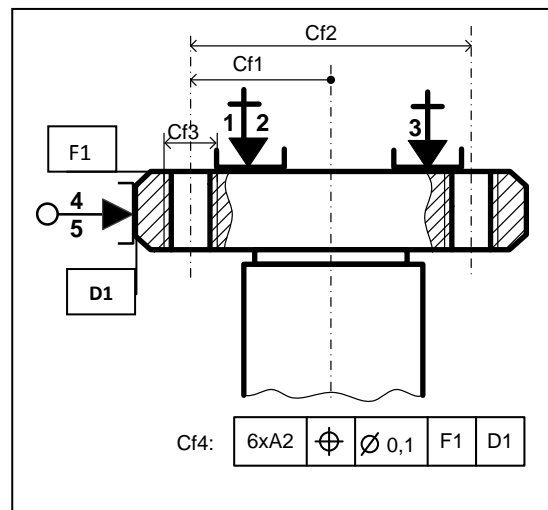
0.25 pt / réponse



b.2. Justification du choix de cette mise en position : /1 pt

6xA2	\oplus	$\varnothing 0,1$	F1	D1
------	----------	-------------------	----	----

Référence primaire appui plan (1, 2, 3) / F1,
Référence secondaire centrage court (4,5) / D1.



b.3. Les cotes fabriquées : /1 pt

0.25 pt / cf

b.4. La machine et les outils à utiliser pour l'usinage du perçage-taraudage de **A2= M8x1,5** : /0,75 pt

0.25 pt / réponse

Machine	Machine à utiliser
Fraiseuse horizontale	
Fraiseuse verticale	
Perceuse-taraudeuse	
Tour parallèle	

Outil	Outils à utiliser
Fraise deux tailles	
Foret $\varnothing 6,5$	
Alésoir machine	
Taraud M8	

b.5. Le temps technologique **Tt** (en **cmin**) de l'opération de perçage d'un seul trou :

/2pts

$$L = X + e + lc + e' ; \quad X = \frac{R}{tg\kappa_r} = \frac{3,25}{1,732} = 1,876 \text{ mm}$$

$$L = X + e + lc + e' = 1,876 + 2 + 15 + 2 = 20,876 \text{ mm}$$

$$Vf = N \cdot f = \frac{1000 \cdot Vc}{\pi \cdot D} \cdot f = \frac{35000}{\pi \cdot 6,5} \cdot 0,1 = 171,397 \text{ mm/min}$$

$$Tt = \frac{L}{Vf} = \frac{20,876}{171,397} = 0,1217 \text{ min} = 12,17 \text{ cmin} ;$$

L /0,5pt ;
Vf /0,5pt ;
Tt /1pt.

Tt = 12,17 cmin

c. Les moyens de contrôle des spécifications suivantes :

/1.5 pt

Spécification	Instrument
$15^{\pm 0,1}$	Calibre à coulisse
A2= M8x1,5	Tampon fileté
λ	Comparateur + banc à pointe ou Comparateur + Vé

0.5 pt / réponse

Tâche 3.3 :

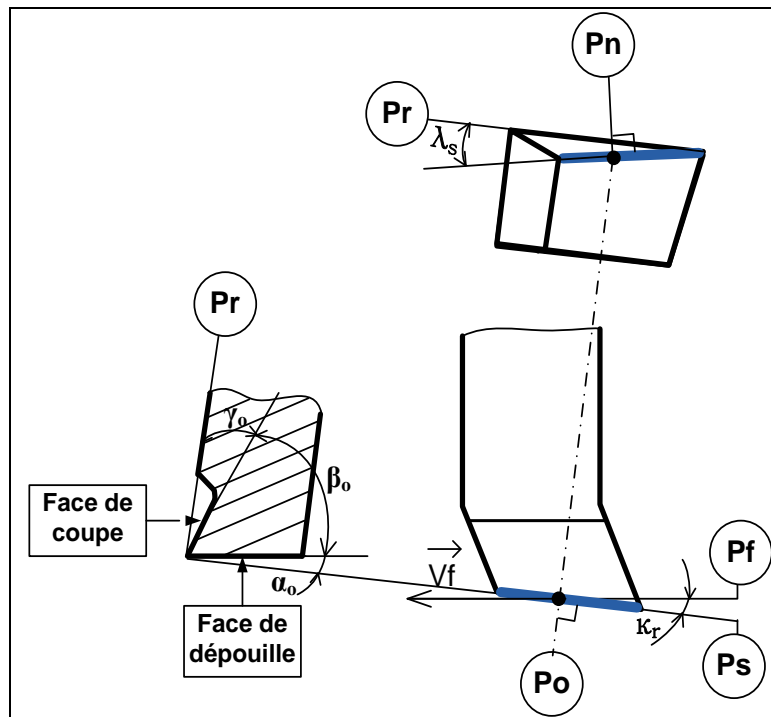
a. Le nom de l'outil utilisé, représenté ci-dessous : /0,5pt
Outil à dresser d'angle (raccordé)

b. L'orientation de l'arête de l'outil (à gauche ou à droite) : /0,5 pt
Outil à droite (R)

c. la face de coupe, la face de dépouille, les plans du référentiel en main (plan de travail Pf, plan d'arête Ps, plan de référence Pr, le plan orthogonal Po et le plan normal Pn), l'angle de direction d'arête κ_r , les angles de coupe orthogonaux (α_o , β_o et γ_o) et l'angle d'inclinaison d'arête λ_s .

/3 pts

0.25 pt / réponse



d. Validation du choix de la machine :

d.1- Calcul de la puissance de coupe nécessaire Pc (en W) : /1,5pt

$$P_c = F_c \cdot V_c = K_c \cdot a \cdot f \cdot V_c = 5300 \cdot 0,2 \cdot 0,1 \cdot \frac{60}{60} = 106 \text{ W}$$

d.2- Détermination de la puissance à fournir par le moteur de la machine Pm (en KW) :

$$P_m = \frac{P_c}{\eta} = \frac{106}{0,8} = 132,5 \text{ W} = 0,132 \text{ kW} \quad /1\text{pt}$$

d.3. Conclusion sur la validation de la machine choisie :

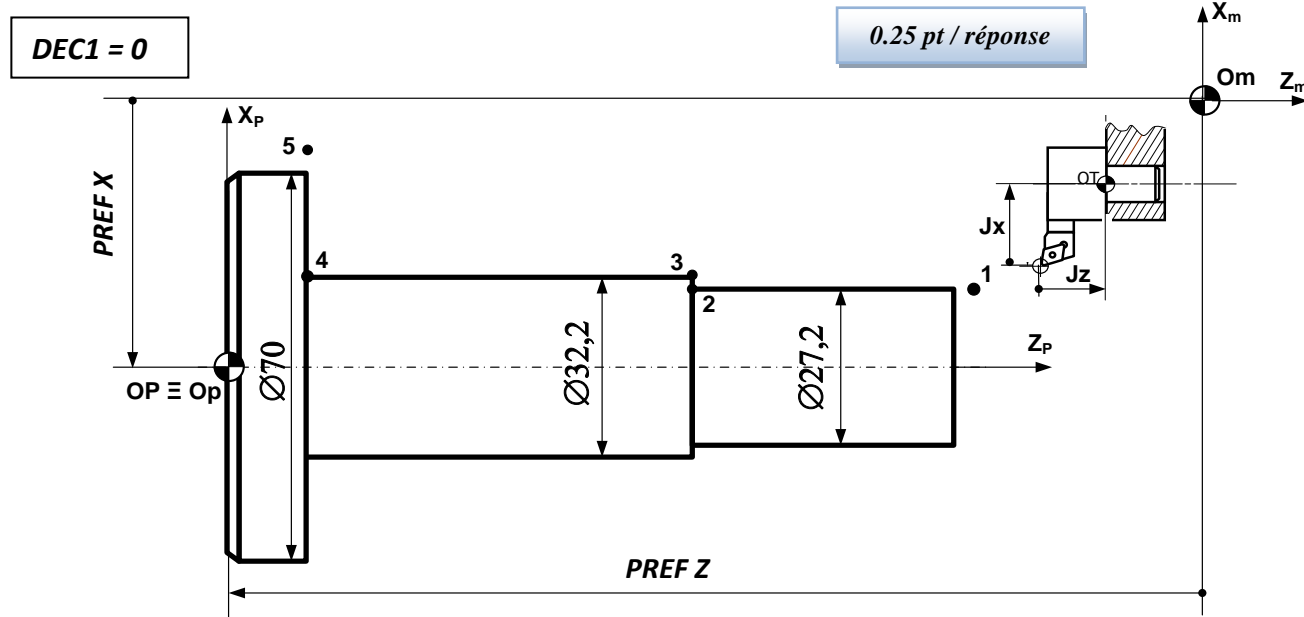
La machine choisie est convenable

/0,5pt

● Tâche 3.4 :

a. les PREF X, PREF Z, Jauges (JX, JZ) et la valeur du DEC1:

/1,25 pt



b. Le tableau des coordonnées du profil ébauche (**points 1 à 5**) en mode absolu **G90** :

/1,75pt

Points	X (Ø)	Z
1	27,2	130
2	27,2	80,5
3	32,2	80,5
4	32,2	15,5
5	74	15,5

0.25 pt / case

c. Identification des mots du bloc N°20 :

/0,5 pt

Interpolation linéaire en rapide à l'origine mesure (Om)

d. Le programme du profil (points **1** à **5**) et retour au point **Om** en mode absolu **G90** :

/2,5 pts

Programme

% Axe 40

N10 G80 G90 G40 M05 M09

N20 G00 G52 X0 Z0

N30 T3 D3 M06

N40 G97 S1000 M04 M41

N50 G96 S320

N60 G90 X27,2 Z130

N70 G01 G42 G95 Z80,5 F0,1 M08

N80 X32,2

N90 Z15,5

N100 X74

N110 G77 N10 N20

N120 M02

0.25 pt / ligne