

14- Liaisons Pivot

2 SM-B; 1 STM; 1 STE; (Doc : élève)

7- APPLICATIONS :

APP 01 : APPAREIL A FRAISER LES RAINURES

L'entraînement en rotation se fait par un moteur électrique non représenté. Le mouvement d'entrée est communiqué à la poulie 4 solidaire à l'arbre 2, le mouvement est transmis à l'arbre de sortie (non représenté) par l'intermédiaire des roues dentées 2 et 17. L'arbre de sortie reçoit le porte fraise. Le souci majeur des utilisateurs de tel système de production est de répondre au besoin des clients. Le service marketing de la société a signalé une forte demande des produits fabriqués par la société. Afin de répondre à cet objectif, le bureau d'étude a décidé :

- D'augmenter le nombre de pièces a rainurées ;
- De diminuer le temps de fabrication ;
- D'augmenter la qualité.

Vous faites partie de l'équipe chargée de mener l'étude partielle de cette décision. Les tâches suivantes sont à réaliser :

1- Donner le diagramme bête à cornes du système ?

2- Donner le diagramme des interactions du système ? (Utiliser les éléments extérieurs suivants : Moteur, Arbre, Fabricant et Table) et en déduire la fonction principale ?

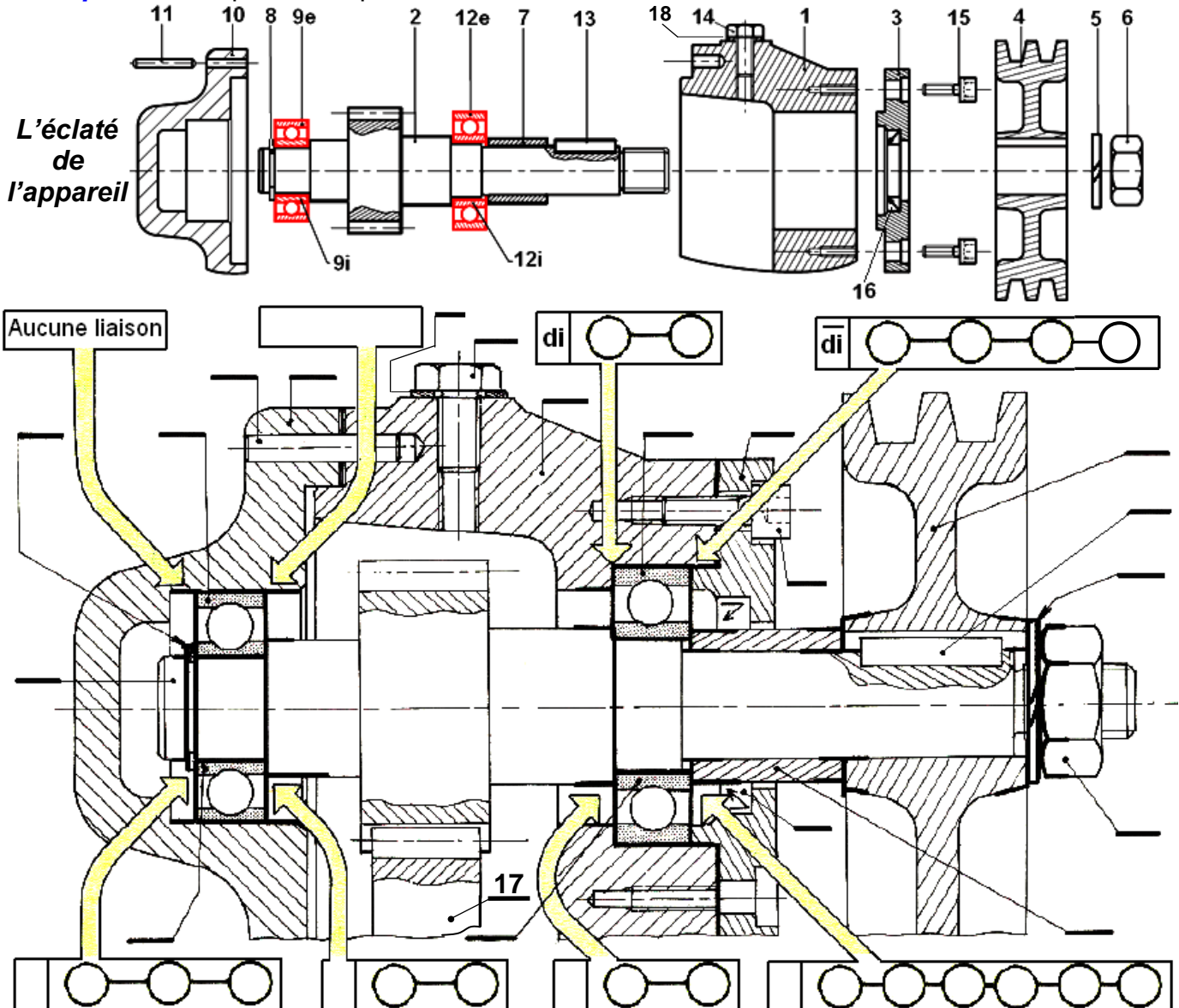
3- Identifier la fonction globale du système ?

4- Définir les éléments d'entrée et de sortie ?

5- Donner le diagramme SADT du système ?

On se base sur l'éclaté de l'appareil ci-dessous :

6- Compléter les repères des pièces sur le dessin d'ensemble ?



Dessin d'ensemble à échelle 1 : 1

14- Liaisons Pivot

2 SM-B; 1 STM; 1 STE; (Doc : élève)

7- De quel type de roulement s'agit-il ?

8- Est-ce un montage à arbre ou à alésage tournant ?

9- Donner le diagramme F.A.S.T du système relatif à la fonction du guidage en rotation de 2 par rapport à 1+10 ? (Utiliser les éléments suivants : Roulement BC, Faciliter la mobilité, Réduire le frottement) en indiquant la fonction principale, la fonction technique et la solution technologique ?

10- Quelles sont les bagues montées serrées ?

11- Compléter le repérage des obstacles arrêtant les bagues des roulements axialement (sur le dessin d'ensemble) ?

12- Indiquer le type d'ajustement des portées des bagues intérieures situées sur l'arbre :

13- Indiquer le type d'ajustement des portées des bagues extérieures situées sur l'alésage :

Il est nécessaire de comprendre le fonctionnement de ce système, pour ceci, on vous demande de :

14- Indiquer les classes d'équivalences du système ?

15- Établir le graphe de liaison ?

16- Compléter le tableau des liaisons suivant :

Liaison	Nom	Mouvement possible		Nature de surface de contact	Symbole en deux vus
		Rotation	Translation		
4/2					
4/2+13 (cas de montage)					
6/2 (cas de montage)					
1/10					
2/1+10					

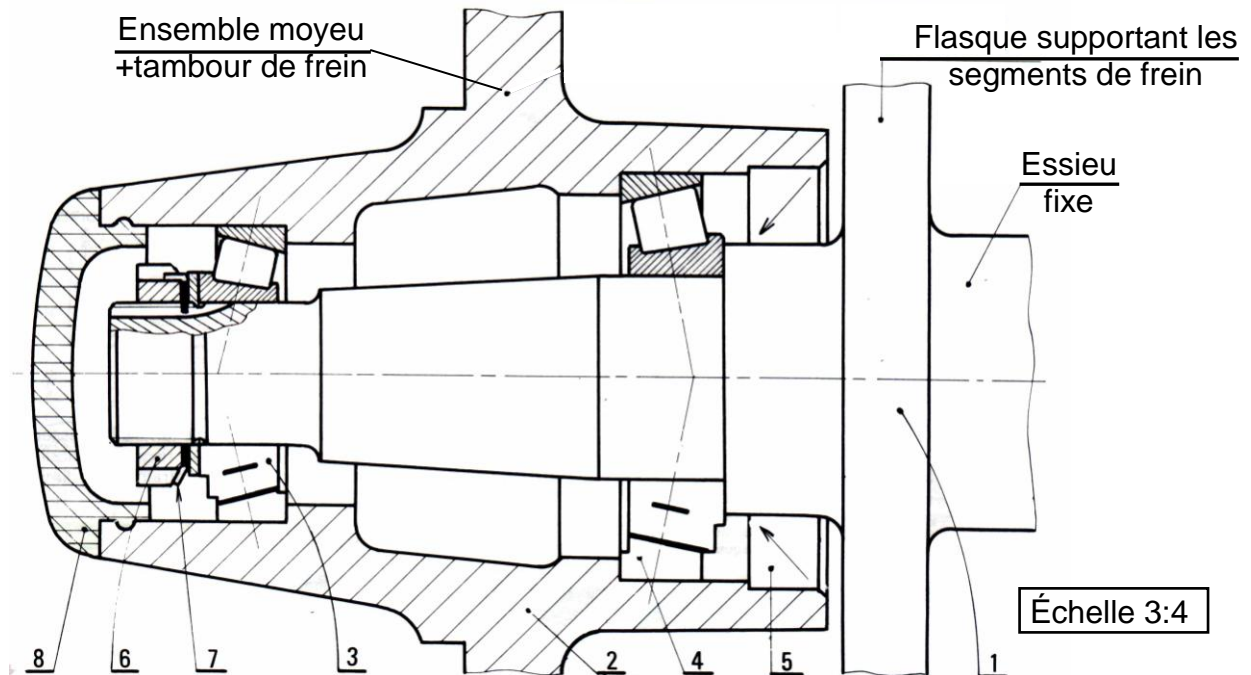
17- Établir le schéma cinématique minimal du système ?

18- Quel est le nom et la fonction des pièces suivantes : 3, 4, 5, 6, 7, 8, 9, 11, 13, 14, 15, 16 et 18 ?

14- Liaisons Pivot

2 SM-B; 1 STM; 1 STE; (Doc : élève)

APP 02 : ROUE DE REMORQUE OU CARAVANE



La jante d'une roue est fixée sur un ensemble moyeu/tambour de frein (2). Cet ensemble est guidé en rotation autour de la fusée de l'essieu (1) avec deux roulements (3) et (4) :

1- **Colorier** l'ensemble des pièces en rotation.

2- **De quel** type de roulement s'agit-il ?

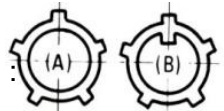
3- **Est-ce** un montage à arbre ou à alésage tournant ?

4- **Est-ce** un montage direct en " X " ou indirect en " O " ?

5- **Comment** appelle-t-on l'écrou (6) ?

6- **Quelle** est la fonction de la rondelle (7) ?

7- **Choisir** une rondelle-frein (7) entre les deux rondelles ci-contre et justifier : (A) ou (B) :



8- Les bagues intérieures **sont montées serrées ou avec jeu** ?

9- **Donner** la tolérance des portées des bagues intérieures situées sur l'arbre :

10- Les bagues extérieures **sont-elles** montées serrées ou avec jeu ?

11- **Donner** la tolérance des portées des bagues extérieures situées sur l'alésage :

12- **Quel** élément permet de régler axialement le jeu du montage des roulements ?

13- **Coter** les portées de roulement sur la fusée de l'essieu (1)

14- **Coter** les portées de roulement sur l'ensemble moyeu/tambour de frein (2).

15- **Indiquer** les classes d'équivalences du système ?

(Nota : Travailler avec BI, BE : Bague Intérieure et Extérieure)

16- **Établir** le graphe de liaison ?

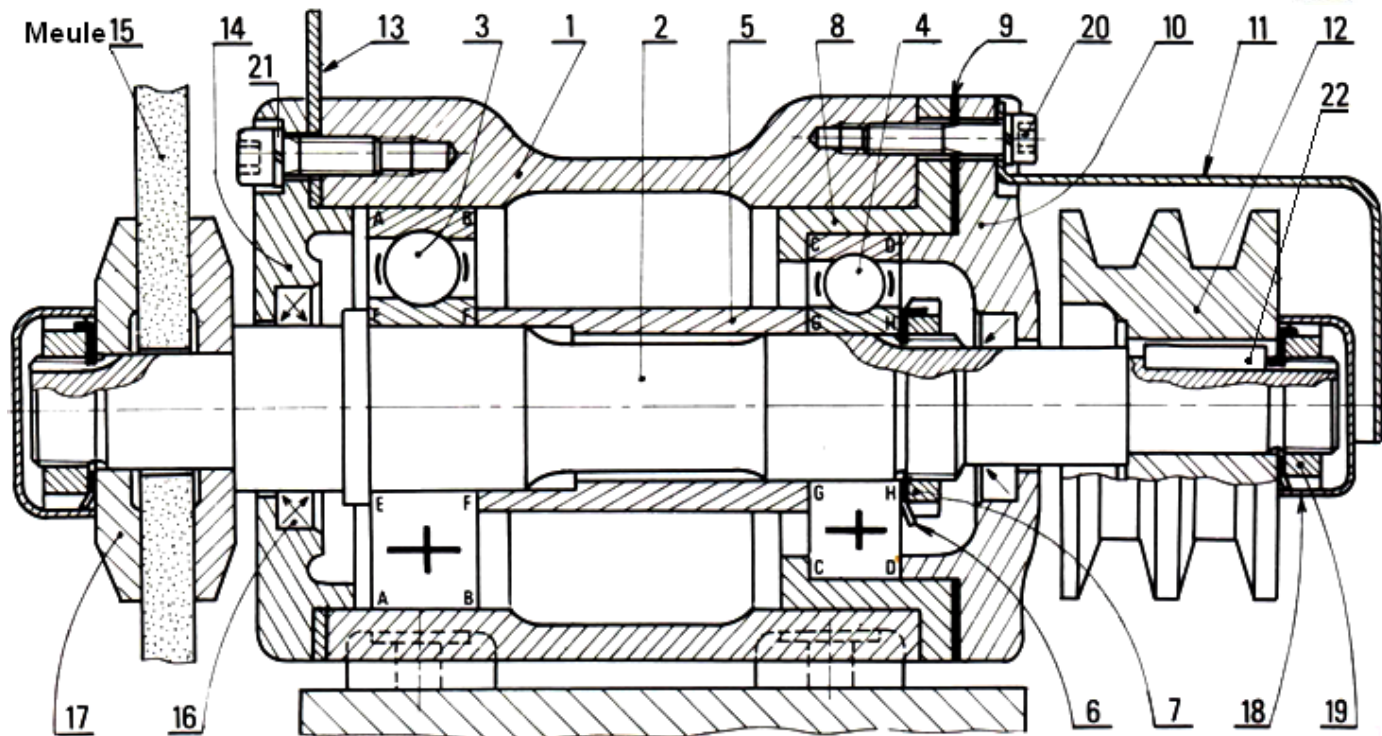
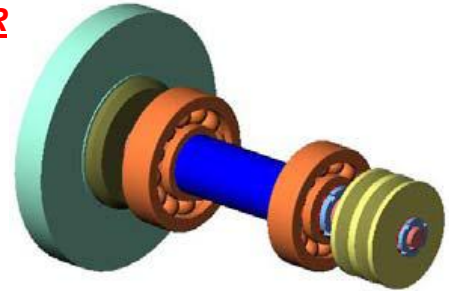

17- **Établir** le schéma cinématique minimal du système ?

14- Liaisons Pivot

2 SM-B; 1 STM; 1 STE; (Doc : élève)

APP 03 : TOURET À MEULER

Échelle 2 : 1



L'arbre porte-meule 2 est guidé en rotation par deux roulements 3 et 4.

Répondre aux questions suivantes :

1- **Colorier** l'ensemble des pièces en rotation.

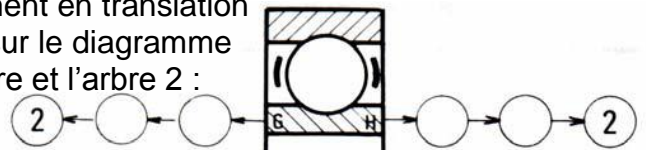
2- **De quel** type de roulement s'agit-il ?

3- **Est-ce** un montage à arbre ou à alésage tournant ?

4- **Quelles sont** les bagues montées serrées (extérieures ou intérieures) ?

5- **Identifier** les obstacles arrêtant ces bagues axialement (A, B, C, D, E, F, G, H) :

6- La bague intérieure du roulement 4 est liée indirectement en translation avec l'arbre 2, à gauche en G, à droite en H. **Établir** sur le diagramme ci-contre, la suite des contacts entre la bague intérieure et l'arbre 2 :



7- Les bagues extérieures **sont-elles** montées avec jeu ou avec serrage ?

8- **Identifier** les obstacles arrêtant ces bagues axialement (A, B, C, D, E, F, G, H) :

9- La bague extérieure du roulement 3 **est-elle** liée en translation avec le bâti 1 (OUI ou NON) ?

10- **Donner** la tolérance des portées des bagues intérieures situées sur l'arbre :

11- **Donner** la tolérance des portées des bagues extérieures situées sur l'alésage :

12- **Coter** les portées de roulement sur l'arbre 2.

13- **Coter** les portées de roulement sur les alésages 1 et 8.

14- **Indiquer** les classes d'équivalences du système ?

(Nota : Travailler avec BI, BE : Bague Intérieure et Extérieure ; exclure les joints à lèvres)

15- **Établir** le graphe de liaison ?

16- **Établir** le schéma cinématique minimal du système ?

17- **Quel est** le nom et la fonction des pièces suivantes :

1, 2, 3, 5, 6, 7, 8, 9, 10, 11, 12, 14, 16, 20, 21 et 22 ?

14- Liaisons Pivot

2 SM-B; 1 STM; 1 STE; (Doc : élève)

APP 04 : PLUMEUSE DE VOLAILLES ET OISEAUX

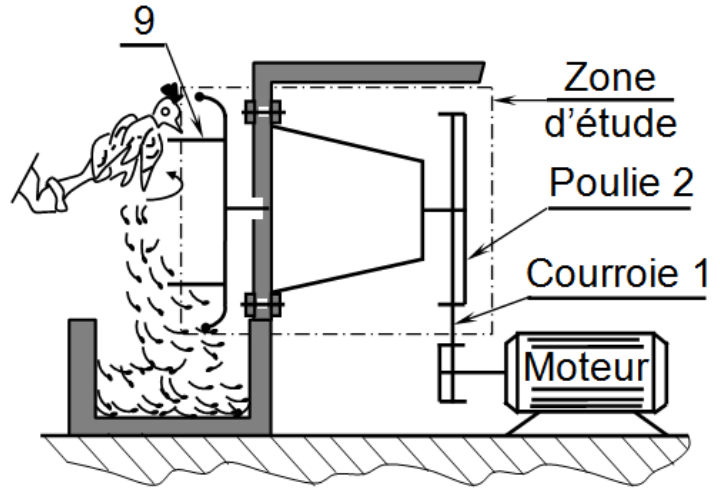
1- PRÉSENTATION :

1.1- Mise en situation :

1.2- Principe de fonctionnement :

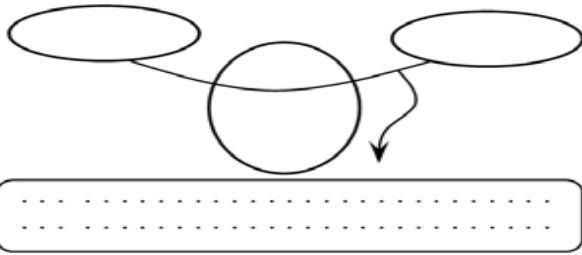
Le déplumage des volailles (poulets ; dindons. .) est assuré par les arracheurs (9) qui sont animés d'un mouvement de rotation.

Le système poulie-courroie (1,2) transmet le mouvement de rotation de l'arbre moteur à l'arbre (3), voir dessin d'ensemble.



2- ANALYSE TECHNIQUE :

1- Énoncer le besoin du mécanisme :



2- Compléter le tableau suivant :

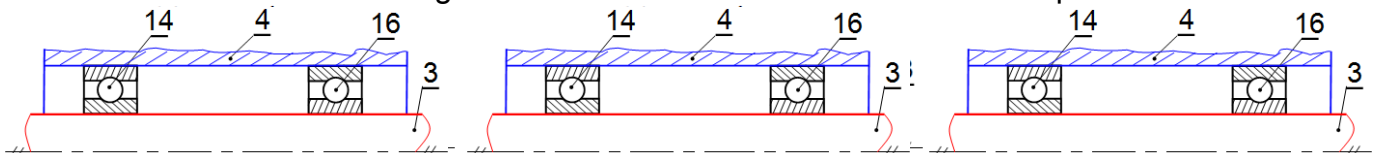
Pièce	Nom	Fonction
1
2
5
6
7
11
13
14
15
17
18
19

3- Compléter le tableau des liaisons suivant :

Liaison	Nom de la liaison	Symbole de la liaison en deux vues
2/3
8/3
3/4

4- Dans ce mécanisme, les roulements 14-16 **réalise** le guidage arbre tournant ou alésage tournant :

5- Compléter les schémas suivants en donnant les différentes solutions possibles pour assurer la liaison en translation des bagues des roulements avec l'arbre 3 et le corps 4.



14- Liaisons Pivot

2 SM-B; 1 STM; 1 STE; (Doc : élève)

6- Indiquer le type d'ajustement (A entre 14 et 3) et (B entre 16 et 4).

Ajustement A : Ajustement B :

7- Ø26 H7p6 est l'ajustement entre 12/3 ; avec $\text{Ø}26 p6 = 26^{+0,035}_{+0,022}$ et $\text{Ø}26 H7 = 26^{+0,021}_0$

Calculer le jeu mini et le jeu maxi ?

Jeu_{mini} = Jeu_{Maxi} =

et En déduire le type de cet ajustement ? (En cercler la bonne réponse)

/1,5 pts


Ajustement avec jeu

Ajustement avec serrage


Ajustement Incertain

8- Hachurer la coupe de la pièce 4 s'il est en :


/1 pt



Acier



Alliage de cuivre



Alliage d'aluminium

9- La pièce 16 est désignée par Ø20 BC 10 E, expliquer cette désignation :

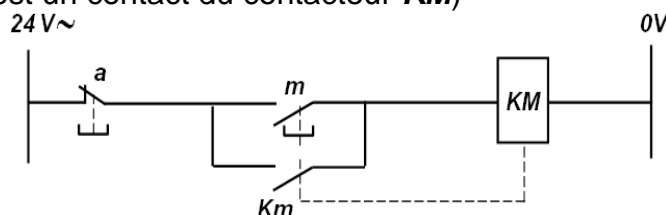
Ø20 :

BC :

10 :

E :

10- Le pupitre de commande du système comprend deux boutons poussoirs (**m** : marche) et (**a** : arrêt), commandant la marche et l'arrêt du moteur d'entraînement de la plumeuse des volailles par l'intermédiaire d'un contacteur **KM**, dont on donne le schéma électrique de commande (**Km** est un contact du contacteur **KM**)



10.1- Établir la table de vérité de **KM** en fonction de **a**, **m** et **km** du circuit de commande ?

10.2- Écrire l'équation logique de commande du contacteur **KM**.

.....

10.3- Trouver l'équation logique de **KM** en utilisant tableau de Karnaugh (ou diagrammes K) ?

Tableau de Karnaugh de KM					

Table de vérité			

10.4- Tracer le logigramme relatif à la sortie **KM** ?

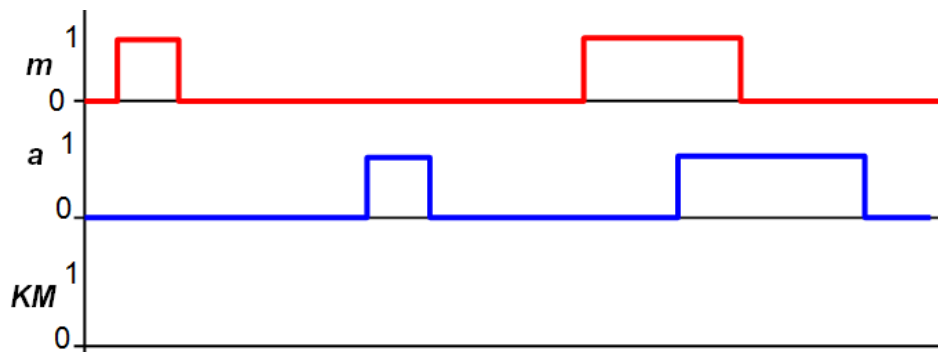
14- Liaisons Pivot

2 SM-B; 1 STM; 1 STE; (Doc : élève)

10.5- **Tracer** le logigramme relatif à la sortie **KM**, a partir des portes logiques NAND ?

10.6- **Tracer** le logigramme relatif à la sortie **KM**, a partir des portes logiques NOR ?

10.7- **Compléter** le chronogramme de fonctionnement de **KM** en fonction de **a** et **m**.



3- TRAVAIL GRAPHIQUE :

Sur le dessin d'ensemble, **compléter** le montage des roulements 14 et 16 en assurant les arrêts en translation de leurs bagues par rapport à l'arbre 3 et au corps 4.

(**Utiliser** circlips de l'arbre ; Entretoise et boîtier)

14- Liaisons Pivot

2 SM-B; 1 STM; 1 STE; (Doc : élève)

Dessin d'ensemble : APPAREIL À DÉPLUMER LES VOLAILLES

