

الصفحة	الامتحان الوطني الموحد للبكالوريا الدورة الاستدراكية 2021 - عناصر الإجابة -		<p>السلطة المغربية وزارة التربية الوطنية والتعليم العالي والبحث العلمي المركز الوطني للتقويم والامتحانات</p>	
1				
8				
***	TTTTTTTTTTTTTTTTTTTT		RR 44	
3h	مدة الإجاز	علوم المهندس		المادة
3	المعامل	شعبة العلوم الرياضية (ب)		الشعبة أو المسلك

Eléments de corrigé



PONCEUSE CALIBREUSE LARGE BANDE

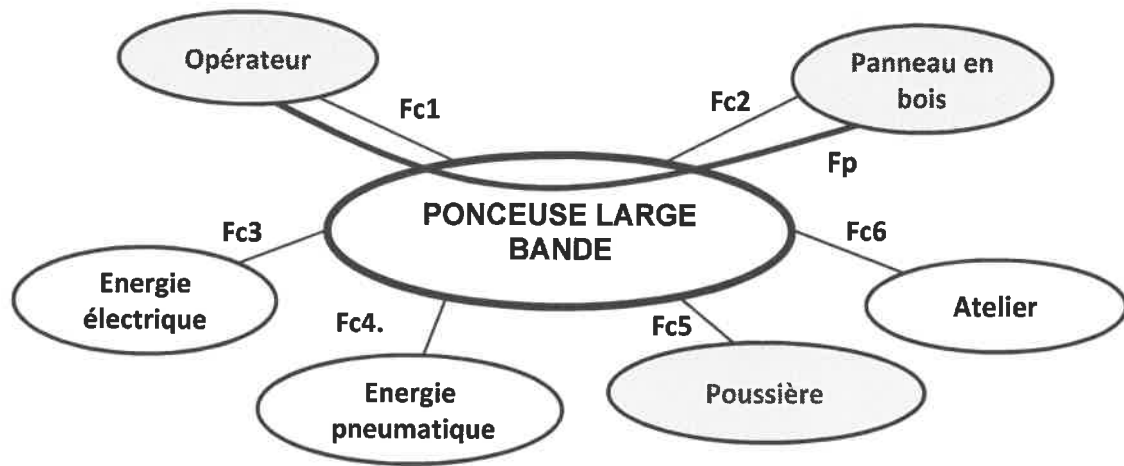
الصفحة	2	RR 44	الامتحان الوطني الموحد للبكالوريا - الدورة الاستدراكية 2021 - عناصر الإجابة - مادة: علوم المهندس- شعبة العلوم الرياضية (ب)
8			

D.Rep 1

/3,5 Pts

Q.01. Diagramme des interactions et extrait du CdCF.

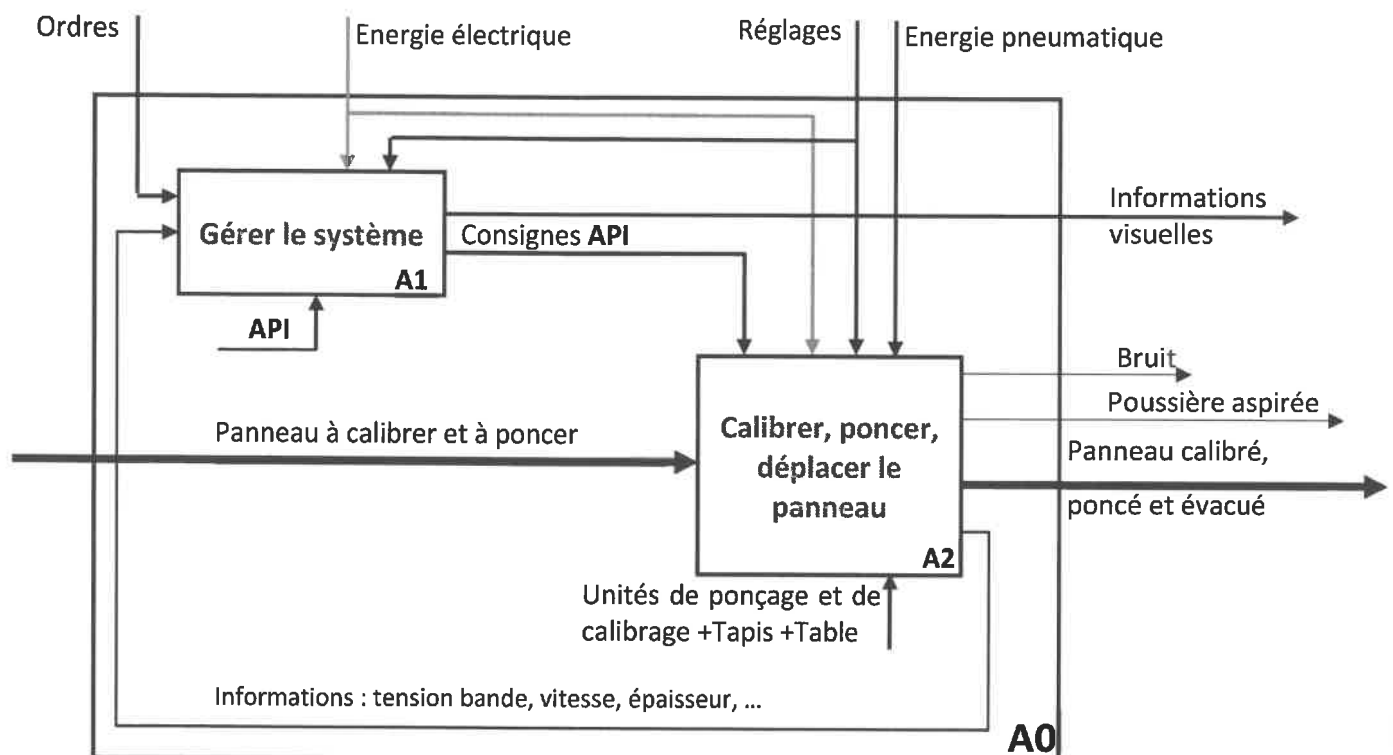
2,50 pts

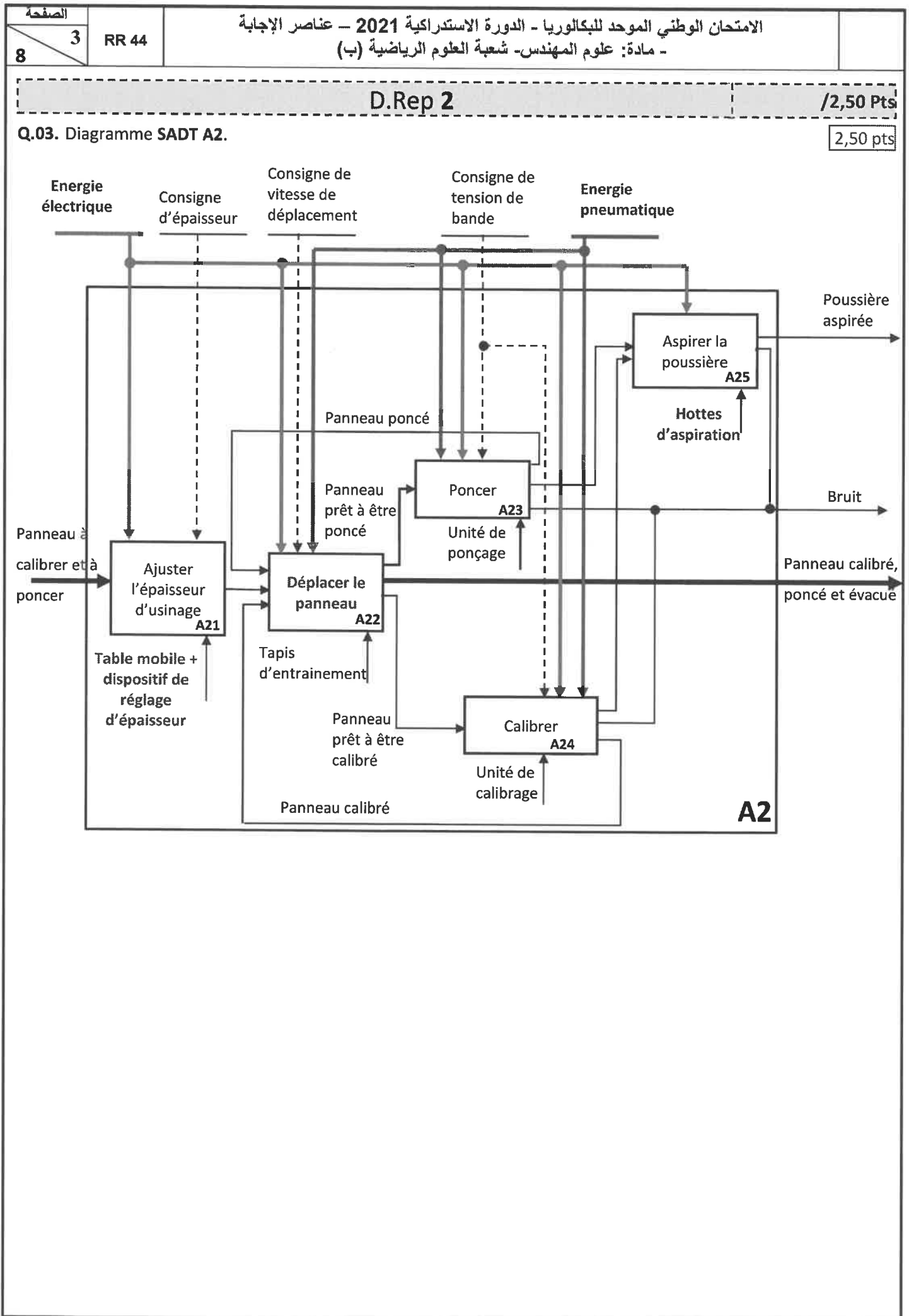


Fs	Enoncés	Critères	Niveaux
Fp	Calibrer , poncer et évacuer un panneau en bois à une épaisseur donnée.	<ul style="list-style-type: none"> Epaisseur finale Précision ponçage 	De 3 à 150 mm 0,1 mm
Fc1	Faciliter l'interaction avec l'utilisateur	<ul style="list-style-type: none"> Accessibilité 	Espaces libres en entrée et en sortie
Fc2	Être compatible aux dimensions du panneau de bois.	<ul style="list-style-type: none"> Dimensions du panneau en bois 	Largeur : 1100 mm (maxi) 150 mm (mini)
Fc3	Utiliser l'énergie électrique	<ul style="list-style-type: none"> Tension 	400 V triphasé
Fc4	Utiliser l'énergie pneumatique	<ul style="list-style-type: none"> Pression du réseau 	7 bars +/- 1 bar
Fc5	Évacuer la poussière.	<ul style="list-style-type: none"> Non défini 	Non défini
Fc6	S'intégrer à l'atelier	<ul style="list-style-type: none"> Bruit Encombrement Poids 	80 dB +/- 3 dB (1500 x 2300x 1000) mm 1350 kg

Q.02. Diagramme SADT A0.

1,00 pt





الصفحة	4	RR 44	الامتحان الوطني الموحد للبكالوريا - الدورة الاستدراكية 2021 - عناصر الإجابة - مادة: علوم المهندس - شعبة العلوم الرياضية (ب)	
8				

D.Rep 3

/2,50 Pts

Q.04. Expression de ω_R en fonction de V_C et du diamètre D_R du rouleau de ponçage.

0,25 pt

$$V_C = \frac{D_R}{2} \cdot \omega_R \Rightarrow \omega_R = \frac{2 \cdot V_C}{D_R}$$

Q.05. Calcul de $\omega_{R \min}$ et $\omega_{R \max}$ (en rad/s) correspondant respectivement à $V_{C \min}$ et $V_{C \max}$.

0,50 pt

$\omega_{R \min}$ pour $V_{C \min} = 12\text{m/s}$	$\omega_{R \max}$ pour $V_{C \max} = 24\text{m/s}$
On a : $\omega_{R \min} = \frac{2 \cdot V_{C \min}}{D_R}$	On a : $\omega_{R \max} = \frac{2 \cdot V_{C \max}}{D_R}$
A.N : $\omega_{R \min} = \frac{2 \times 12}{0,17}$	A.N : $\omega_{R \max} = \frac{2 \times 24}{0,17}$
Donc : $\omega_{R \min} = 141,18 \text{ rad/s}$	Donc : $\omega_{R \max} = 282,35 \text{ rad/s}$

Q.06. Expression de ω_M en fonction de ω_R et du rapport r_{pc} .

0,25 pt

$$r_{pc} = \frac{\omega_R}{\omega_M} \Rightarrow \omega_M = \frac{\omega_R}{r_{pc}}$$

Q.07. Expression de la vitesse de rotation N_M (en tr/min) en fonction de ω_R et du rapport r_{pc} .

0,25 pt

$$\omega_M = \frac{2 \cdot \pi \cdot N_M}{60} \Rightarrow N_M = \frac{30 \cdot \omega_M}{\pi} \text{ Donc : } N_M = \frac{30 \cdot \omega_R}{\pi \cdot r_{pc}}$$

Q.08. Les vitesses de rotation $N_{M \min}$ et $N_{M \max}$ (en tr/min) du moteur Mt_2 pour régler V_C de $V_{C \min}$ à $V_{C \max}$.

0,50 pt

$N_{M \min}$ pour $V_{C \min} = 12\text{m/s}$	$N_{M \max}$ pour $V_{C \max} = 24\text{m/s}$
On a : $N_{M \min} = \frac{30 \cdot \omega_{R \min}}{\pi \cdot r_{pc}}$	On a : $N_{M \max} = \frac{30 \cdot \omega_{R \max}}{\pi \cdot r_{pc}}$
A.N : $N_{M \min} = \frac{30 \times 141,18}{\pi \times 0,92}$	A.N : $N_{M \max} = \frac{30 \times 282,35}{\pi \times 0,92}$
Donc : $N_{M \min} = 1465,40 \text{ tr/min}$	Donc : $N_{M \max} = 2930,70 \text{ tr/min}$

Q.09. Calcul de la puissance $P_{R \max}$ (en W) développée au niveau du rouleau de ponçage.

0,25 pt

$$\eta_{RB} = \frac{P_{C \max}}{P_{R \max}} \Rightarrow P_{R \max} = \frac{P_{C \max}}{\eta_{RB}} \Rightarrow P_{R \max} = \frac{F_{C \max} \times V_{C \max}}{\eta_{RB}}$$

$$\text{A.N : } P_{R \max} = \frac{700 \times 24}{0,9} \Rightarrow P_{R \max} = \frac{16800}{0,9} \text{ donc : } P_{R \max} = 18666,67 \text{ W}$$

Q.10. La puissance $P_{M \max}$ (en W), à développer par le moteur Mt_2 .

0,25 pt

$$\eta_{pc} = \frac{P_{R \max}}{P_{M \max}} \Rightarrow P_{M \max} = \frac{P_{R \max}}{\eta_{pc}}$$

$$\text{A.N : } P_{M \max} = \frac{18666,67}{0,9} \text{ donc : } P_{M \max} = 20740,74 \text{ W}$$

Q.11. La désignation du moteur électrique convenable.

0,25 pt

LS180MT

الصفحة	5	RR 44	الامتحان الوطني الموحد للبكالوريا - الدورة الاستدراكية 2021 - عناصر الإجابة - مادة: علوم المهندسين - شعبة العلوم الرياضية (ب)
8			

D.Rep 4

/3,25 Pts

Q.12. Tableau des constituants de l'équipement.

1,50 pt

Repère du Constituant	Désignation	Fonction
1	Réseau de tensions triphasé.	Alimenter.
2	Redresseur à diodes. (ou convertisseur alternatif continu).	Convertir la tension triphasée du réseau en tension continue.
3	Condensateur.	Filtrer la tension redressée.
4	Onduleur. (ou convertisseur continu alternatif)	Convertir une tension continue en tension alternative triphasée de valeur efficace et de fréquence variables avec U/f constant.
5	Moteur asynchrone triphasé.	Convertir l'énergie électrique en énergie mécanique.
Q1	Sectionneur porte fusibles.	Isoler et protéger contre les courts-circuits
F1	Relais thermique.	Protéger le moteur contre les surcharges.
P	Potentiomètre	Régler la vitesse de synchronisme du moteur.

Q.13. La fonction du contact Km du contacteur KM.

0,25 pt

Km : Contact pour l'auto alimentation de la bobine du contacteur

Q.14. Calcul de la tension U1 (en V) au primaire du transformateur T alimentant le circuit de commande.

0,25 pt

On a : réseau triphasé donc : $U = U_1 \cdot \sqrt{3} \Rightarrow U_1 = \frac{U}{\sqrt{3}}$
A.N : $U_1 = \frac{400}{\sqrt{3}}$ donc : $U_1 = 230,94 \text{ V}$

Q.15. La tension U (en V) à laquelle il faut régler le potentiomètre P pour que la vitesse de synchronisme N_s du moteur Mt_2 soit égale à 1500 tr/min.

0,25 pt

On a : $10V \rightarrow 3000 \text{ tr/min}$ $U \rightarrow N_s$ $U = \frac{10 \times N_s}{3000}$
 $U = \frac{10 \times 1500}{3000}$ donc : $U = 5 \text{ V}$

Q.16. Calcul du diamètre D en (mm) du piston du vérin de tension.

0,50 pt

$p_v = \frac{F_v}{S_p} \Rightarrow S_p = \frac{F_v}{p_v} \Rightarrow \frac{\pi D^2}{4} = \frac{F_v}{p_v} \Rightarrow D^2 = \frac{4 \cdot F_v}{\pi \cdot p_v} \Rightarrow D = \sqrt{\frac{4 \cdot F_v}{\pi \cdot p_v}}$
A.N : $D = \sqrt{\frac{4 \times 700}{\pi \times 2 \times 10^5}}$ donc : $D = 66,75 \text{ mm}$

Q.17. Choix du vérin adéquat.

0,25 pt

1383335 DSBC-80-50-PPVA-N3

Q.18. Recalcul de la pression p_v' (en bars) à fournir au vérin choisi.

0,25 pt

$p_v = \frac{F_v}{S_p} \Rightarrow p_v' = \frac{4 \cdot F_v}{\pi \cdot D^2}$
A.N : $p_v' = \frac{4 \times 700}{\pi \times 0.08^2}$ donc : $p_v' = 1,39 \text{ bar}$

الصفحة	6	RR 44	الامتحان الوطني الموحد للبكالوريا - الدورة الاستدراكية 2021 - عناصر الإجابة - مادة: علوم المهندس- شعبة العلوم الرياضية (ب)
8			

D.Rep 5

/3,00 Pts

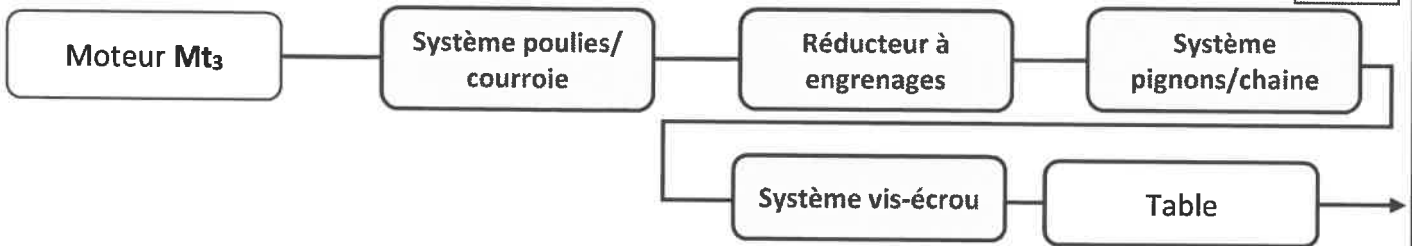
Q.19. Tableau relatif au schéma pneumatique du système de tension de la bande.

1,00 pt

Rep.	Nom	Fonction
F R L	Groupe de conditionnement	Conditionner l'air
D	Distributeur 3/2 mono stable à commande électromagnétique	Distribuer l'énergie pneumatique
Q	Régulateur de débit unidirectionnel	Réguler la vitesse de sortie de la tige du vérin pneumatique
V	Vérin simple effet	Convertir l'énergie pneumatique en énergie mécanique de translation.

Q.20. Chaîne cinématique relative au déplacement vertical de la table mobile.

0,50 pt



Q.21. Tableau des critères de la liaison entre les pièces (3) et (12).

1,00 pt

Liaison (3) /carter inférieur (12)	Complète	Rigide	Démontable	Par adhérence	Direct
	Partielle	Élastique	Non démontable	Par obstacle	Indirect

Q.22. Tableau des noms et des fonctions.

0,50 pt

Repère	Nom	Fonction
6	Roulement à billes à contact radial	Guider en rotation (2) / (11)
7	Anneau élastique	Arrêt axial pour la bague extérieure du roulement (6)

الصفحة	7	RR 44	الامتحان الوطني الموحد للبكالوريا - الدورة الاستدراكية 2021 - عناصر الإجابة - مادة: علوم المهندسين - شعبة العلوم الرياضية (ب)	
8				

D.Rep 6 /3,50 Pts

Q.23. Schéma cinématique minimale. 1,50 pt

Table
1
3+12 (carter inferieur)
10
8

Ou

Table
1
3+12 (carter inferieur)
10
8

Q.24. Représentation graphique de la pièce (11). 2,00 pts

Arrêtes vues : 0,5pt
 Dimensions : 0,75pt
 Arrêtes cachées : 0,5pt
 Hachures : 0.25pt

A

الصفحة	8	RR 44	الامتحان الوطني الموحد للبكالوريا - الدورة الاستدراكية 2021 - عناصر الإجابة - مادة: علوم المهندس- شعبة العلوم الرياضية (ب)	
--------	---	-------	---	--

D.Rep 7

/1,75 Pt

Q.25. Comparaison du sens de rotation des pignons d'entraînement des quatre dispositifs de déplacement vertical.

0,25 pt

Même sens de rotation

Q.26. Sens du filetage du système vis-écrou des quatre dispositifs de déplacement vertical.

0,50 pt

Même sens du filetage

Q.27. Calcul de la vitesse de déplacement vertical de la table V_{Table} (en m/min) et conclusion.

0,50 pt

On a : $V_{Table} = N_g \times p$

Donc : $V_{Table} = N_{m3} \times k_{pc} \times k_R \times p$

A.N. $V_{Table} = 1450 \times 0,5 \times 0,69 \times 5 \times 10^{-3}$

$V_{Table} = 2,5 \text{ m/min}$

Elle correspond à la vitesse déclarée par le constructeur

Q.28. Déduction du temps de déplacement t_{table} (en s) de la table.

0,50 pt

On a : $V_{Table} = h/t_{table}$

Donc : $t_{table} = h/V_{Table} = 0,0599 \text{ min} = 3,59 \text{ s}$