

ETUDE DES FONCTIONS

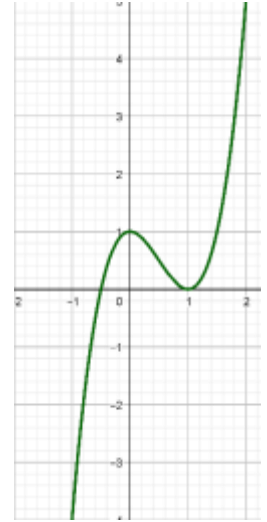
1) CONCAVITE ; CONVEXITE ; POINTS D'INFLEXION

1) Activités :

Activité 1 :

Soit la fonction définie sur \mathbb{R} par : $f(x) = x^2 + x$; Soit $A(a, f(a))$ un point de sa courbe représentative.

1. Déterminer l'équation de la tangente (T_A) en A . (En fonction de a)
2. Soit P et M deux points qui ont la même abscisse x et qui appartiennent respectivement à C_f et (T_A), Montrer que le signe de \overline{PM} est positif quel que soit la valeur de x .
3. Déterminer la dérivée seconde de f .



Activité 2 :

Soit la fonction g définie sur \mathbb{R} par : $g(x) = 2x^3 - 3x^2$.

1. Déterminer les dérivées première et seconde de la fonction g .
2. Dresser le tableau de signe de $g''(x)$.
3. La courbe représentative de g est représentée ci-contre, étudier graphiquement la position relative de la courbe C_g par rapport à ses tangentes.
4. Que peut-on conclure ?

Activité 3 :

Soit la fonction h définie sur \mathbb{R} par : $h(x) = \frac{x}{\sqrt{x^2+1}}$.

1. Déterminer le domaine de définition de h et étudier sa parité.
2. Etudier les limites en $+\infty$ et $-\infty$
3. Déterminer la fonction dérivée de la fonction h et dresser le T.V
4. Déterminer l'équation de la tangente T en $O(0,0)$
5. Etudier les positions relatives de T et la courbe C_f
6. Tracer la courbe C_f

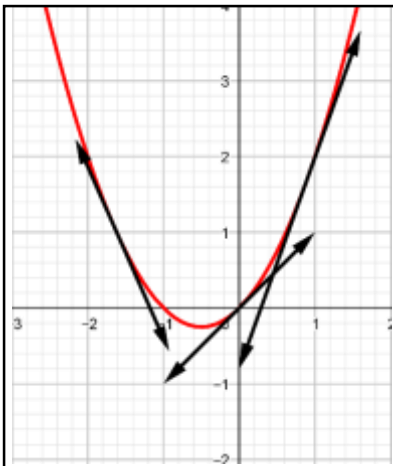
2) Définition et propriétés.

2.1 Définitions :

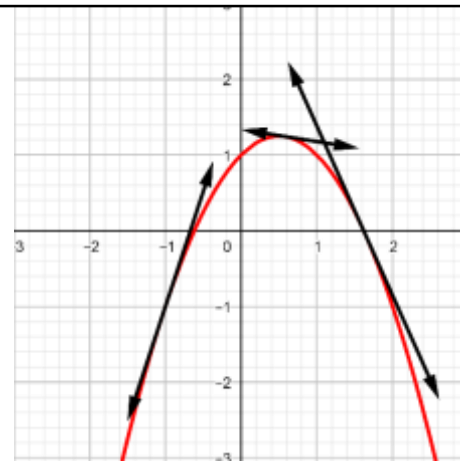
Définition :

Soit f une fonction dont la courbe représentative est C_f .

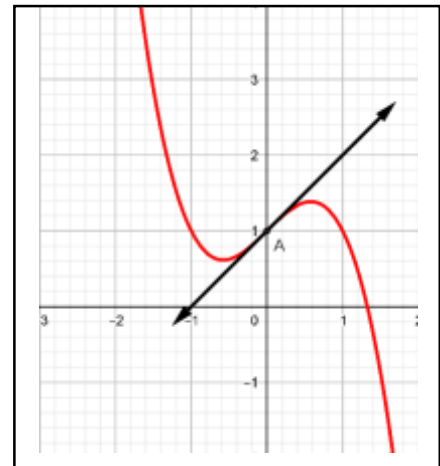
- On dit que la courbe est **convexe** si elle se trouve au-dessus de toutes ses tangentes
- On dit que la courbe est **concave** si elle se trouve au-dessous de toutes ses tangentes.
- Un **point d'inflexion** est un point où s'opère un changement de concavité de la courbe C_f



Graph d'une fonction convexe



Graph d'une fonction concave



Point d'inflexion en A

Remarque :

Si f est dérivable en a et C_f traverse sa tangente en A alors le point A est un point d'inflexion

2.2 Dérivée seconde et concavité.

Soit f une fonction **deux fois dérivable** sur un intervalle I et C_f

sa courbe représentative. Soient a un élément de I , $A(a, f(a))$

et (T_A) la tangente en A , Soient P et M deux points qui ont le même abscisse x

et qui appartiennent respectivement à C_f et (T_A) ,

On a : $y_P = f'(a)(x - a) + f(a)$. Soit :

$$\begin{aligned}\varphi(x) &= \overline{PM} = f(x) - y_P \\ &= f(x) - f'(a)(x - a) - f(a)\end{aligned}$$

φ est dérivable sur I

$$(\forall x \in I)(\varphi'(x) = f'(x) - f'(a)) \quad (\text{car } (f(a))' = 0 ; f(a) \text{ est une constante})$$

φ est deux fois dérivable sur I

$$(\forall x \in I)(\varphi''(x) = f''(x))$$

Si f'' est **positive** sur I , il en est de même pour φ'' et on aboutit au tableau suivant :

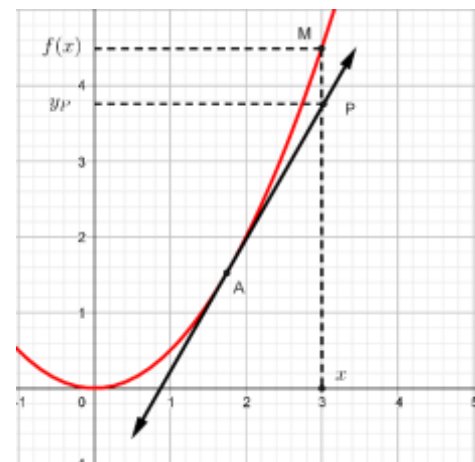
x	a
$\varphi''(x)$	+
$\varphi'(x)$	↗ 0 ↘
Signe de φ'	- 0 +
$\varphi(x)$	↘ 0 ↗

On voit bien que si f est deux fois dérivable et que $f'' \geq 0$ sur I alors

$\varphi(x) = \overline{PM} = f(x) - y_P$ est positif ce qui signifie que C_f est au-dessus de sa tangente en $A(a, f(a))$ et ceci pour tout a dans I d'où :

C_f est convexe sur I .

De même si on suppose que f'' est négative sur I on conclut que C_f est concave sur I .



Théorème :

Soit f une fonction deux fois dérivable sur un intervalle I .

- Si f'' est **positive** sur I alors C_f est **convexe** sur I .
- Si f'' est **négative** sur I alors C_f est **concave** sur I .
- Si f'' s'annule en a en changeant de signe alors C_f admet un point d'inflexion en $A(a, f(a))$

Remarque :

Les conditions du théorème précédent sont suffisantes ; on peut avoir une courbe convexe, concave ou un point d'inflexion sans l'existence même de la dérivée seconde.

Exercice :

$$f(x) = \begin{cases} -x^2, & x < 0 \\ x^2, & x \geq 0 \end{cases}$$

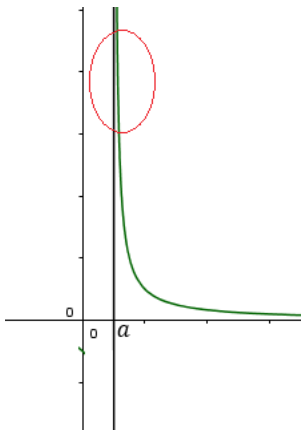
1. Montrer que f est dérivable en 0.
2. Déterminer la fonction dérivée de la fonction f sur \mathbb{R} .
3. Etudier la dérivabilité de f' en 0 ; f est-elle deux fois dérivable en 0.
4. Tracer la courbe C_f et remarquer qu'elle admet un point d'inflexion en $O(0,0)$.

II) BRANCHES INFINIES.**1) Asymptote verticale (rappelle)****Définition :**

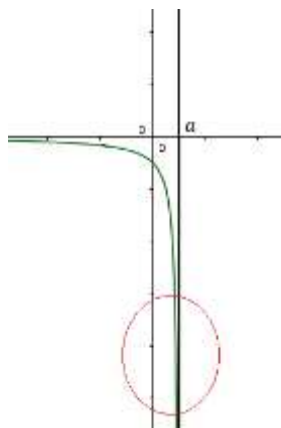
Si la fonction f vérifie l'une des limites suivantes :

$$\lim_{x \rightarrow a^+} f(x) = +\infty ; \lim_{x \rightarrow a^-} f(x) = -\infty ; \lim_{x \rightarrow a^+} f(x) = -\infty \text{ ou } \lim_{x \rightarrow a^-} f(x) = +\infty$$

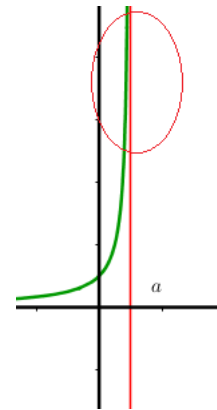
Alors, on dit que la droite $(\Delta): x = a$ est une **asymptote verticale**.

Interprétations géométriques :

$$\lim_{x \rightarrow a^+} f(x) = +\infty$$



$$\lim_{x \rightarrow a^-} f(x) = -\infty$$



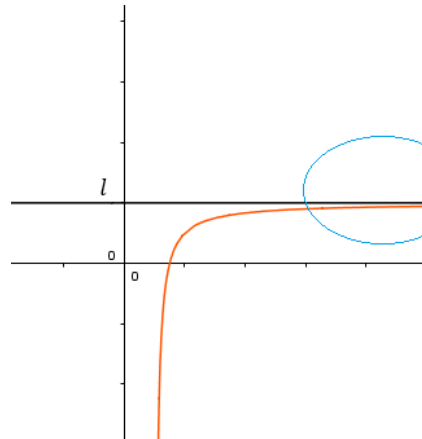
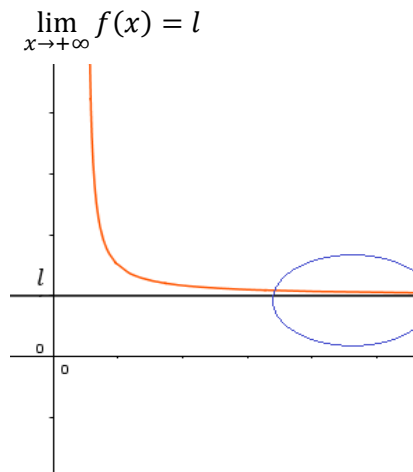
$$\lim_{x \rightarrow a^-} f(x) = +\infty$$

2) Asymptote horizontale.**Définition :**

Si la fonction f vérifie l'une des limites suivantes :

$$\lim_{x \rightarrow +\infty} f(x) = l \text{ ou } \lim_{x \rightarrow -\infty} f(x) = l$$

Alors, on dit que la droite $(\Delta): y = l$ est une **asymptote horizontale**.

Interprétation géométrique :**Remarque :**

La position de la courbe C_f par rapport à son asymptote horizontale se détermine par le signe de $f(x) - l$:

- Si $f(x) - l \geq 0$ alors C_f est au-dessus de $(\Delta): y = l$
- Si $f(x) - l \leq 0$ alors C_f est au-dessous de $(\Delta): y = l$

Exercice :

Soit f la fonction définie par : $f(x) = \frac{2x^2}{x^2-1}$

1. Déterminer l'ensemble de définition de f .
2. Déterminer les limites de f aux bornes de D_f .
3. Interpréter géométriquement les résultats obtenus.

3) Asymptote oblique.**Activité :**

Soit g la fonction définie par : $g(x) = \frac{2x^2-x}{x-1}$

1. Déterminer l'ensemble de définition D_g .
2. Déterminer les limites aux bornes de D_g
3. Effectuer la division de $P(x) = 2x^2 - x$ sur $(x - 1)$ puis en déduire que $(\forall x \in D_g) \left(g(x) = 2x + 1 + \frac{1}{x-1} \right)$
4. Déterminer $\lim_{x \rightarrow +\infty} g(x) - (2x + 1)$

On dit que la droite $(\Delta): y = 2x + 1$ est une asymptote oblique à la courbe C_g au voisinage de $+\infty$

Définition :

Soit f une fonction définie au voisinage de $+\infty$, on dit que la droite $(\Delta): y = ax + b$ où $a \neq 0$ est une asymptote oblique à la courbe C_f au voisinage de $+\infty$ si : $\lim_{x \rightarrow +\infty} f(x) - (ax + b) = 0$

Exemple :

La courbe de la fonction : $g(x) = \frac{2x^2-x}{x-1}$ a pour asymptote oblique au voisinage de $+\infty$, la droite $(\Delta): y = 2x + 1$.

Remarque :

Si la courbe C_f admet la droite $(\Delta): y = ax + b$ comme



asymptote oblique alors la position de la courbe C_f se déduit par

le signe de $\overline{PM} = f(x) - (ax + b)$.

- Si $\overline{PM} = f(x) - (ax + b) > 0$ alors C_f est au-dessus de (Δ)
- Si $\overline{PM} = f(x) - (ax + b) < 0$ alors C_f est au-dessous de (Δ) .
- Si $\overline{PM} = f(x) - (ax + b) = 0$ alors C_f est coupe (Δ) .

Propriété :

Soit f une fonction définie au voisinage de $+\infty$. La courbe C_f admet la droite $(\Delta): y = ax + b$ ($a \neq 0$) comme asymptote oblique au voisinage de $+\infty$ si et seulement s'il existe une fonction h tel que :

$$\begin{cases} f(x) = ax + b + h(x) \\ \lim_{x \rightarrow +\infty} h(x) = 0 \end{cases}$$

Preuve : Il suffit de poser : $h(x) = f(x) - (ax + b)$.

Exercice : En utilisant la division euclidienne montrer que $(\forall x \in \mathbb{R}^* / \{1\}) \left(\frac{x^3 + 2x^2 + 2x}{x^2 + x} = x + 1 + \frac{1}{x+1} \right)$

En déduire que la fonction $f(x) = \frac{x^3 + 2x^2 + 2x}{x^2 + x}$ admet une asymptote oblique au voisinage de $+\infty$ et au voisinage de $-\infty$

Propriété :

Soit f une fonction définie au voisinage de $+\infty$. La droite $(\Delta): y = ax + b$ ($a \neq 0$) est une asymptote oblique au voisinage de $+\infty$ si et seulement si :

$$\begin{cases} \lim_{x \rightarrow +\infty} \frac{f(x)}{x} = a \quad (a \neq 0) \\ \lim_{x \rightarrow +\infty} f(x) - ax = b \end{cases}$$

Preuve :

D'après la propriété précédente : On peut écrire $f(x) = ax + b + h(x)$ où $\lim_{x \rightarrow +\infty} h(x) = 0$

Donc : $\frac{f(x)}{x} = a + \frac{b}{x} + \frac{h(x)}{x}$ et donc $\lim_{x \rightarrow +\infty} \frac{f(x)}{x} = a$ (car : $\lim_{x \rightarrow +\infty} \left(\frac{b}{x} + \frac{h(x)}{x} \right) = 0$)

D'autre part : $f(x) - ax = b + h(x)$ où $\lim_{x \rightarrow +\infty} h(x) = 0$ donc $\lim_{x \rightarrow +\infty} f(x) - ax = b$

4) Branches paraboliques.

4.1) Vers l'axe (Oy)

Soit la fonction définie par : $f(x) = x^2$

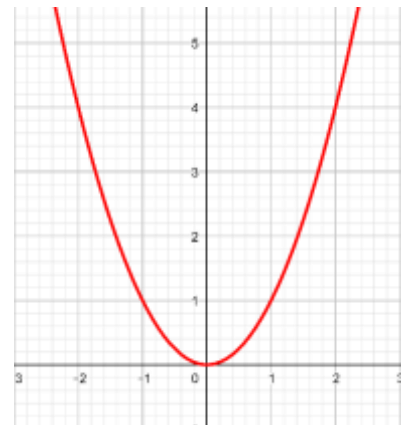
On a : $D_f = \mathbb{R}$; $\lim_{x \rightarrow +\infty} x^2 = +\infty$ et $\lim_{x \rightarrow +\infty} \frac{f(x)}{x} = \lim_{x \rightarrow +\infty} \frac{x^2}{x} = +\infty$

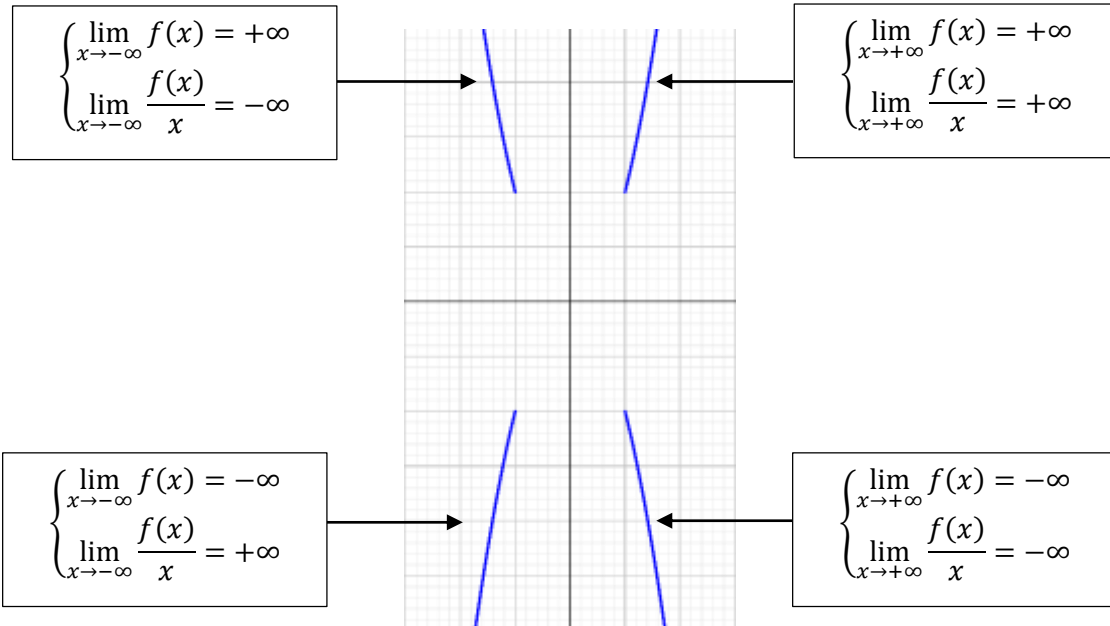
On dit que la courbe C_f admet une branche parabolique vers l'axe (Oy)

au voisinage de $+\infty$

Définition :

Soit f une fonction définie au voisinage de $+\infty$; on dit que la courbe C_f admet une branche parabolique vers l'axe (Oy) au voisinage de $+\infty$ si $\lim_{x \rightarrow +\infty} \frac{f(x)}{x} = \pm\infty$.



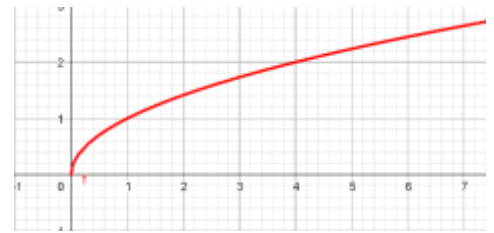
Interprétations géométriques :4.2) Vers l'axe (Ox)

Soit la fonction définie par : $f(x) = \sqrt{x}$

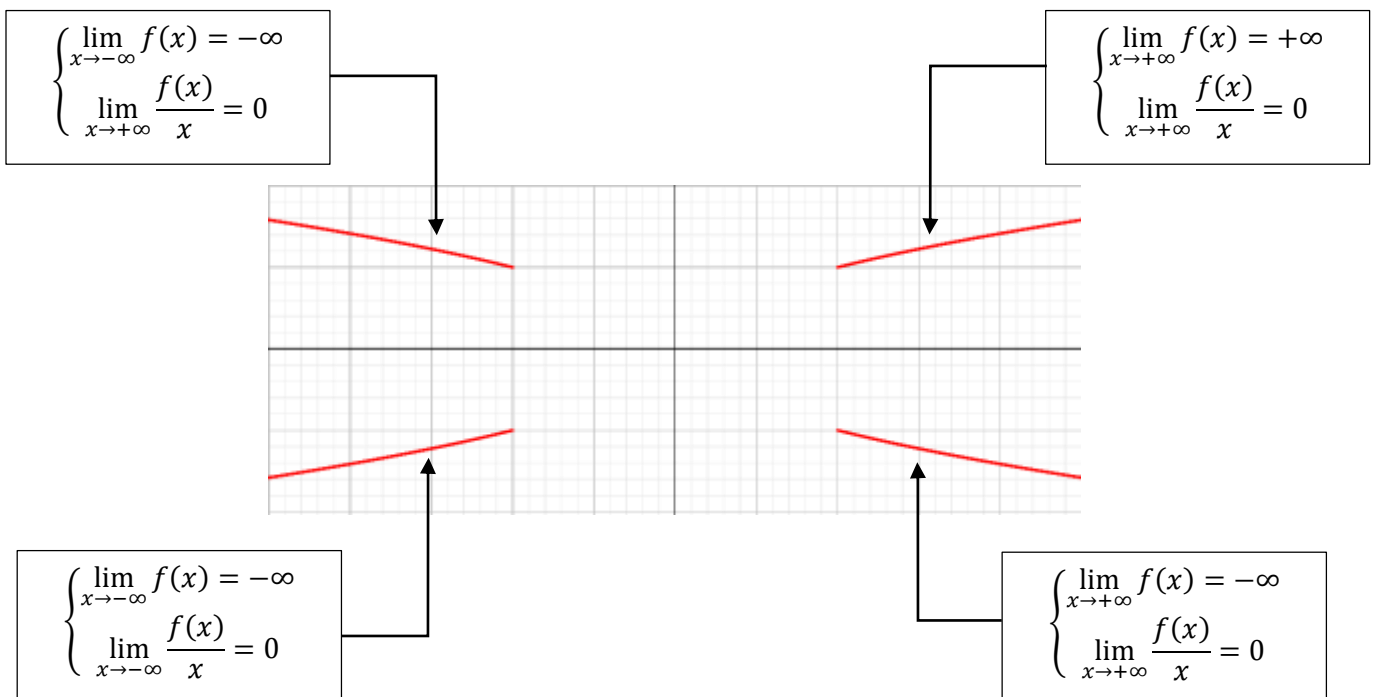
On a : $D_f = \mathbb{R}^+$; $\lim_{x \rightarrow +\infty} \sqrt{x} = +\infty$ et $\lim_{x \rightarrow +\infty} \frac{f(x)}{x} = \lim_{x \rightarrow +\infty} \frac{\sqrt{x}}{x} = 0$

On dit que la courbe C_f admet une **branche parabolique** vers

l'axe (Ox) au voisinage de $+\infty$

Définition :

Soit f une fonction définie au voisinage de $+\infty$; on dit que la courbe C_f admet une **branche parabolique** vers l'axe (Ox) au voisinage de $+\infty$ si $\lim_{x \rightarrow +\infty} f(x) = \pm\infty$ et $\lim_{x \rightarrow +\infty} \frac{f(x)}{x} = 0$.

Interprétations géométriques.

4.3) Vers l'axe (Δ): $y = ax$

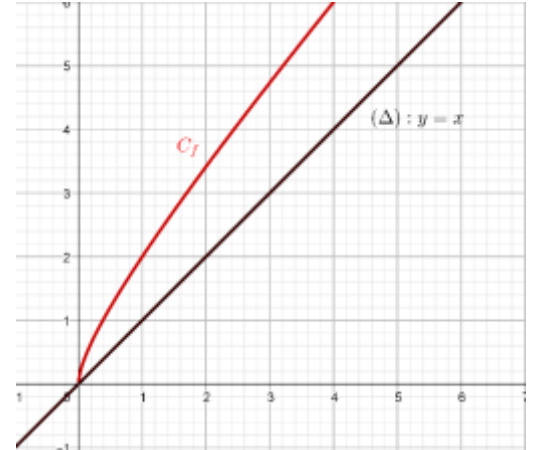
Activité :

Soit f la fonction définie sur \mathbb{R}^+ par : $f(x) = x + \sqrt{x}$

$$\text{On a : } \lim_{x \rightarrow +\infty} f(x) = +\infty \quad \lim_{x \rightarrow +\infty} \frac{f(x)}{x} = \lim_{x \rightarrow +\infty} \frac{x + \sqrt{x}}{x} = \lim_{x \rightarrow +\infty} 1 + \frac{1}{\sqrt{x}} = 1$$

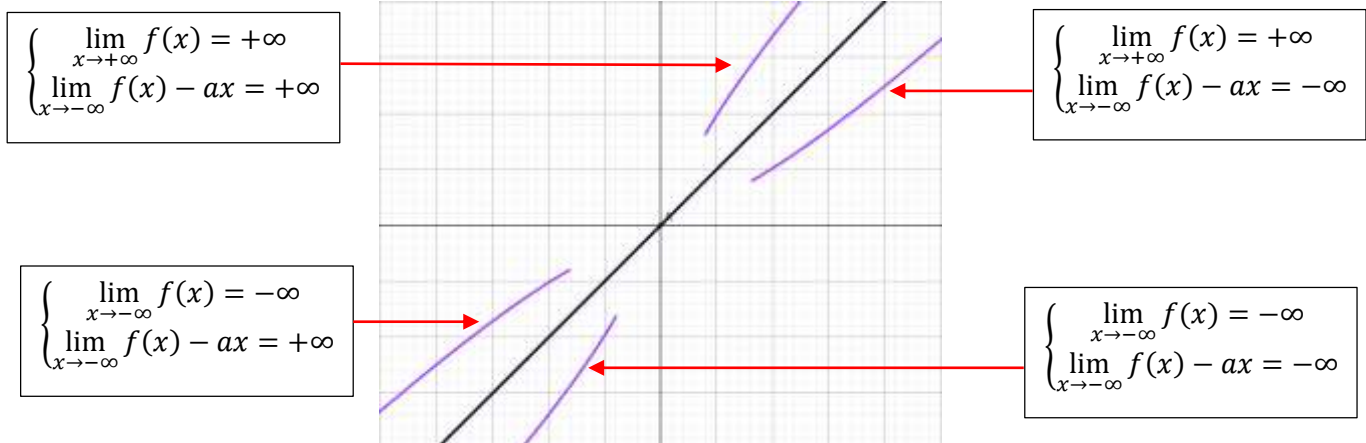
$$\text{Mais } \lim_{x \rightarrow +\infty} f(x) - x = \lim_{x \rightarrow +\infty} \sqrt{x} = +\infty$$

On dit que la courbe de la fonction **admet une branche parabolique vers la droite (Δ): $y = x$.**



Définition :

Soit f une fonction définie au voisinage de $+\infty$; si $\lim_{x \rightarrow +\infty} f(x) = \pm\infty$, $\lim_{x \rightarrow +\infty} \frac{f(x)}{x} = a$ ($a \neq 0$) et $\lim_{x \rightarrow +\infty} f(x) - ax = \pm\infty$ alors on dit que : la courbe de la fonction **admet une branche parabolique vers la droite (Δ): $y = ax$.**



III) DEMI-TANGENTE VERTICALE

Introduction :

Soit f la fonction définie sur \mathbb{R}^+ par : $(\forall x \in \mathbb{R}^+)(f(x) = \sqrt{x})$

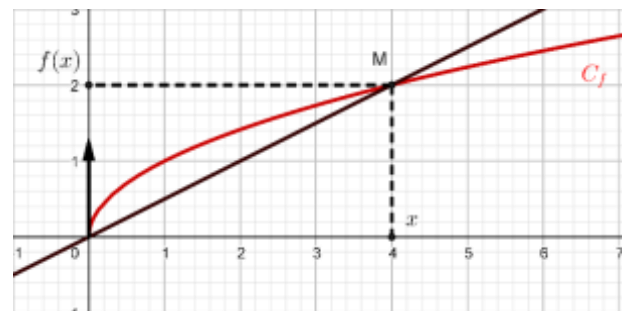
On a : $\lim_{x \rightarrow 0^+} \frac{\sqrt{x} - \sqrt{0}}{x - 0} = \lim_{x \rightarrow 0^+} \frac{1}{\sqrt{x}} = +\infty$; la fonction f n'est pas dérivable à droite de 0.

Soient $x \neq 0$ et $M(x, f(x))$ un point de la courbe C_f la droite (OM) à pour coefficient directeur $m = \frac{\sqrt{x}}{x}$ donc elle a pour

vecteur directeur $\vec{u}\left(\frac{1}{\sqrt{x}}\right) = \left(\frac{1}{\sqrt{x}}, 1\right)$ le vecteur $\vec{v}\left(\sqrt{x}, 1\right)$ est aussi

vecteur directeur de la droite (OM) si on fait tendre x vers 0 (à droite) La droite (OM) "tend" pour une position limite vers une droite (T) de vecteur directeur $\vec{j}\left(0, 1\right)$ donc

sera parallèle à l'axe (Oy) .



Propriété :

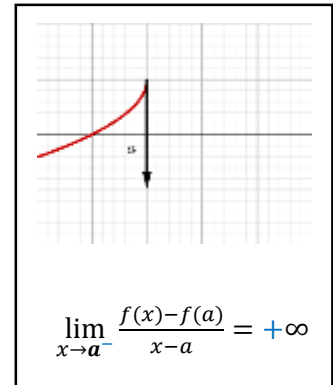
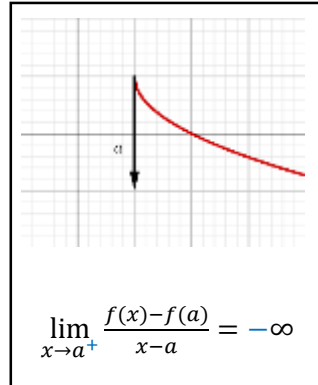
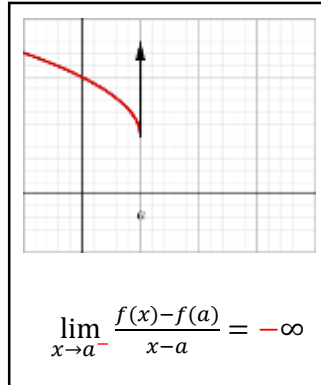
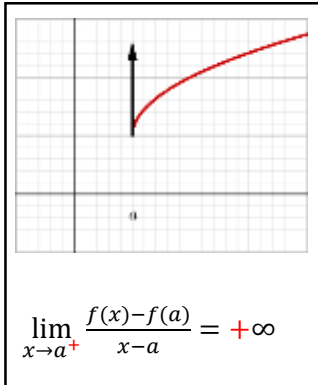
Soit f une fonction définie sur un intervalle de la forme $[a, a + r[$

Si f est continue à droite de a et $\lim_{x \rightarrow a^+} \frac{f(x) - f(a)}{x - a} = \pm \infty$ alors la courbe C_f admet une demi-tangente verticale à droite de a .

Exercice :

Soit f la fonction définie sur \mathbb{R} par : $f(x) = x - E(x)$

1. Tracer la courbe de la fonction f sur $[0, 2[$.
2. Etudier la limite $\lim_{x \rightarrow 1^-} \frac{f(x) - f(1)}{x - 1}$
3. Que remarquer vous ?.

Interprétation géométriques**IV) LES ELEMENTS DE SYMETRIE D'UNE COURBE.****1) Axe de symétrie :****Activité :**

Soit la fonction $f: \mathbb{R} \rightarrow \mathbb{R}$
 $x \mapsto \sqrt{2x^2 - 4x - 6}$

1. Déterminer D_f ensemble de définition de la fonction f .
2. Montrer que $(\forall x \in D_f)(2 - x \in D_f)$
3. Montrer que $(\forall x \in D_f)(f(2 - x) = f(x))$

Propriété :

Soit f une fonction numérique dont l'ensemble de définition est D_f .

La droite $(\Delta): x = a$ est un axe de symétrie de la courbe C_f si et seulement si : $\begin{cases} (\forall x \in D_f)(2a - x \in D_f) \\ (\forall x \in D_f)(f(2a - x) = f(x)) \end{cases}$

Preuve :

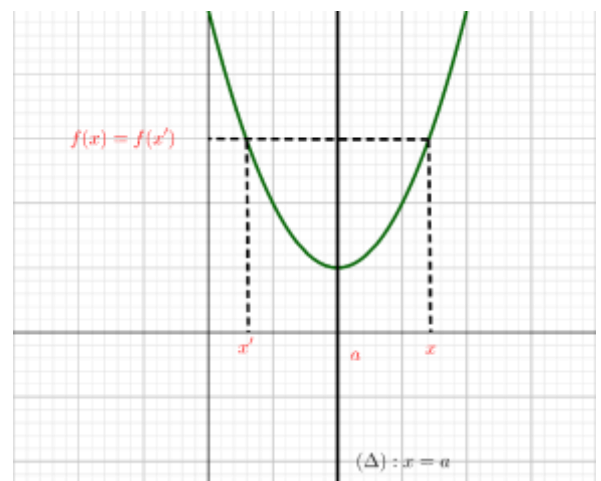
Soit x un élément de D_f et $A(x, 0)$, si $A'(x', 0)$ est le symétrique

de A par rapport à $(\Delta) x = a$ alors $\frac{x+x'}{2} = a$ (a est le centre de

l'intervalle de bornes x et x')

d'où : $x' = 2a - x$ et puisque $(\Delta) \perp (AA')$ alors

$f(x) = f(x')$ ce que signifie : $f(2a - x) = f(x)$



2) Centre de symétrie.

Propriété :

Soit f une fonction numérique dont l'ensemble de définition est D_f .

Le point $\Omega(a, b)$ est un centre de symétrie de la courbe C_f si et seulement si :
$$\begin{cases} (\forall x \in D_f)(2a - x \in D_f) \\ (\forall x \in D_f)(f(2a - x) = 2b - f(x)) \end{cases}$$

Preuve :

$\Omega(a, b)$ étant centre de symétrie de la courbe C_f , si $M(x, f(x))$ est un point de C_f alors sont symétrique M' par rapport à Ω est un point de C_f . soit $M'(x', f'(x'))$ on a : $\frac{x+x'}{2} = a$ et $\frac{f(x)+f(x')}{2} = b$

car a est le centre de l'intervalles de bornes x et x' et b est le centre de l'intervalles de bornes $f(x)$ et $f(x')$

Par suite : $x' = 2a - x$ et $f(x') = 2b - f(x)$ et finalement :

$$f(2a - x) = 2b - f(x)$$

Exercice :

Soit f la fonction définie sur \mathbb{R} par : $f(x) = ax^3 + bx^2 + cx + d$

Montrer que le point d'inflexion de C_f est son centre de symétrie. (c'est valable uniquement pour ces fonctions)

